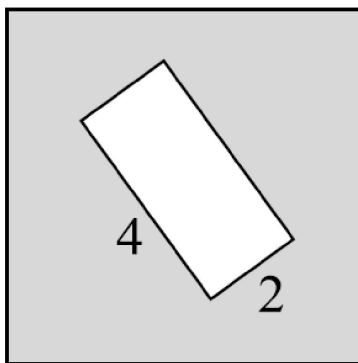


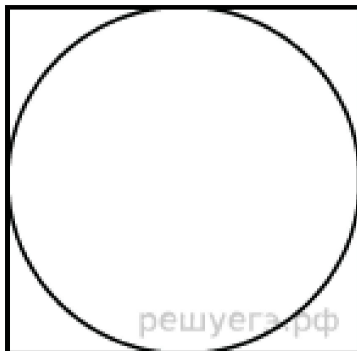
**№1** Периметр квадрата равен 40. Найдите площадь квадрата

**№2** Из квадрата вырезали прямоугольник (см. рисунок). Найдите площадь оставшейся части фигуры.



решуегэ.рф

**№3** Найдите площадь квадрата, описанного вокруг окружности радиуса 83.




решуегэ.рф

**№4 Одно ребро прямоугольного параллелепипеда равно 12см, второе – в 4 раза больше первого, а третье – на 16 см больше первого. Найдите объем прямоугольного параллелепипеда**

**№5 Длина аквариума 80см, ширина 45 см, высота 55см. Сколько литров воды надо влить в этот аквариум, что бы уровень воды был ниже верхнего края аквариума на 10 см?**



**№6 Найти площадь прямоугольного участка земли, если разность сторон 13 м, а сумма 25 м**



**№7 Найдите площадь прямоугольника, при условии, что его периметр равен периметру квадрата со стороной 8 см и длина прямоугольника больше ширины в 3 раза.**

