

В одной вазе **5** роз, а в другой на **2** больше. Сколько роз во второй вазе? Сколько всего роз в двух вазах?

$$5 + 2 = 7$$


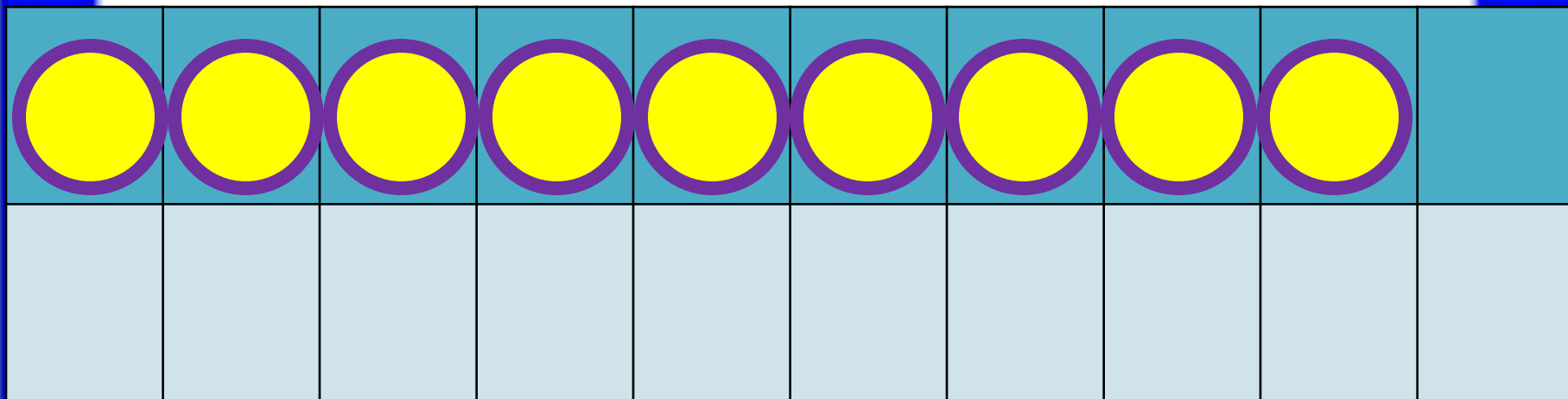


$$5 + 7 = 12$$




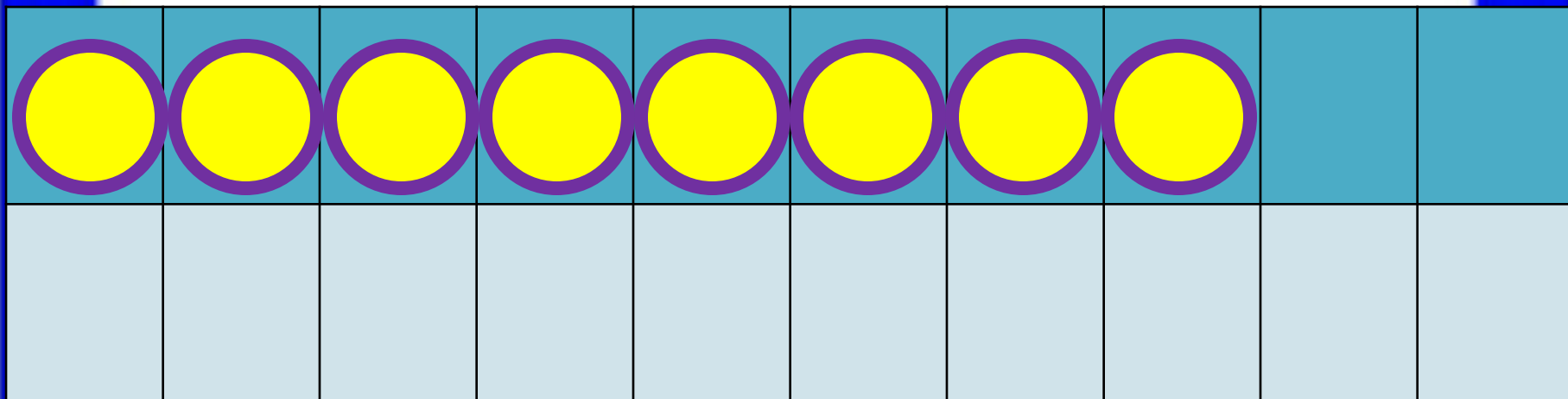
*Устно*

**? на 2  
больше**




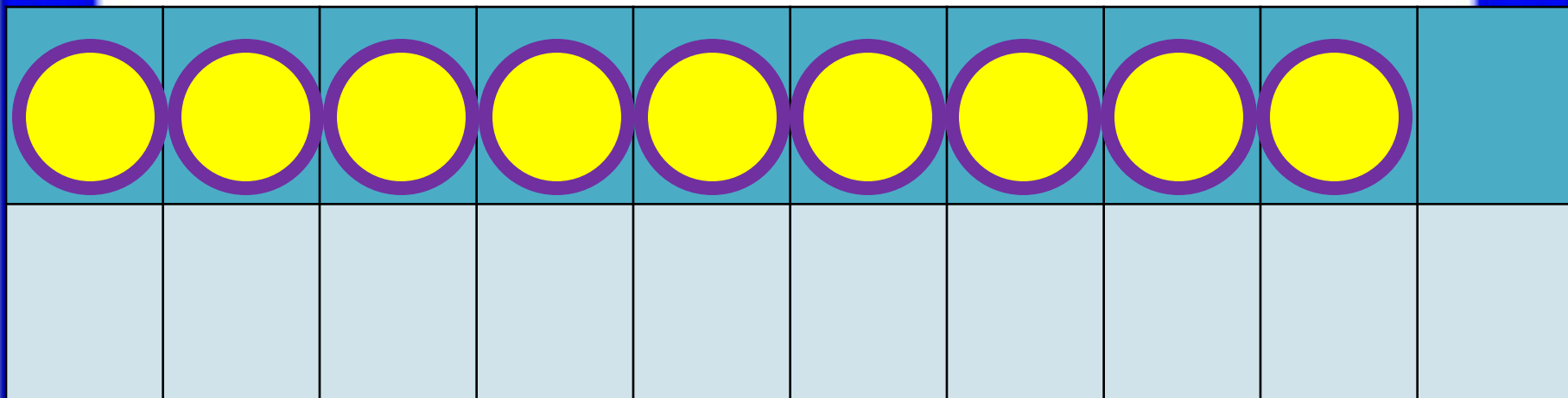
$$9 + 2$$

$$9 + 1 + 1$$



$$8 + 3$$

$$8 + 2 + 1$$



$$9 + 3$$

$$9 + 1 + 2$$

**Запомни!**

$$9 + 2 = 11$$


$$8 + 3 = 11$$

$$9 + 3 = 12$$

Объясни, как к числу 9 прибавить 2.



$$\begin{array}{r} 9 + 2 \\ \hline 9 + 1 + 1 \end{array}$$



Рассуждая так же, вычисли.

$$\begin{array}{r} 9 + 3 \\ \hline 9 + 1 + \square \end{array}$$

$$\begin{array}{r} 8 + 3 \\ \hline 8 + 2 + \square \end{array}$$

**Запомни!**

$$9 + 2 = 11$$

$$9 + 3 = 12$$

$$8 + 3 = 11$$

*В тетрадку решаем и записываем №1, №2, №3. По желанию №4*

1.	$8 - 5 - 2$	$0 + 9 - 8$	$8 - 6 + 10$
	$10 - 7 - 2$	$8 + 2 - 4$	$7 - 5 + 10$
	$10 - 8 - 2$	$6 + 0 - 5$	$9 - 7 + 10$

2. Зина купила 6 тетрадей в клетку, а тетрадей в линейку на 2 меньше. Сколько всего тетрадей купила Зина?

3. В большом ведре помещается 10 л воды, а в маленьком — 4 л. Сколько всего ... ?

4. Мама собрала 16 кг яблок. Из 6 кг яблок она сварила варенье. Сколько ... ?