

Развитие психических процессов




Подбери подходящую по смыслу

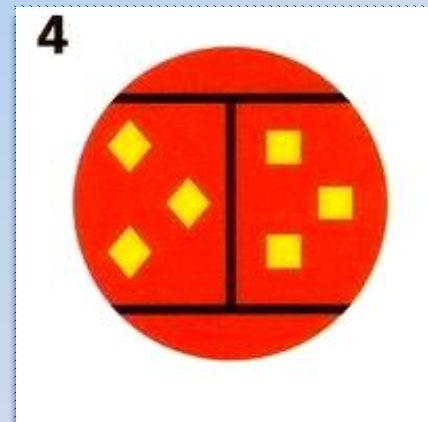
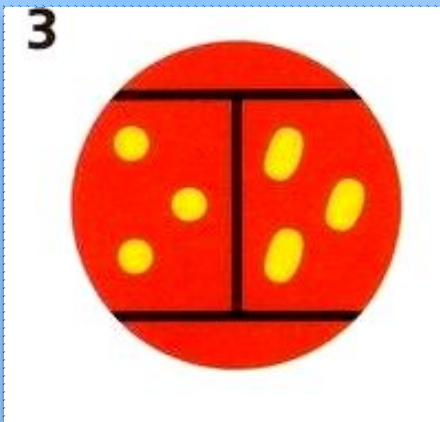
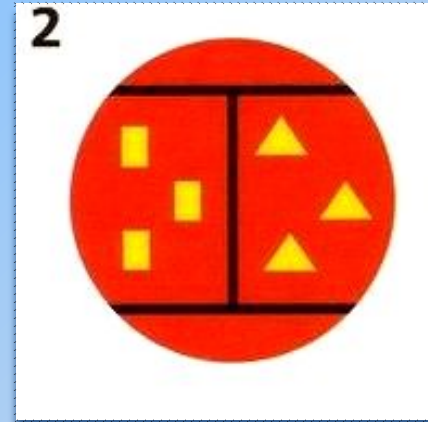
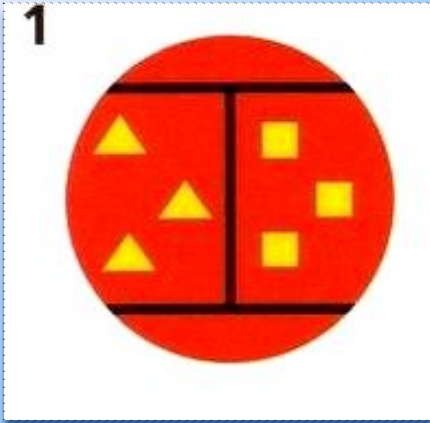
тару



Подставь фигуру вместо знака вопроса



Найди лишнюю картинку. Объясни свой выбор



Как будет выглядеть салфетка в развернутом виде, если сложить ее вчетверо и отрезать от нее часть?



1



2



3



4



Нарциссы расцветают раньше, чем тюльпаны, гладиолусы позже, чем тюльпаны, а астры позже чем гладиолусы. Какие цветы расцветают последними?

1



ТЮЛЬПАНЫ

2



НАРЦИССЫ

3



АСТРЫ

4



ГЛАДИОЛУСЫ



Тюльпаны расцветают раньше, чем гладиолусы, гладиолусы позже, чем нарциссы, а астры позже чем гладиолусы. Какие цветы расцветают первыми?

1



ТЮЛЬПАНЫ

4



ГЛАДИОЛУСЫ

2



НАРЦИССЫ

3



АСТРЫ



Какой предмет на рисунках лишний? Почему?



Если мысленно собрать заготовку, какой из кубиков получится?



1



2




3



4



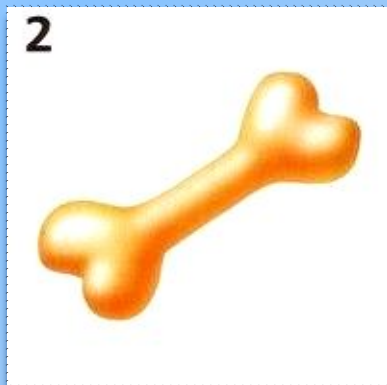
Поставь нужный предмет вместо знака вопроса.



1



2



3







4



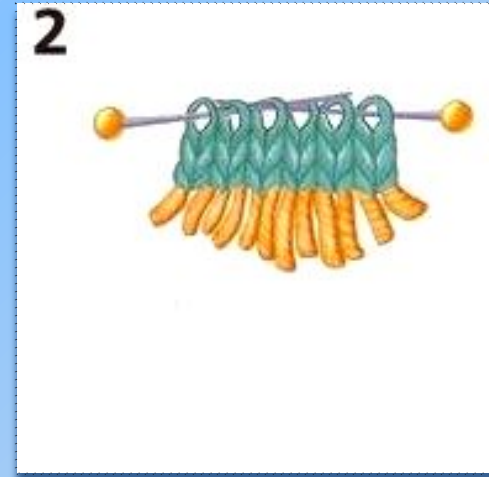
Закончи орнамент







Какой рисунок поставишь вместо знака вопроса?



Какой из шарфов начали вязать раньше других?



Залатай коврик так, чтобы не нарушить его узор.



Какую картинку художник нарисовал верно?

1



2







3



4



Реши задачу. По двору ходили гуси. У всех гусей Саша насчитал 6 лап. Сколько гусей гуляло во дворе?



Дочь приходит домой раньше, чем мама, сын приходит домой раньше, чем дочь. Папа приходит домой позже, чем мама, мама приходит домой позже, чем сын. Кто приходит домой первым?

1



МАМА

2



СЫН

3



ПАПА

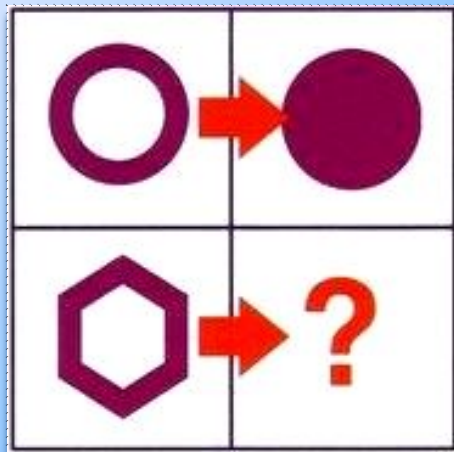
4



ДОЧЬ



Какую фигуру поставишь вместо знака вопроса?



1



2






3



4



Мысленно соедини части фигур на каждом рисунке и найди похожий на образец?



Подбери заплатку к коврику

