



Рисунок 11.1.3.2.
Кости ископаемого мезозавра



Рисунок 11.1.3.3.
Окаменевшая кладка яиц
динозавров






Рисунок 11.1.3.4.
Паук в янтаре

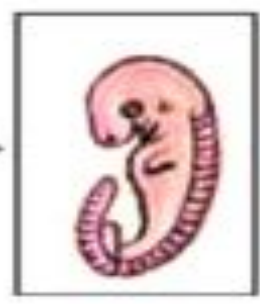
Черепаша



Курица



Кролик



Общий план строения скелета позвоночных

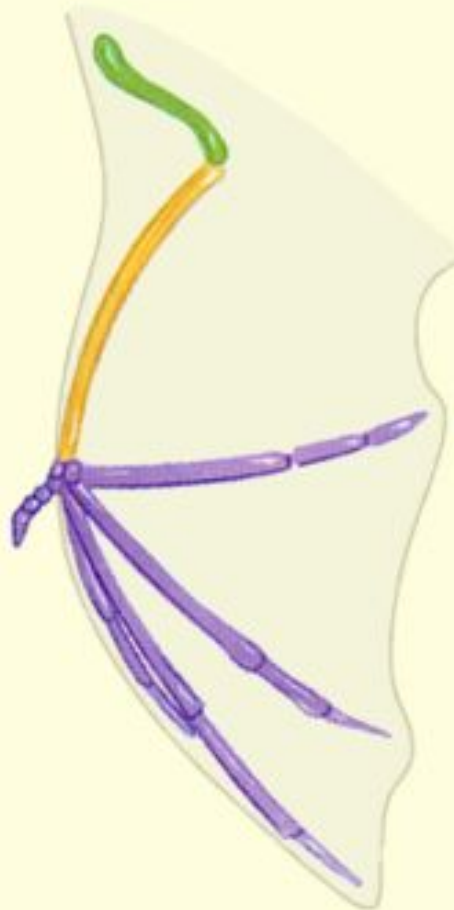




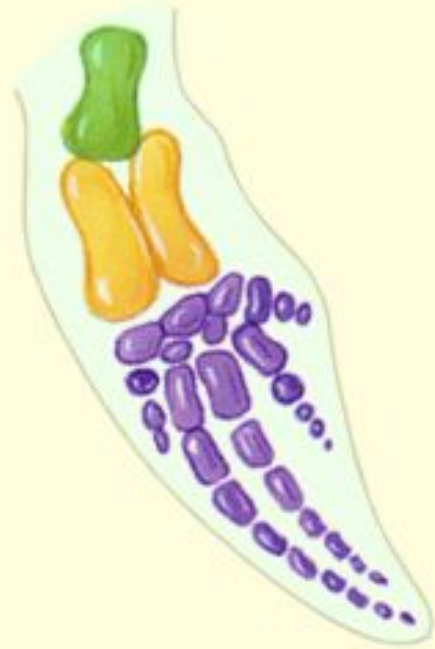
Человек



Лягушка



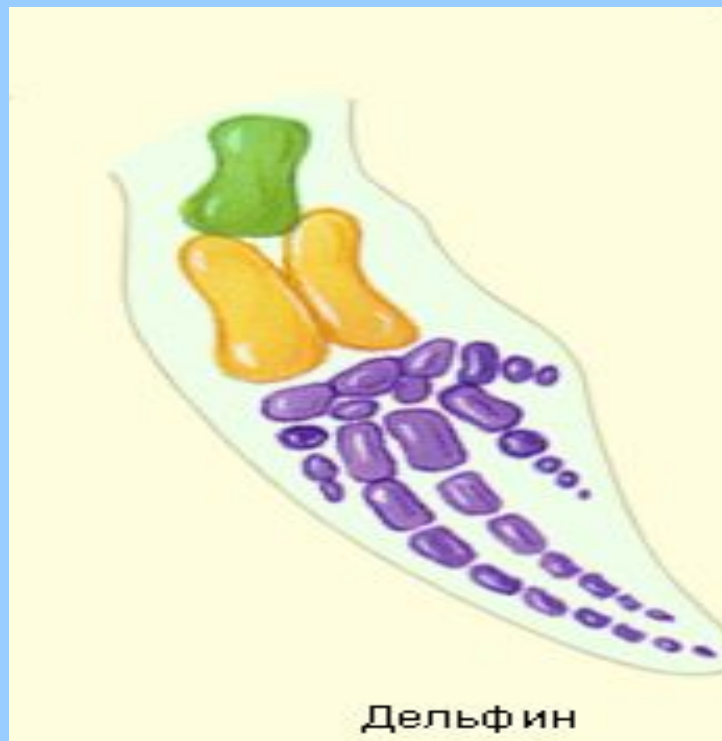
Летучая мышь



Дельфин



Лошадь



Задание для самостоятельной работы

- Прочтите текст на стр. 257
- Выясните, что такое изменчивость
- Какие формы изменчивости выделял Ч.Дарвин
- Составьте краткий рассказ по теме (5 – 6 предложений)
- Прочтите текст на стр. 258
- Выясните, что такое борьба за существование и естественный отбор
- Составьте два небольших рассказа (3 – 4 предложения)

Какие причины эволюции животного мира называл Ч. Дарвин?

- - изменчивость
- - наследственность
- - борьба за существование
- - естественный отбор

Что Ч.Дарвин считал основной движущей силой эволюции?

естественный отбор

Как вы думаете почему ?

Домашнее задание

- Изучить § 50, проработать определения
- В рабочей тетради выполнить № 4 на стр. 128
- **По желанию** создать слайды, разъясняющие основные причины эволюции (1 – 2 слайда)