







ПРАКТИЧЕСКИЕ ЗАДАНИЯ НА ЗНАНИЕ ДОРОЖНЫХ ЗНАКОВ

The background is a solid blue color. On the right side, there are several white lines of varying thicknesses that start from the bottom and extend towards the top right corner, creating a sense of motion or a road.

Задание – 8.

**Впишите в правых окошках название изображенных
дорожных знаков**

| | | | |
|---|--|---|--|
|  | |  | |
|  | |  | |
|  | |  | |

НАЙДИ
НАЗВАНИЕ
ДЛЯ
КАЖДОГО
ЗНАКА

Пешеходный
переход

Движение без
остановки
запрещено

Дети

Железнодорожный
перезд без
шлагбаума



Велосипедная
дорожка



Место остановки
автобуса и (или)
троллейбуса



Движение
пешеходов
запрещено

Пункт первой
медицинской
помощи

Пункт питания

Тестовое задание. Выберите правильный ответ.

1. Что означает этот знак?

- а) запрещает детям переход улицы;
- б) предупреждает о возможном появлении детей;
- в) указывает место перехода улицы.



2. Какой из знаков называется «Опасный поворот»?

1



2



3



3. Какой из знаков предупреждает о том, что впереди железнодорожный переезд без шлагбаума?

1



2



4. Какая из улиц является второстепенной?

- а) ул. Комсомольская;
- б) ул. Пионерская.



5. Какой знак предупреждает водителя о приближении к пешеходному переходу?

1



2



3



6. Какой из знаков указывает место подземного перехода?

1



2



3



7. Какой из дорожных знаков разрешает движение на велосипеде?

1



2



3



8. Кто из велосипедистов обязан уступить дорогу?



9. В какой последовательности автомобили проедут перекрёсток?



Задание 2. Соедини линией знак и место, где он должен стоять.



Знак, предупреждающий
об опасном
резком повороте дороги



Знак, запрещающий
езду на велосипеде



Знак территории,
свободной от транспорта, —
пешеходная зона

Конец велосипедной
дорожки

Опасный
поворот дороги

Прогулочная аллея

Задание 2. Распределите дорожные знаки по группам.

Распределите дорожные знаки по группам:

1.



2.



3.



4.



5.



6.



7.



8.



Запрещающие знаки: _____

Предупреждающие знаки: _____

Предписывающие знаки: _____



Задание: Назови знаки дорожного движения, к какой группе они относятся.