

Подготовка к впр

Задание 1

- **Задание 1 № [217](#)**
- Найди значение выражения $68 - 39$.

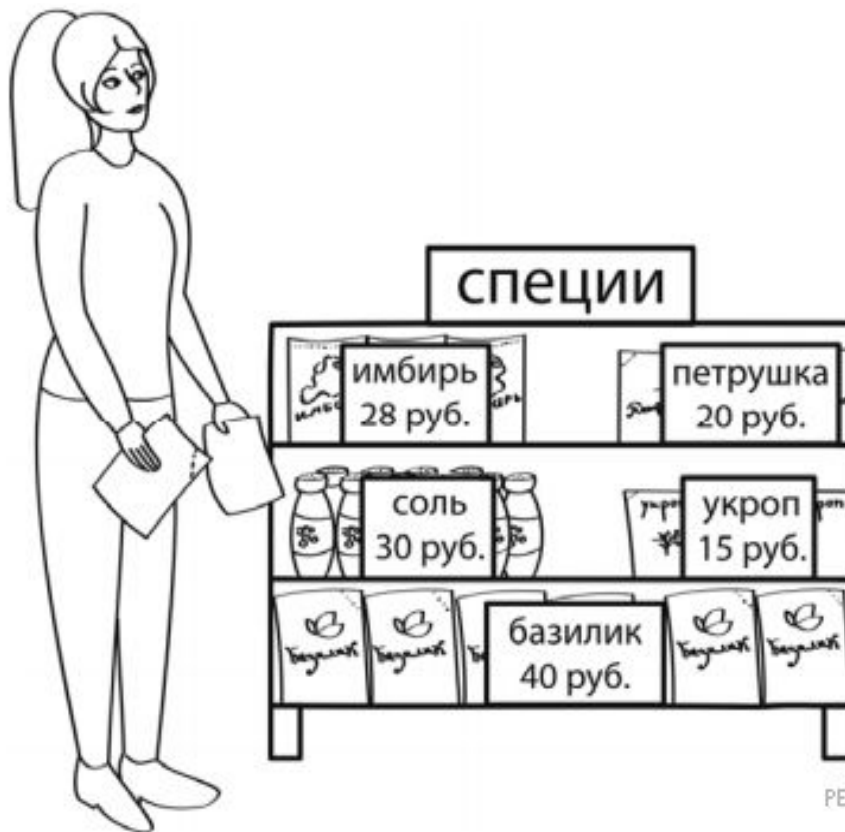
Ответ 29

Задание 2

- **Задание 2 № [249](#)**
- Найди значение выражения $21 + 9 \cdot (19 + 1)$.

- Ответ 201

- **Задание 3 № [79](#)**
- **Рассмотри рисунок и ответь на вопрос: сколько рублей сдачи получит покупатель, расплатившийся за один пакет имбиря и один пакет петрушки купюрой в 100**



-
- **Решение.**
- Решение:
- 1) $28 + 20 = 48$ (руб.) — стоимость покупки;
- 2) $100 - 48 = 52$ (руб.) — сдача.
- Ответ: 52 руб.
-

- **Задание 4 № [1638](#)**
- Спектакль продолжался 1 час 40 минут и закончился в 14 часов 10 минут. В котором часу спектакль начался?

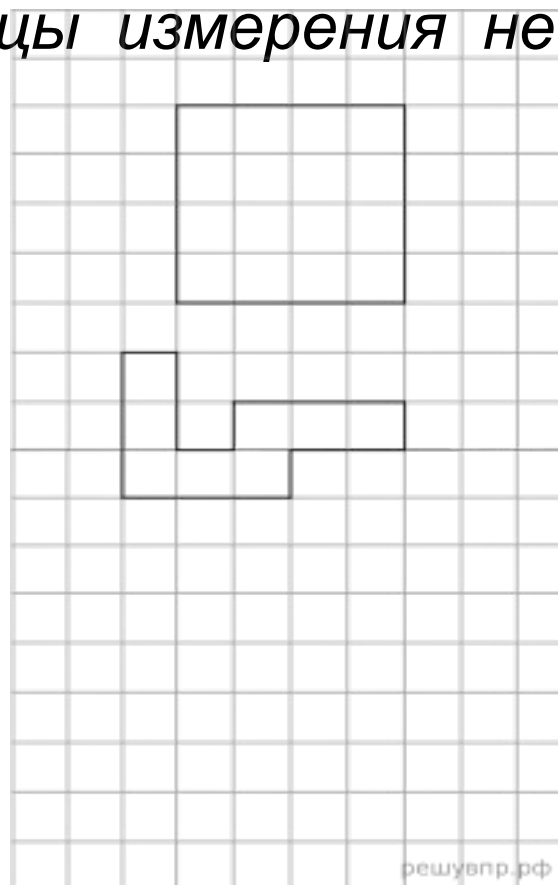
- Ответ 12 ч 30 мин

- **Задание 5.1 № [994](#)**

- На клетчатой бумаге нарисован квадрат, а ниже — некоторая фигура. Площадь квадрата равна 32 кв. см.

- Найди площадь этой фигуры. Ответ дай в кв. см.

- *В ответе писать единицы измерения не нужно.*



-

Решение.

- Заметим, что площадь одной клетки равняется $32 : 4 : 4 = 2$ кв. см.

- **Задание 5.2 № [995](#)**
- На клетчатой бумаге нарисован квадрат, а ниже — некоторая фигура. Площадь квадрата равна 32 кв. см.
- Нарисуй по клеточкам прямоугольник, площадь которого равна 16 кв. см.

- **Задание 6.1 № [344](#)**

- Три школьных товарища любят компьютерные игры. Каждый день на перемене они делятся своими успехами и заносят в таблицу количество пройденных уровней игры

День недели	Имя		
	Данила	Юра	Сергей
Понедельник	3	7	5
Вторник	5	1	0
Среда	2	6	7
Четверг	1	5	3
Пятница	4	0	6

Какой день недели был самым неудачным для Юры?

ПЯТНИЦА

Задание 6.2 № 625

Три школьных товарища любят компьютерные игры. Каждый день на перемене они делятся своими успехами и заносят в таблицу количество пройденных уровней игры.

День недели	Имя		
	Данила	Юра	Сергей
Понедельник	3	7	5
Вторник	5	1	0
Среда	2	6	7
Четверг	1	5	3
Пятница	4	0	6

Текст

Сколько всего уровней за все дни прошёл Данила?

15

- **Задание 7 № [369](#)**

Найди значение выражения $5000 : 100 \cdot 36 + 302 \cdot 390$.

-

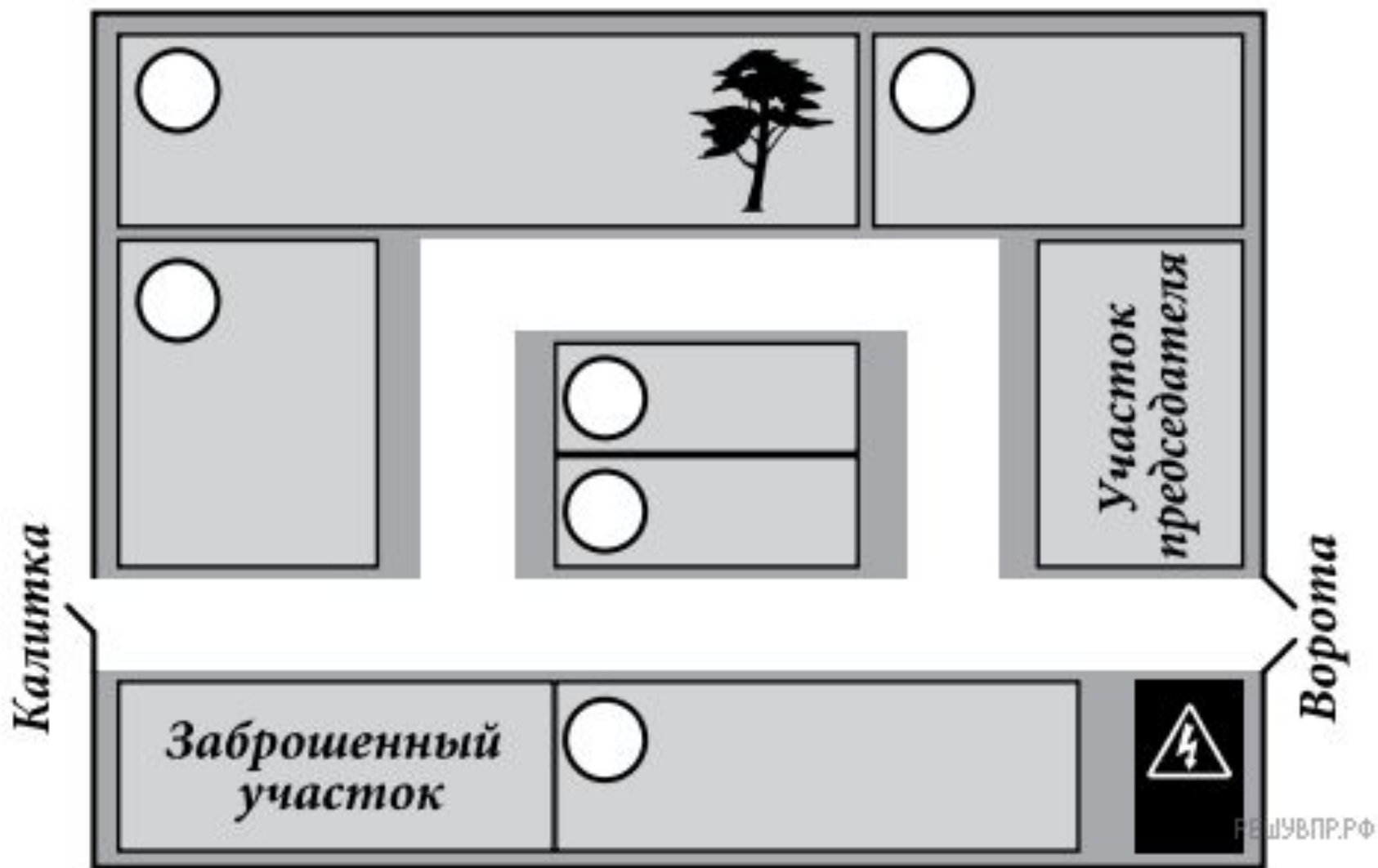
Ответ:

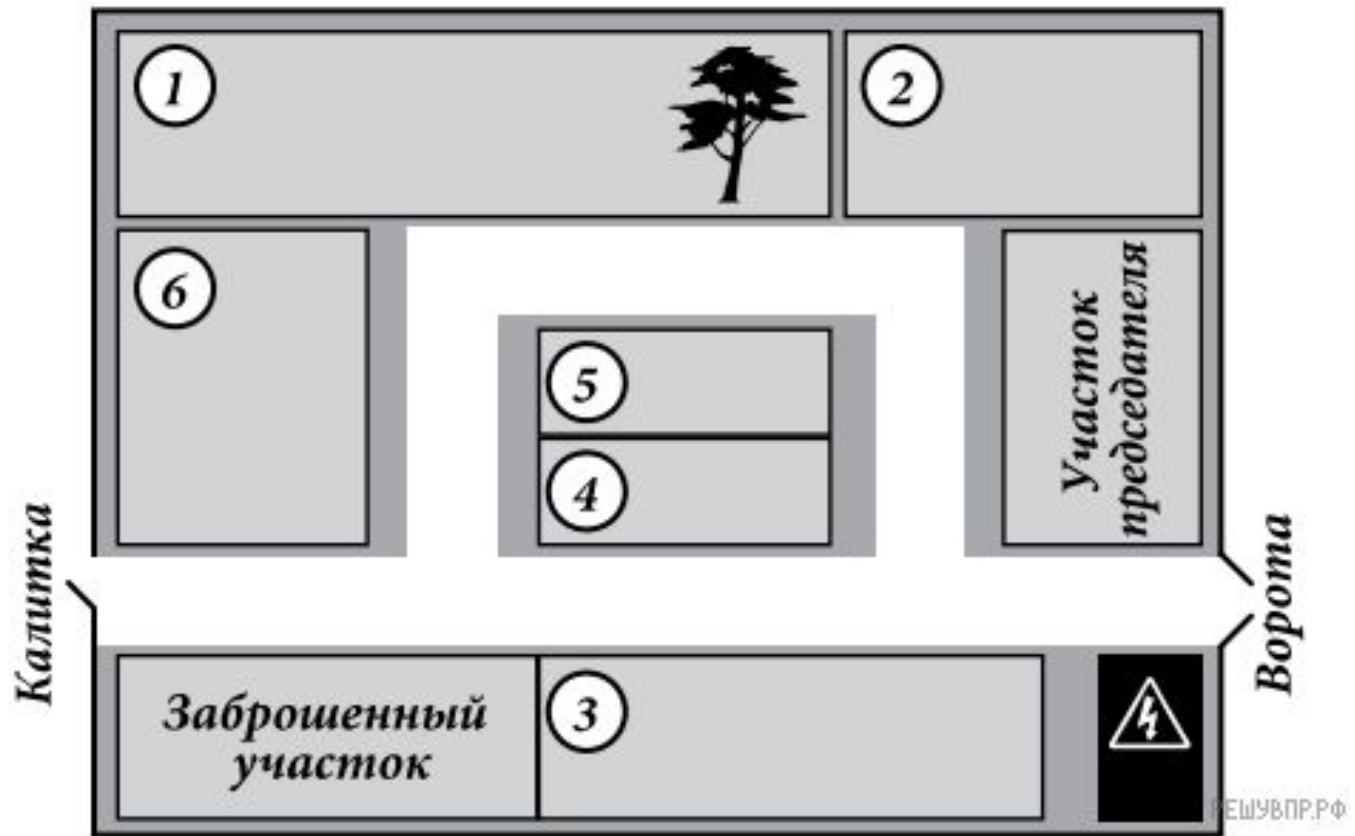
119580

- **Задание 10 № [2681](#)**

- Катя написала сочинение «На даче у бабушки»

- *Летом я езжу на дачу к бабушке. Она живёт не в деревне, а в садовом товариществе. У моей бабушки самый большой участок, и на нём растёт большая сосна. Больше сосен нигде нет. Наша соседка Валентина Петровна говорит, что сосна затеняет ей грядки, но мы ни за что не будем пилить нашу сосну. С другой стороны от нашего дома живёт Сергей Петрович. Его дача прямо около калитки, через которую мы ходим на речку. А если нужно в магазин, то мы выходим через главные ворота, которые около трансформаторной будки. На будке нарисован знак — молния в треугольнике. Будка всё время гудит и мешает ночью спать Алексею Ивановичу — у него участок рядом с будкой.*
- *Посередине у нас два маленьких участка. Там живут Елена Петровна и Евгений Иванович. Наша сосна бросает тень на огород Евгения Ивановича тоже. Но он не ругается, а, наоборот, радуется, что есть такая большая сосна. Калитка у Елены Петровны выходит на другую сторону — к даче Алексея Ивановича. По вечерам они вместе пьют чай, и он рассказывает Елене Петровне страшные истории про трансформаторную будку и заброшенный участок, который рядом с его дачей.*
- **Рассмотри план садового товарищества и, пользуясь описанием, которое дала Катя, обозначь цифрами на плане шесть участков.**
 1. участок, где живут Катя и её бабушка
 2. участок Валентины Петровны
 3. участок Алексея Ивановича
 4. участок Елены Петровны
 5. участок Евгения Ивановича
 6. участок Сергея Петровича





Молодец 5+