

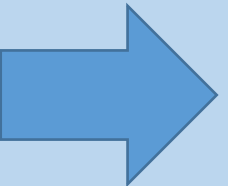
**Виды многоугольников.  
Свойства квадрата и  
прямоугольника. Спорт и  
туризм укрепляют  
организм.**

**Математика 2 класс**

Число, в котором 6 десятков и 3 единицы

**63**

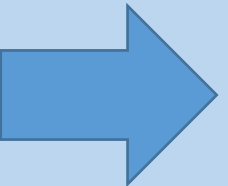
**36**



Число, которое при счёте стоит за числом  
67

**66**

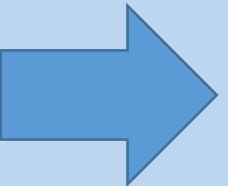
**68**



Сколько получится, если 40 увеличить на 12

**62**

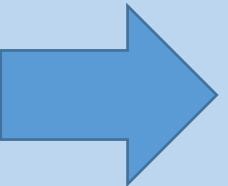
**52**



От какого числа нужно отнять 23, чтобы  
получилось 30?

**53**

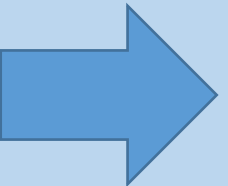
**13**



СКОЛЬКО ДМ В 400 СМ?

4

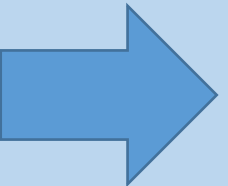
40



На сколько 32 больше 27?

5

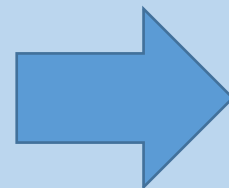
8



Найти сумму чисел 52 и 18

**60**

**70**

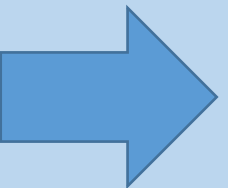




К разности чисел 20 и 15 прибавить 5

**40**

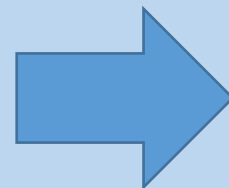
**10**






Чему равен X?  
 $23 - X = 16$

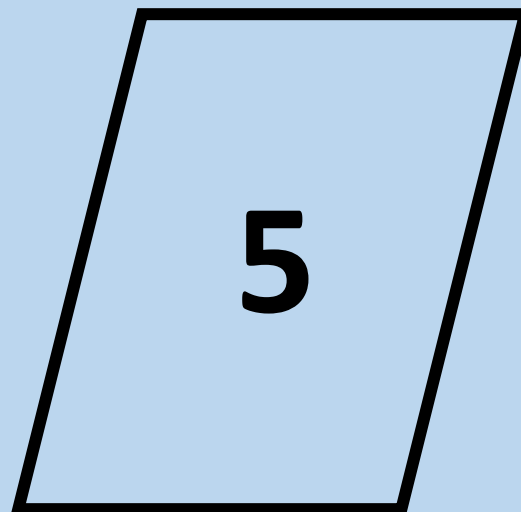
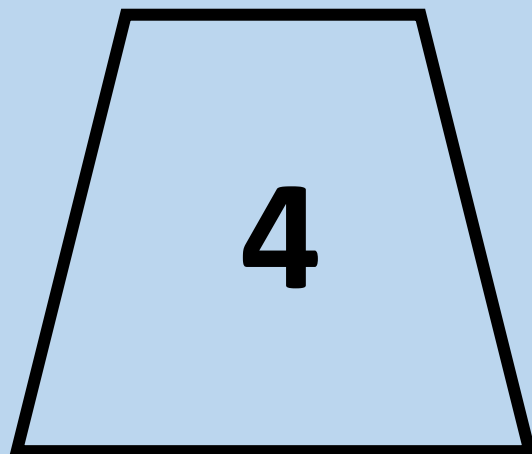
**39**




**7**





**четырёхугольник  
и**





**прямоугольник  
и**

**- Какими свойствами обладает  
прямоугольник?**

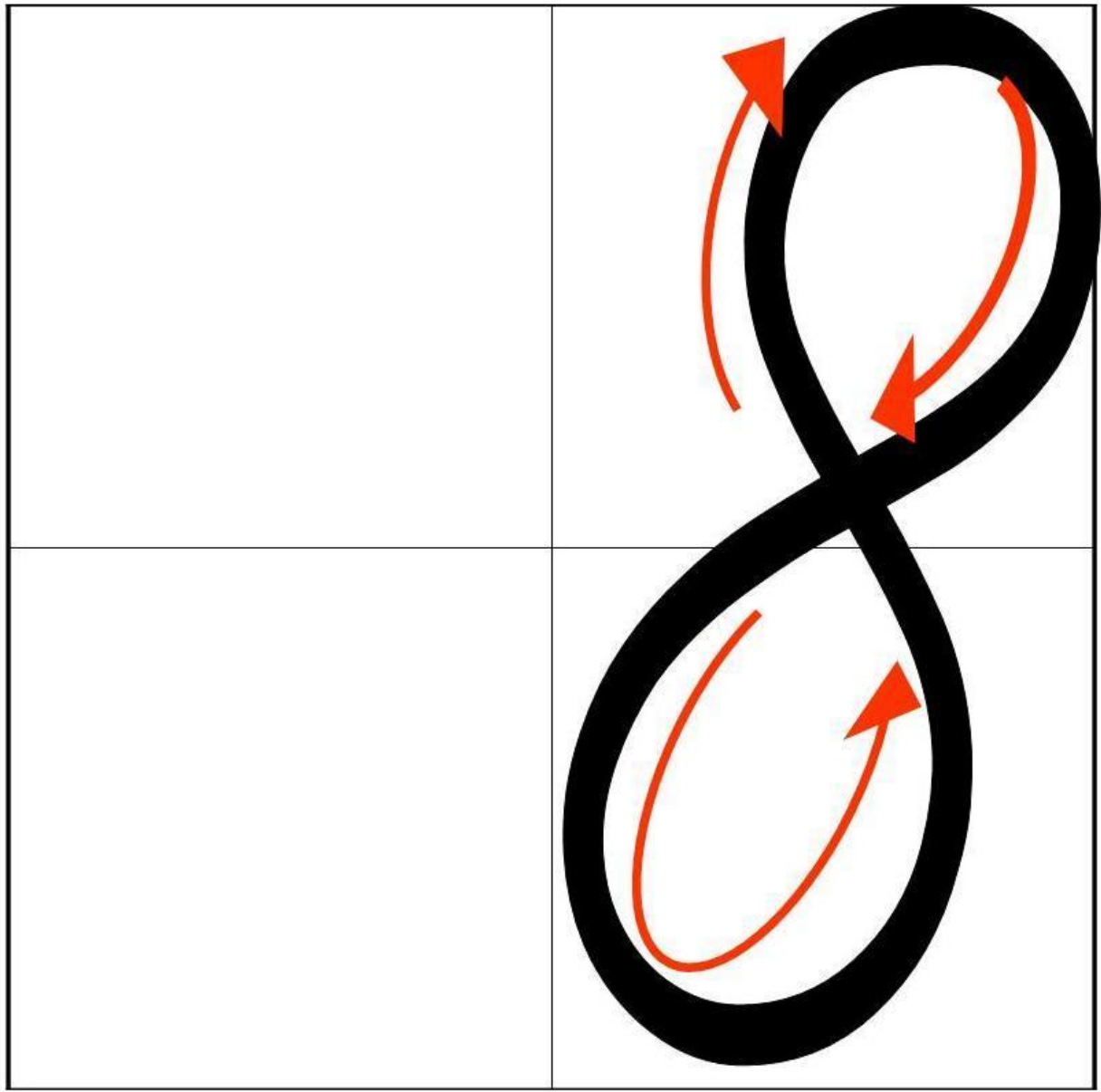
**- Какими свойствами обладает квадрат?**

**Смогу отличить.....**

**Назову свойства...**

**Сравню свойства .... и ...**

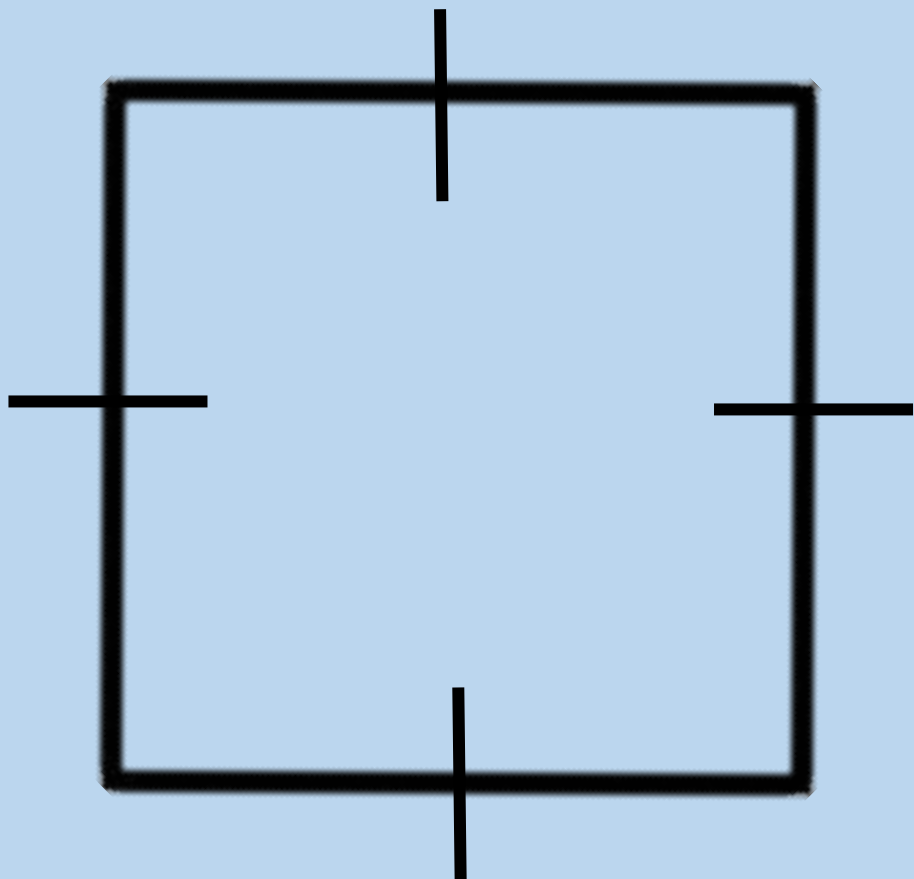






**1) Все углы  
прямые.**

**2)  
Противоположные  
стороны равны.**



**1) Все углы  
прямые.**

**2) Все стороны  
равны.**



$$56-24+(32-20)-5 =$$

В спортивном лагере на зарядку  
вышли 45 мальчиков, а девочек  
на 17 меньше. Сколько всего  
человек вышли на зарядку?

Мне было всё

понятно и я могу.....

Я не понял как....