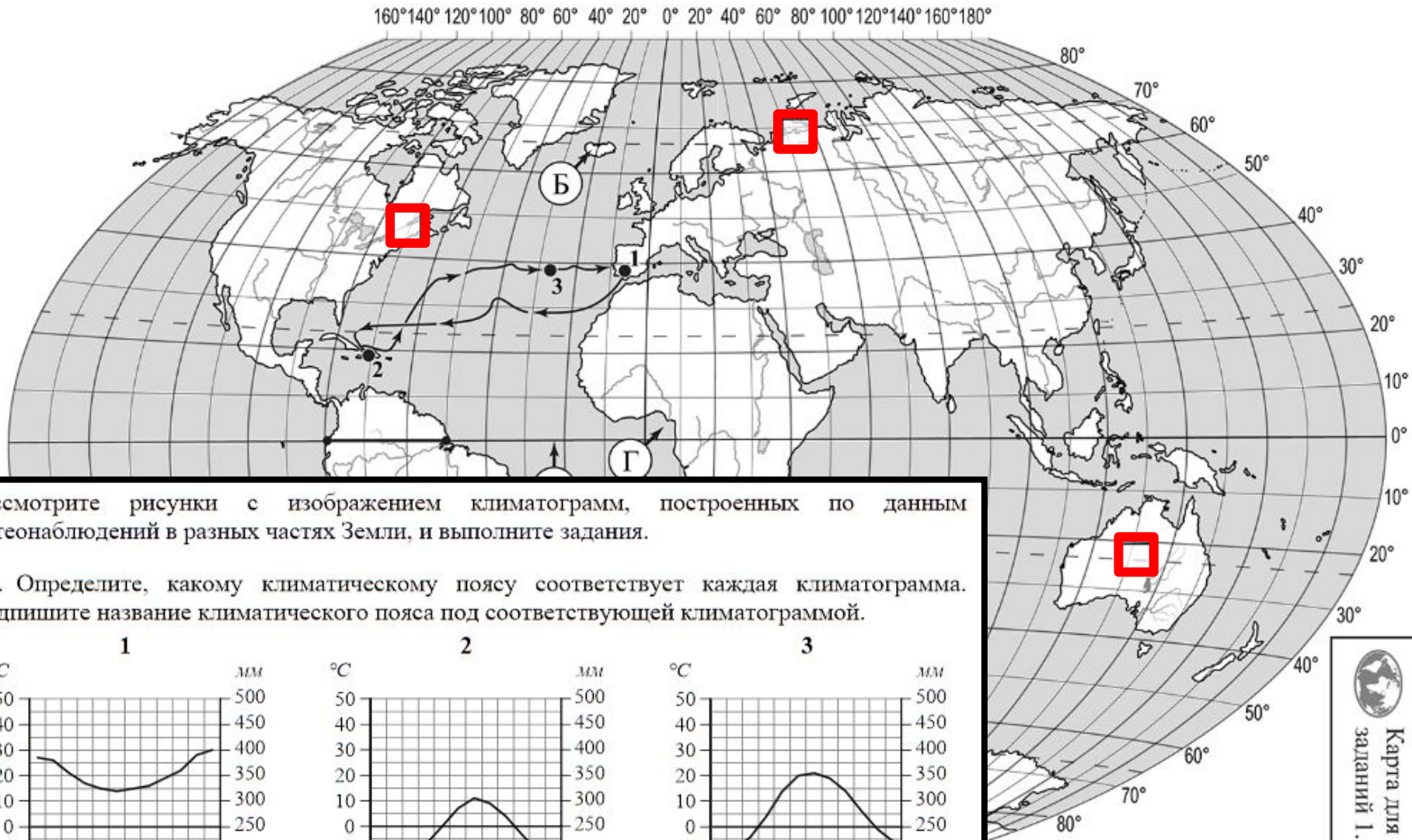
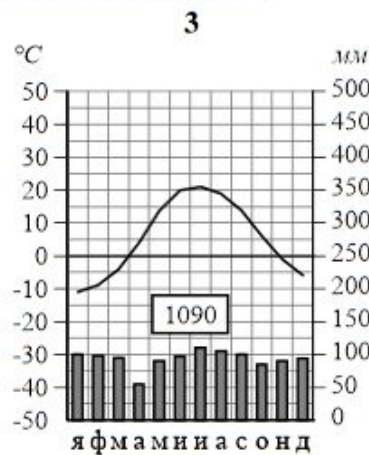
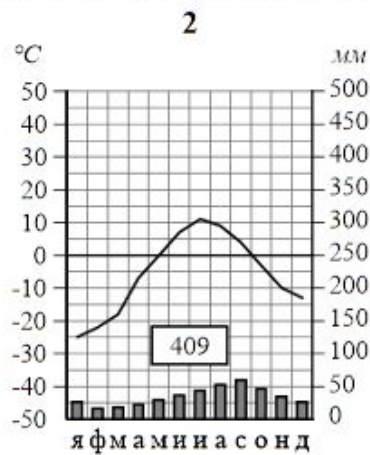
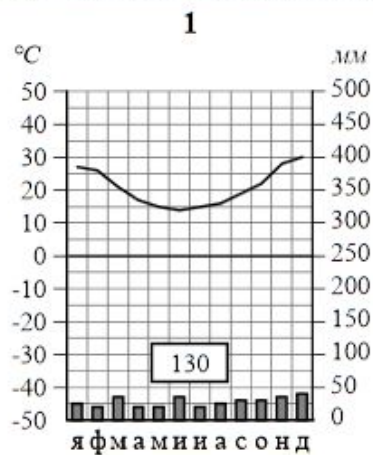


Задания ДКР, 8 класс



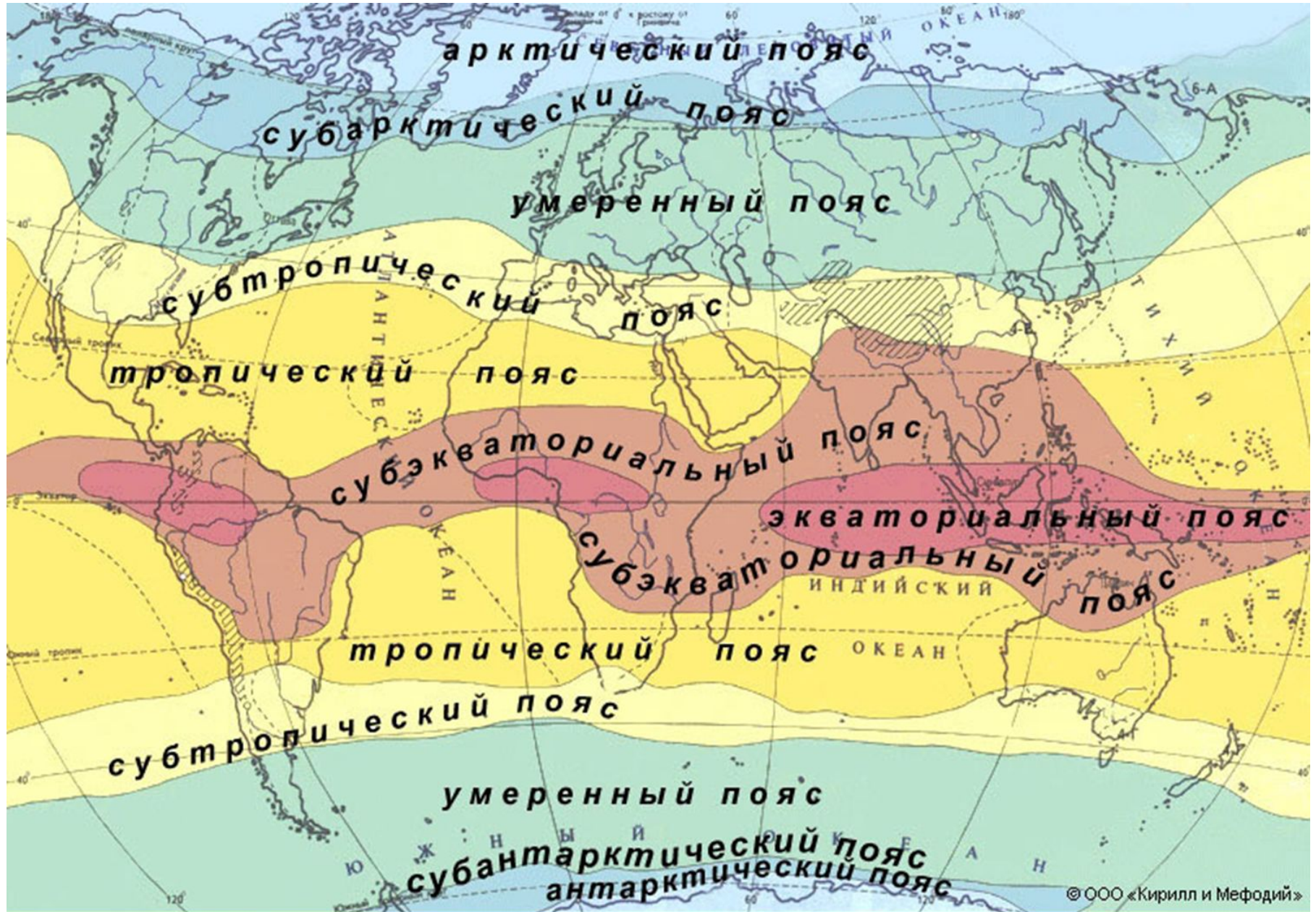
Рассмотрите рисунки с изображением климатограмм, построенных по данным метеонаблюдений в разных частях Земли, и выполните задания.

3.1. Определите, какому климатическому поясу соответствует каждая климатограмма. Подпишите название климатического пояса под соответствующей климатограммой.



Карта для выполнения заданий 1.1, 3.

КЛИМАТ



© ООО «Кирилл и Мефодий»

Физико-географические пояса расположены симметрично по отношению к экватору. Карта.



3.2. На карте мира, приведённой на странице 4, территории, для которых построены изображённые на рисунках климатограммы, обозначены пустыми квадратами. Впишите в каждый квадрат на карте номер соответствующей климатограммы.

3.3. Какой природной зоне мира соответствуют приведённые ниже характеристики? Укажите в ответе название этой природной зоны.

- 1) Занимает территории с достаточным увлажнением.
- 2) Является переходной зоной от тайги к зоне широколиственных лесов.
- 3) Климат характеризуется тёплым продолжительным летом и умеренно холодной снежной зимой.
- 4) Произрастают как хвойные породы деревьев, так и листопадные.
- 5) Животный мир отличается значительным разнообразием млекопитающих: лоси, кабаны, лисицы, зайцы.

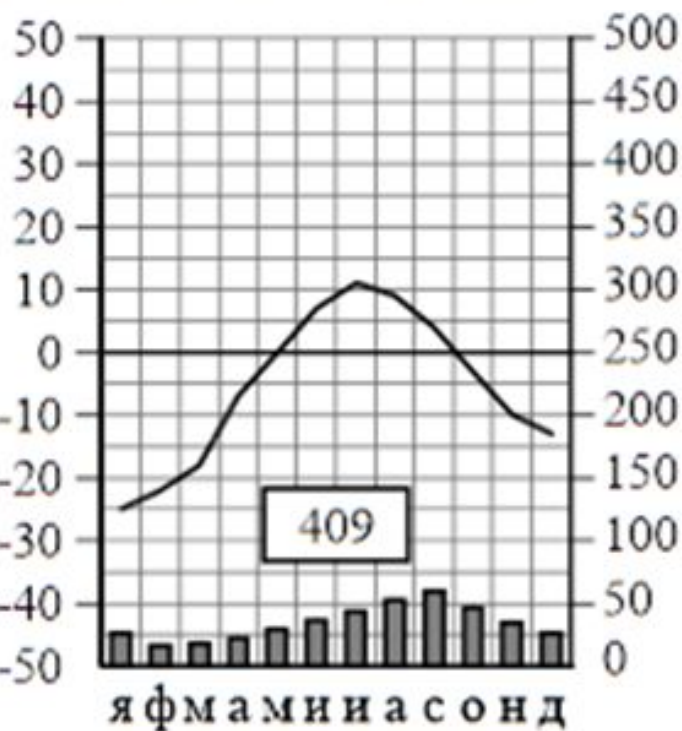
Ответ. _____

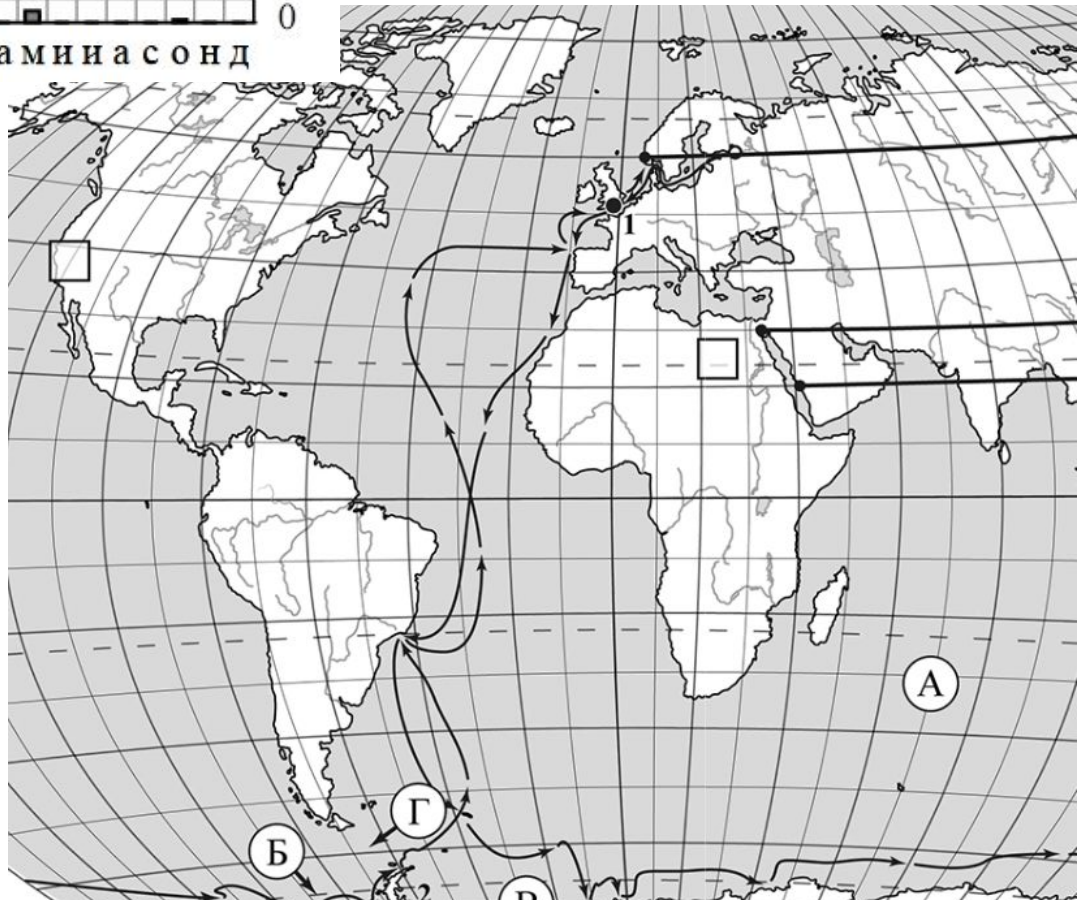
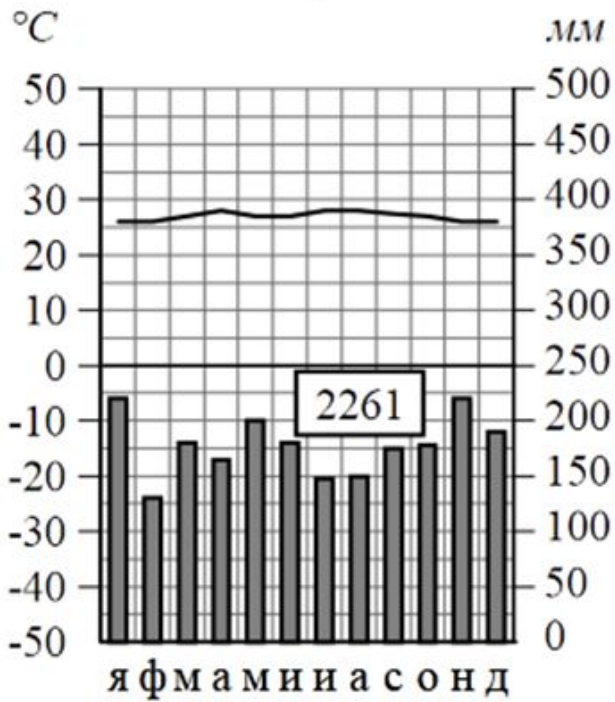
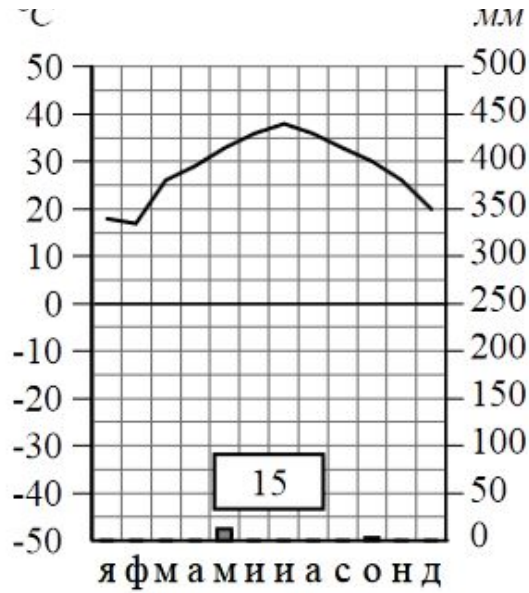
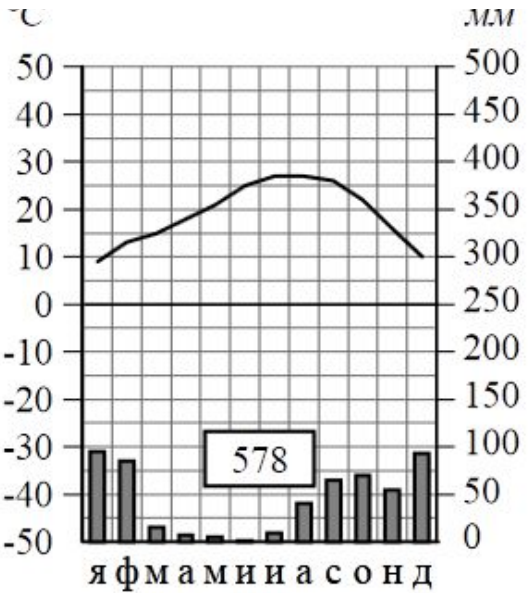
Выберите климатограмму, соответствующую климатически природной зоны. Укажите в ответе её номер.

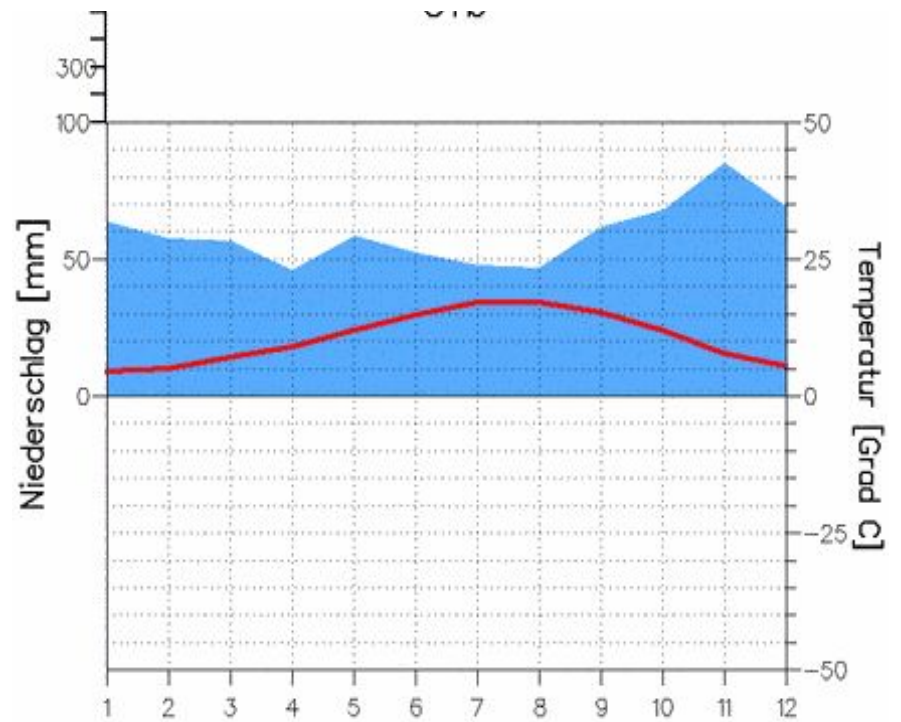
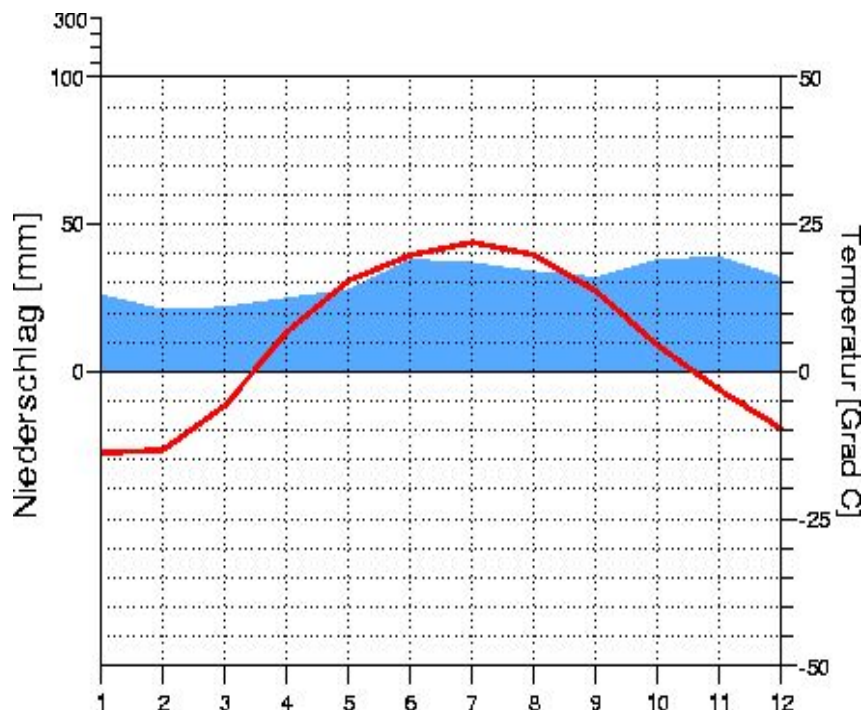
Ответ.

3.4. По выбранной Вами в задании 3.3 климатограмме покажите для указанной природной зоны и заполните табл

Средняя температура воздуха, °С		Годовая амплитуда температур, °С	Годовое количество осадков, мм
в январе	в июле		

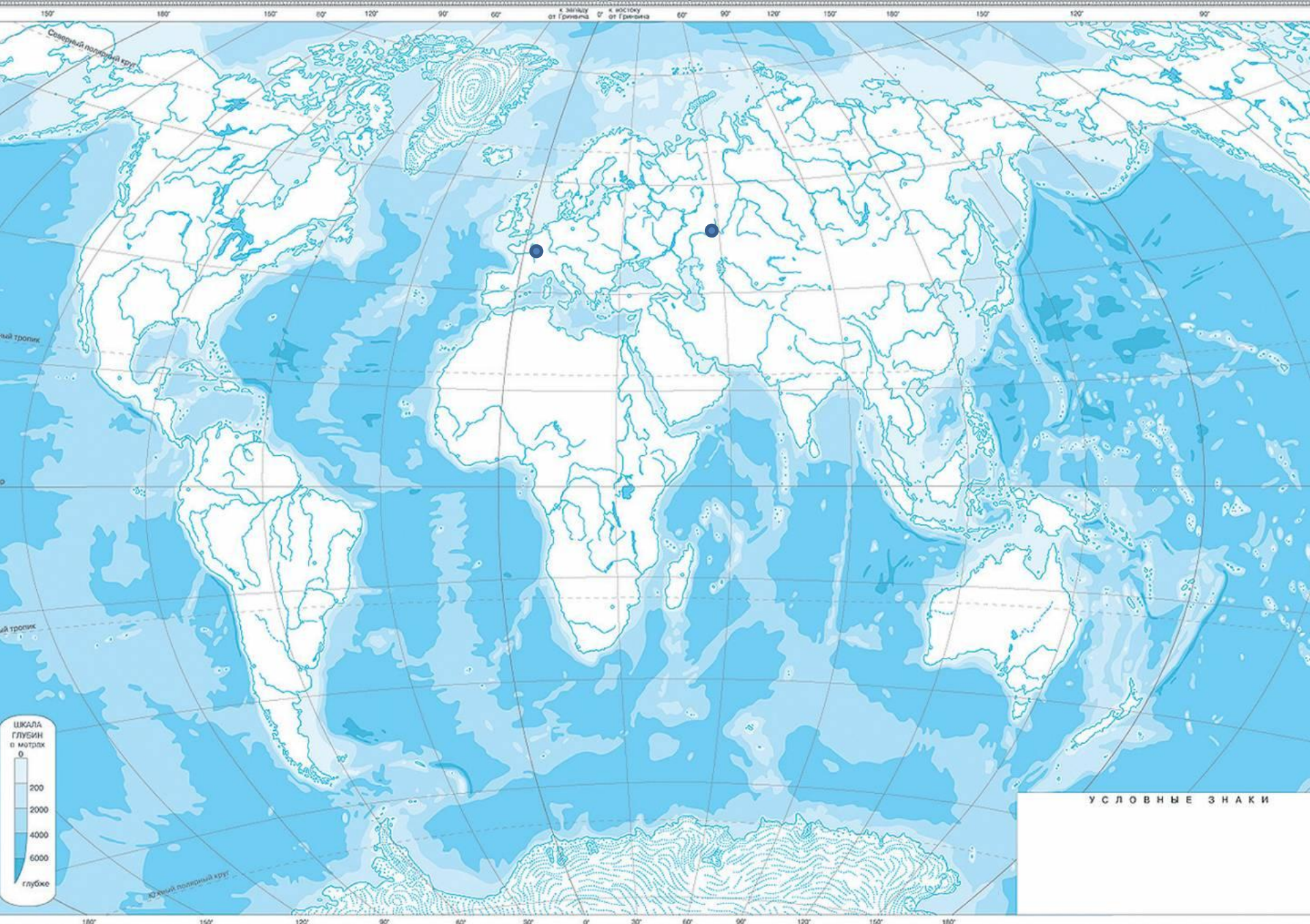






На изображении - климатограммы городов умеренного пояса. Определите какая из них относится к г. Париж (Франция), какая – к Оренбургу (Россия, юг Урала). Объясните своё решение!

ФИЗИЧЕСКАЯ КАРТА МИРА (контурная карта)



Масштаб карты и проекция не указаны. При использовании карты необходимо использовать актуальные данные. В случае использования карты в качестве основы для создания карт необходимо использовать актуальные данные.

На уроке географии Никита построил профиль рельефа Южной Америки, представленный на рисунке 1. Используя рисунок 1 и карту мира, приведённую на странице 4, выполните задания.

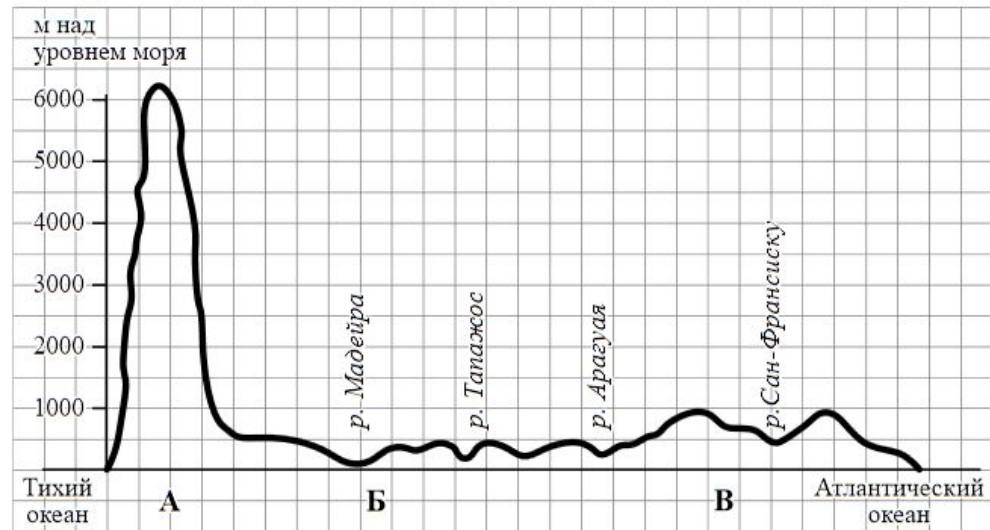


Рисунок 1

2.1. По какому из отрезков, проведённых на карте вдоль трёх параллелей, пересекающих материк Южная Америка, построен профиль рельефа, представленный на рисунке 1? Укажите в ответе значение параллели.

Рассчитайте протяжённость материка Южная Америка по указанной Вами параллели в километрах с помощью приведённой ниже таблицы. (Для расчёта воспользуйтесь калькулятором.)

Широта	0°	10°	20°	30°	40°	50°	60°	70°	80°	90°
Длина дуги параллели в 1°, км	111,3	109,6	104,6	96,5	85,4	71,7	55,8	38,2	19,4	0



Карта для выполнения
заданий 1.1, 3.2

6

Камила и Амели познакомились на отдыхе. Камила живёт в столице Мексики, а Амели – в столице Франции. Подростки общаются через Интернет, и при общении им приходится учитывать разницу во времени между их городами.



6.1. На политической карте мира, приведённой на странице 11, выделите штриховкой страны, в которых живут подростки.



6.2. Часы на рисунках отображают время в городах, где живут подростки. Подпишите названия городов под соответствующими часами.



Гринвич

24:00 (полночь)



20 января
01:00



19 января
18:00



6.3. Амели отправила Камиле электронное сообщение в 15:00 по местному времени.

5

5.1. Установите соответствие между географическими особенностями и материками, для которых они характерны: для этого к каждой позиции первого столбца подберите соответствующую позицию из второго столбца.

ГЕОГРАФИЧЕСКИЕ ОСОБЕННОСТИ

МАТЕРИКИ

- А) Восточная часть материка – это современная рифтовая зона с глыбовыми горами и глубочайшими впадинами, многие из которых заняты озёрами.
 - Б) Территорию материка почти посередине пересекает экватор.
 - В) На материке расположена самая крупная в мире система озёр, соединённых между собой реками и проливами.
 - Г) Около 40% территории материка занимают саванны и редколесья.
 - Д) На западе материка протянулась одна из самых крупных горных систем мира, возникшая на стыке океанической и континентальной литосферных плит.
 - Е) Большая часть современного населения материка – потомки переселенцев из Европы и других частей света.
- 1) Африка
2) Северная Америка

Запишите в таблицу выбранные цифры под соответствующими буквами.

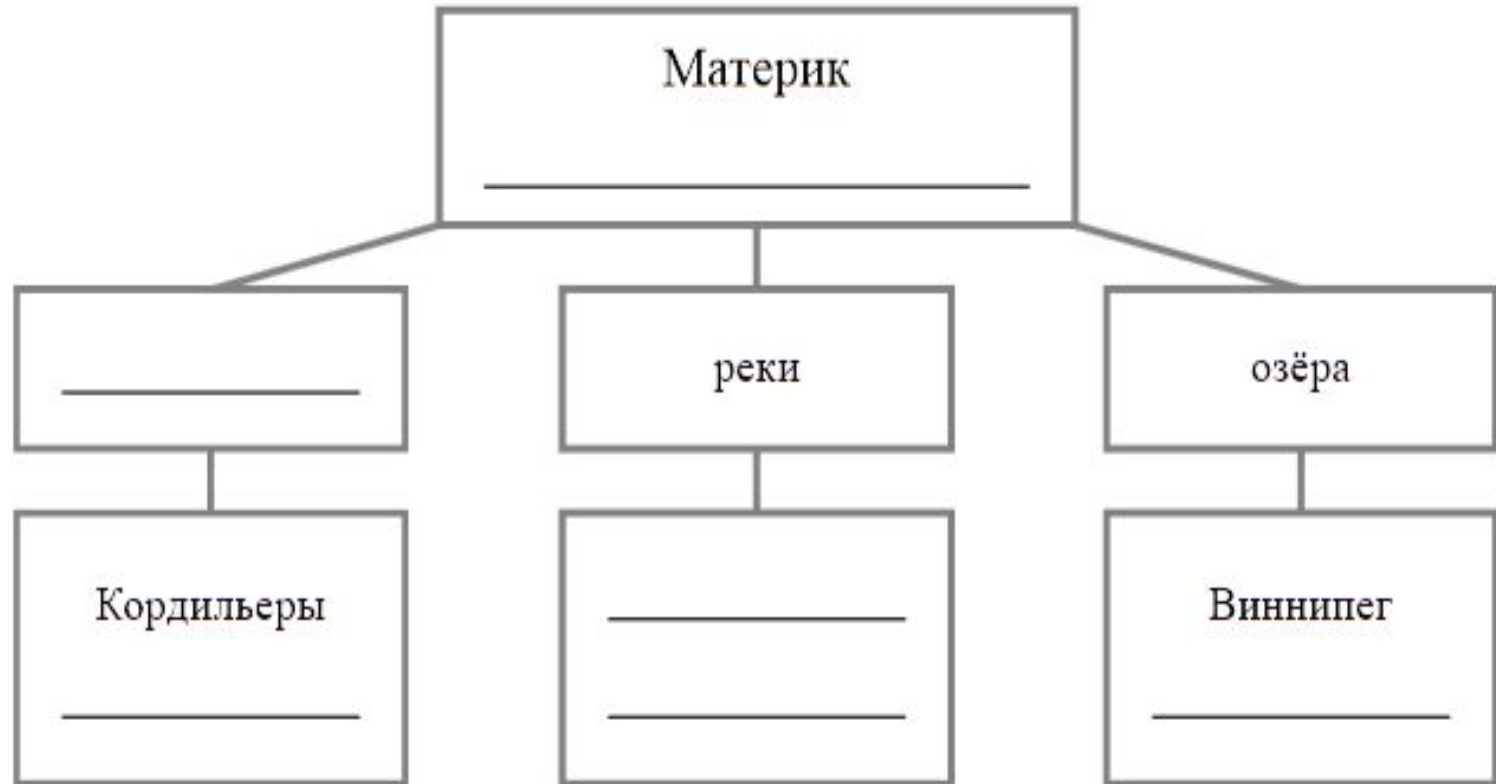


Ответ.

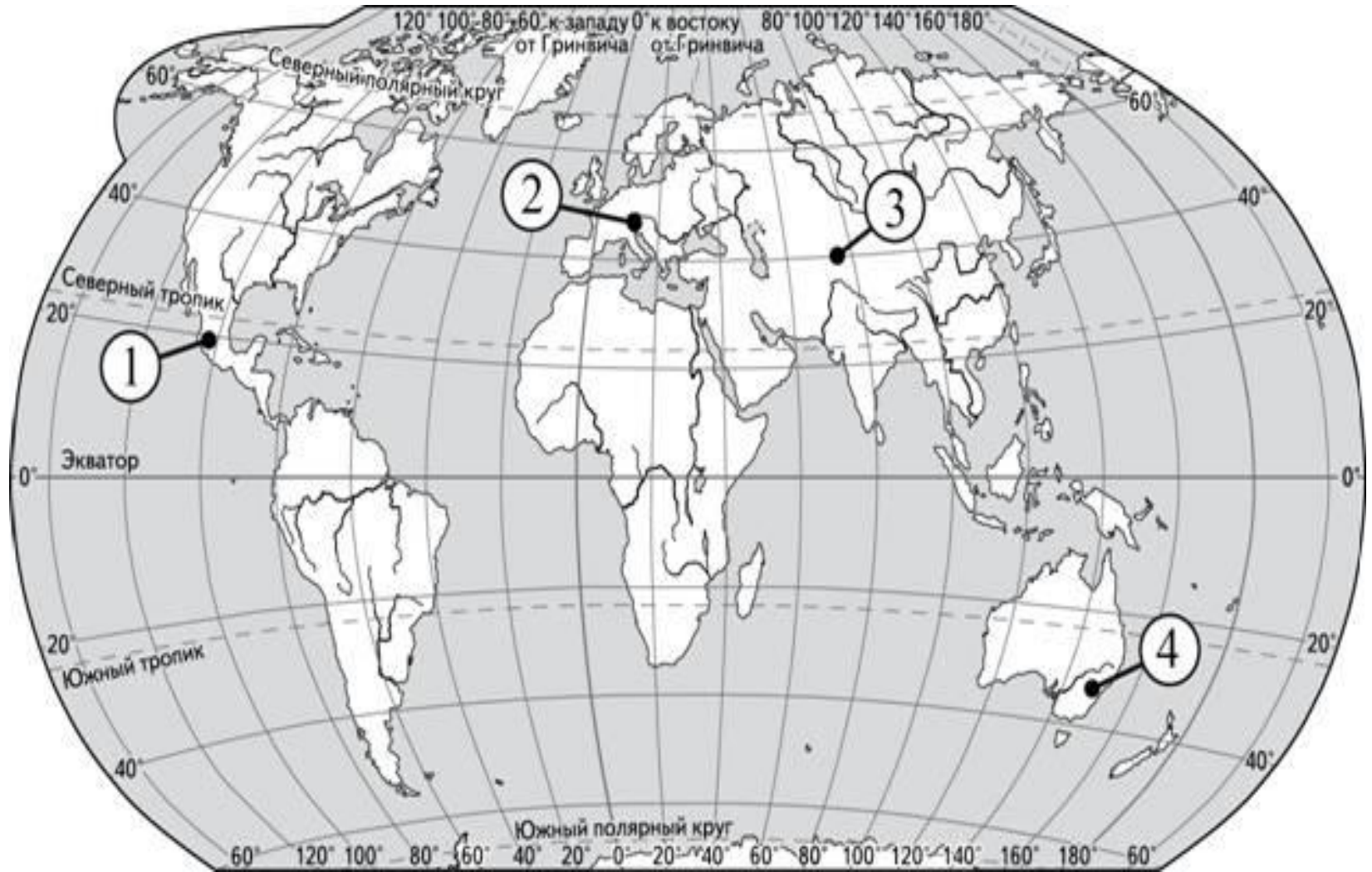
А	Б	В	Г	Д	Е

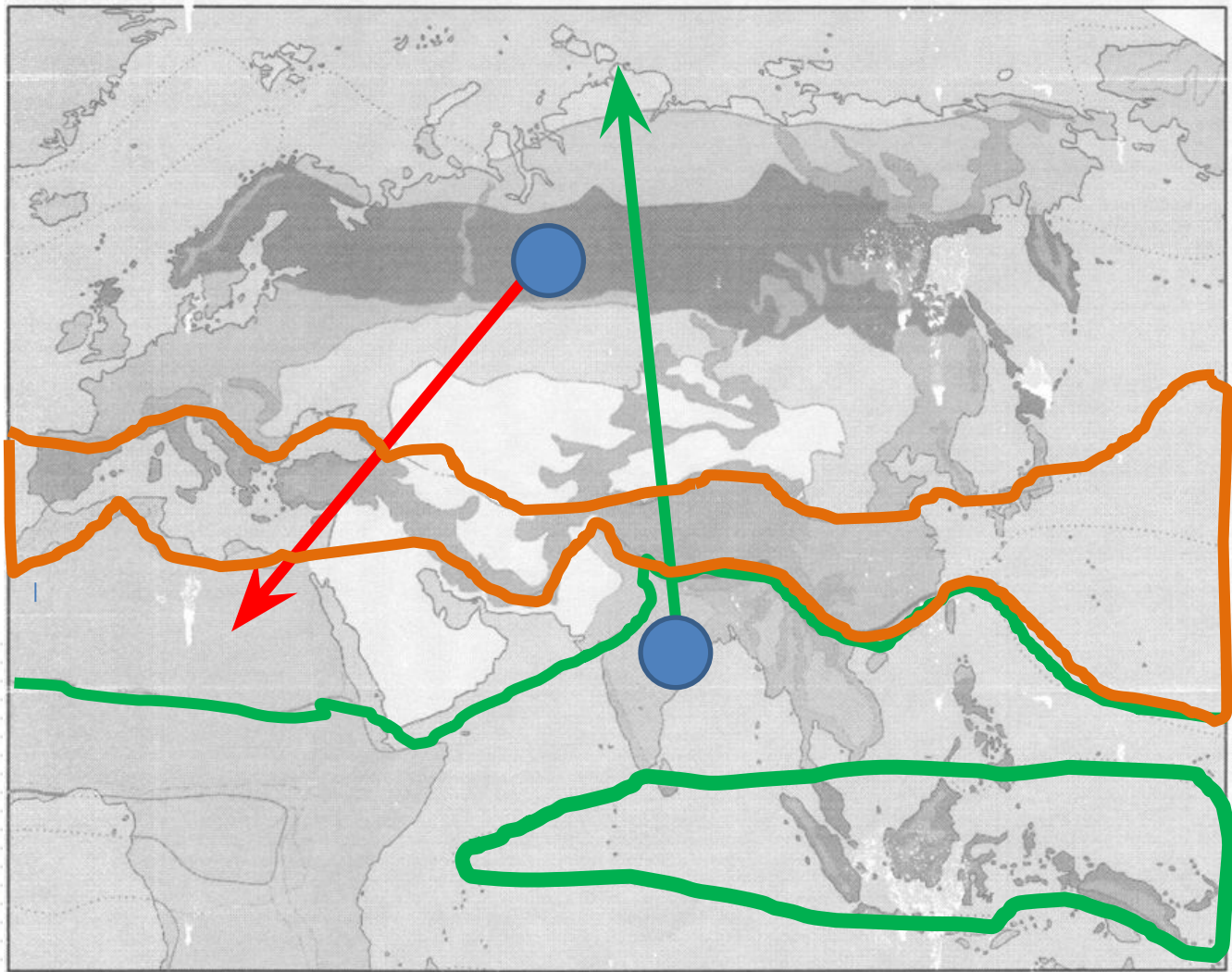
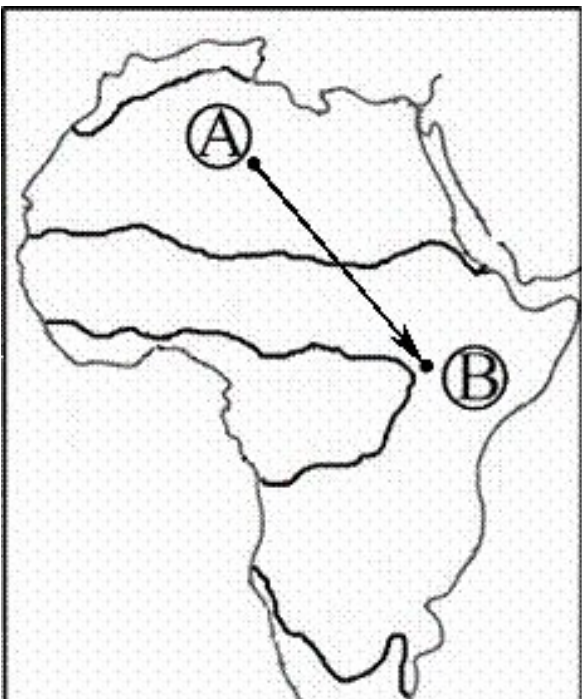
5.2. В приведённом ниже списке перечислены крупные географические объекты. Выберите из представленного ниже списка названия географических объектов, расположенных на территории одного из этих материков, и заполните схему. Впишите в схему название материка, типы и названия выбранных Вами географических объектов.

Гималаи, Лимпопо, Калахари, Ниагара, Мичиган, Атлас, Амур, Альпы, Маракайбо, Виктория, Аппалачи, Миссури



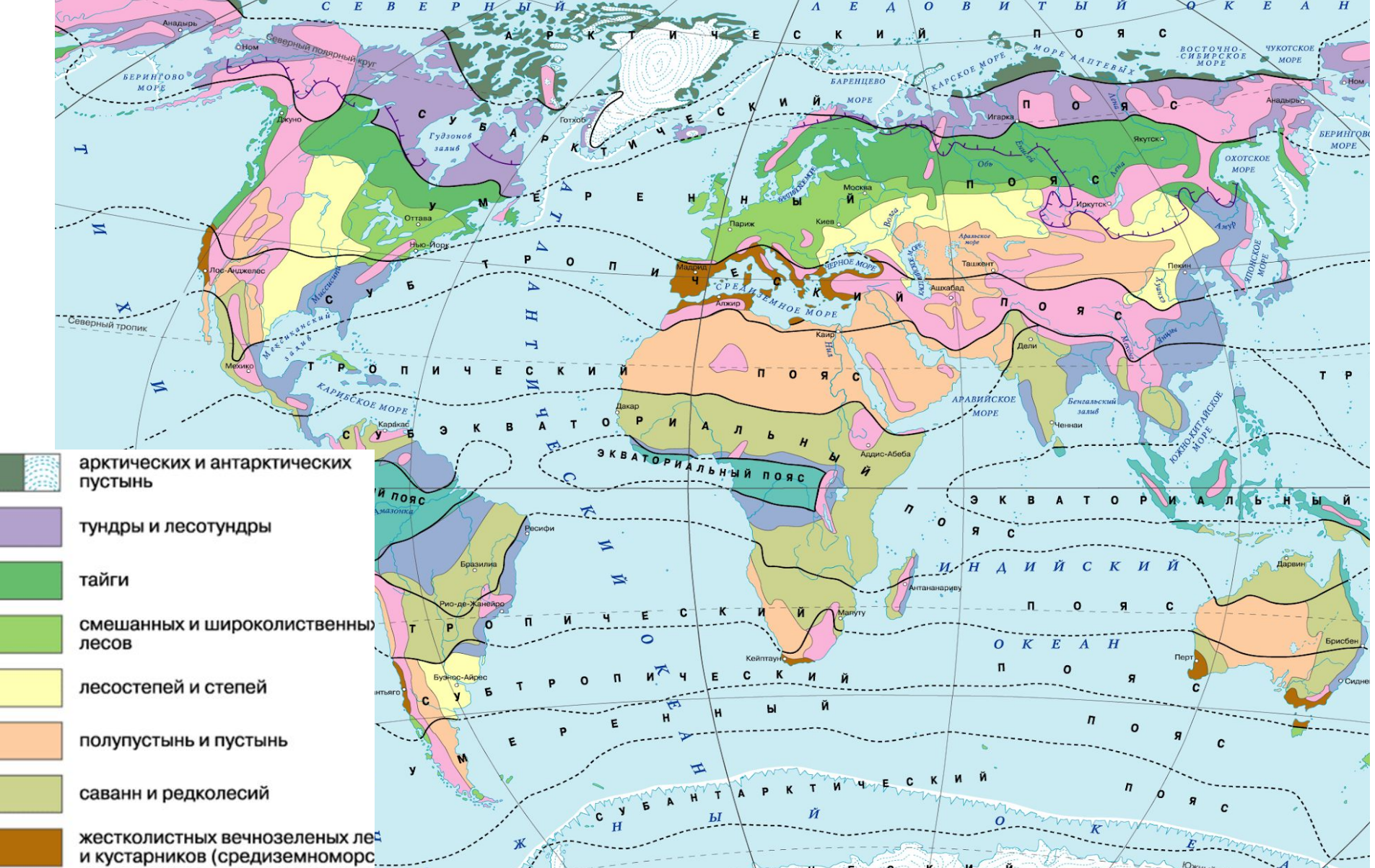
- Установите соответствие между горной системой и обозначением на карте мира горной вершины, находящейся в пределах этой горной системы:
А) Кордильеры Б) Альпы В) Большой Водораздельный хребет Г) Гималаи Д) Анды





Природные зоны Евразии





ПРИРОДНЫЕ ЗОНЫ МИРА

ПРИРОДНЫЕ ЗОНЫ



арктических и антарктических
пустынь



тундры и лесотундры



тайги



смешанных и широколиственных
лесов



лесостепей и степей



полупустынь и пустынь




саванн и редколесий



жестколистных вечнозеленых лесов
и кустарников (средиземноморская)



переменно-влажных
(в том числе муссонных) лесов



влажных экваториальных лесов



Области высотной поясности

3.3. Какой природной зоне мира соответствуют приведённые ниже характеристики? Укажите в ответе название этой природной зоны.

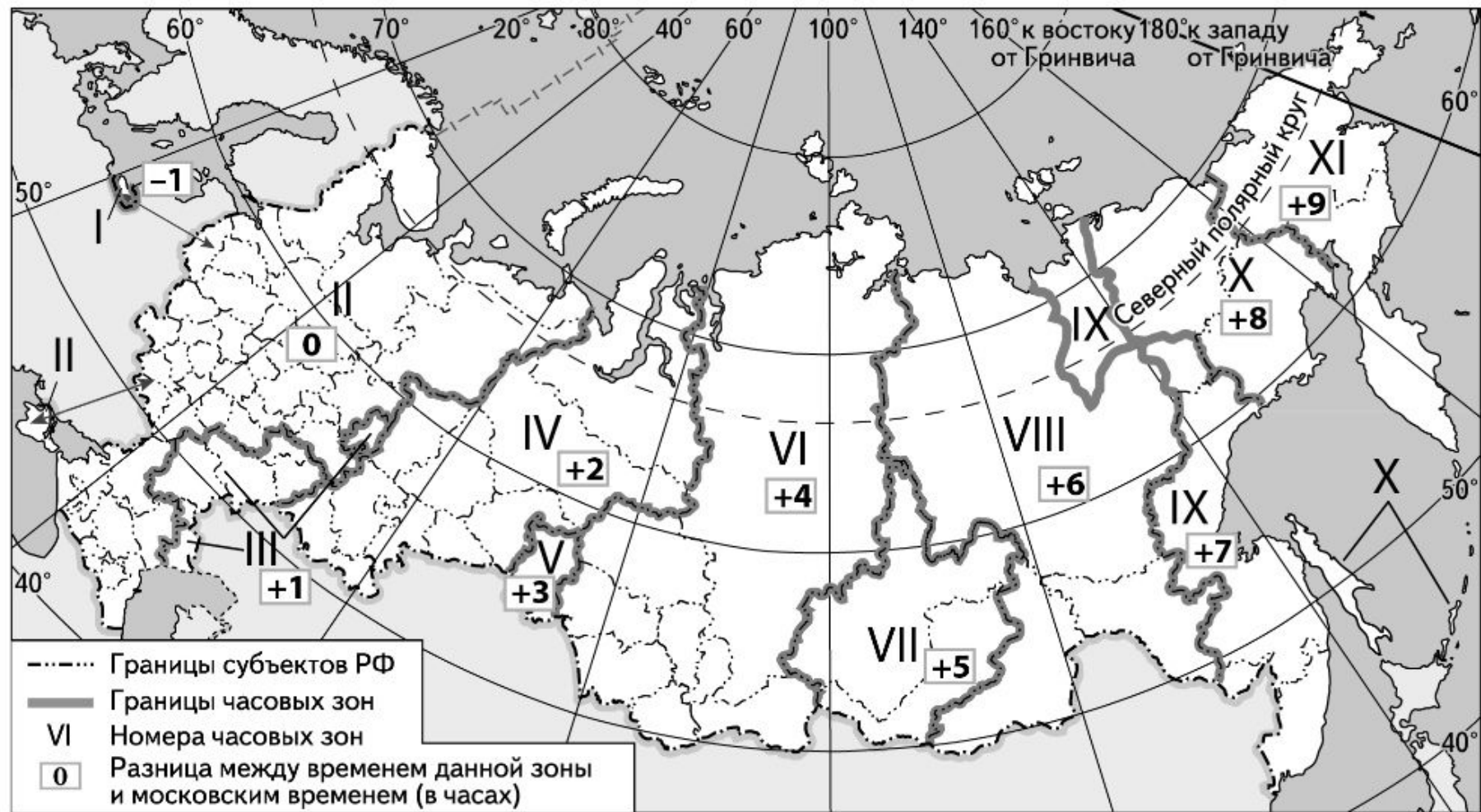
- 1) Отличается резким недостатком влаги и разреженным растительным покровом.
- 2) Почвы очень бедные либо вообще не формируются.
- 3) Встречаются оазисы, где растут финиковая пальма, акации, фруктовые деревья.
- 4) Осадки выпадают редко, обычно в виде коротких ливней, а в некоторых местах по несколько лет не бывает дождей.
- 5) Обитают многие виды пресмыкающихся: змей, ящериц, черепах.

Ответ. _____

Выберите климатограмму, соответствующую климатическим особенностям указанной Вами природной зоны. Укажите в ответе её номер.

Ответ.

С 10 по 26 мая 2019 г. в Словакии пройдёт чемпионат мира по хоккею. Прямая трансляция финала чемпионата состоится 26 мая в 21:15 по московскому времени. Используя карту, определите, в каких из перечисленных регионов эта трансляция начнётся после 0:00 часов 27 мая по местному времени этих регионов. Запишите цифры, под которыми они указаны.

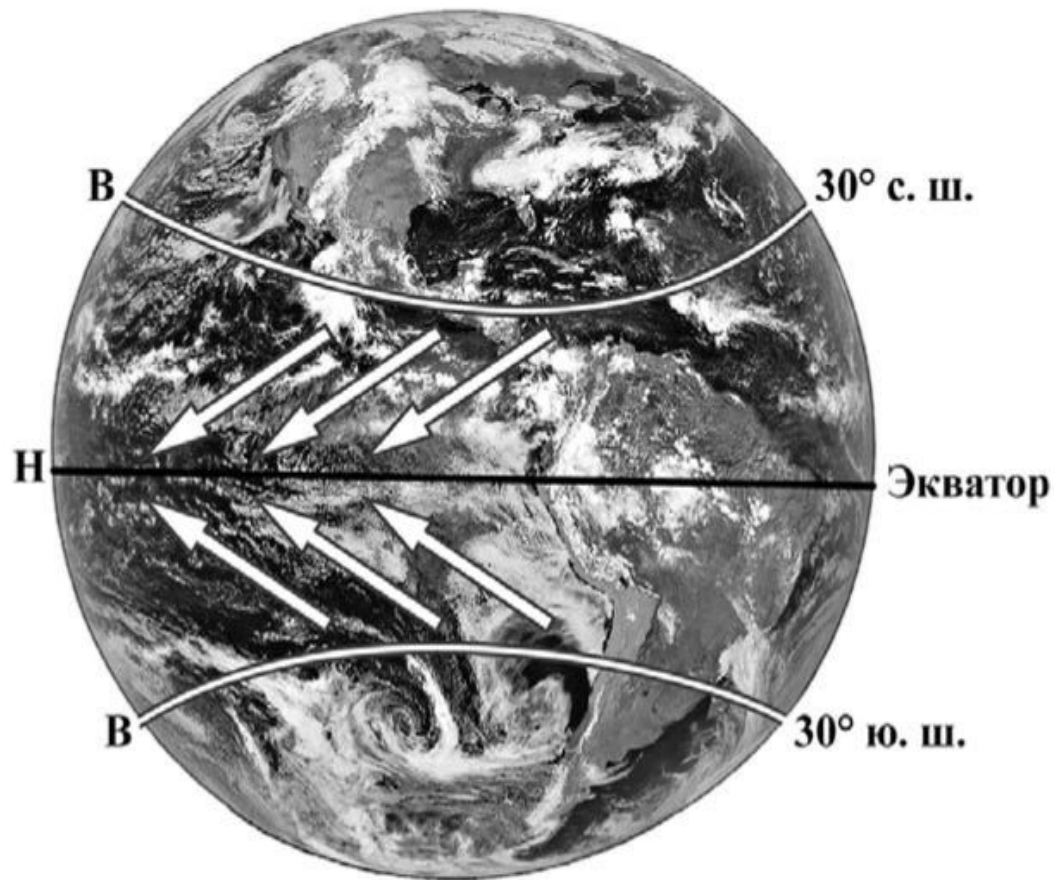


1) Забайкальский край; 2) Ненецкий АО; 3) Чукотский АО; 4) Респ.Карелия; 5) Саха

Расположите эти субъекты в порядке встречи на их территории Нового года.

4

Рассмотрите схему природного процесса и выполните задания.

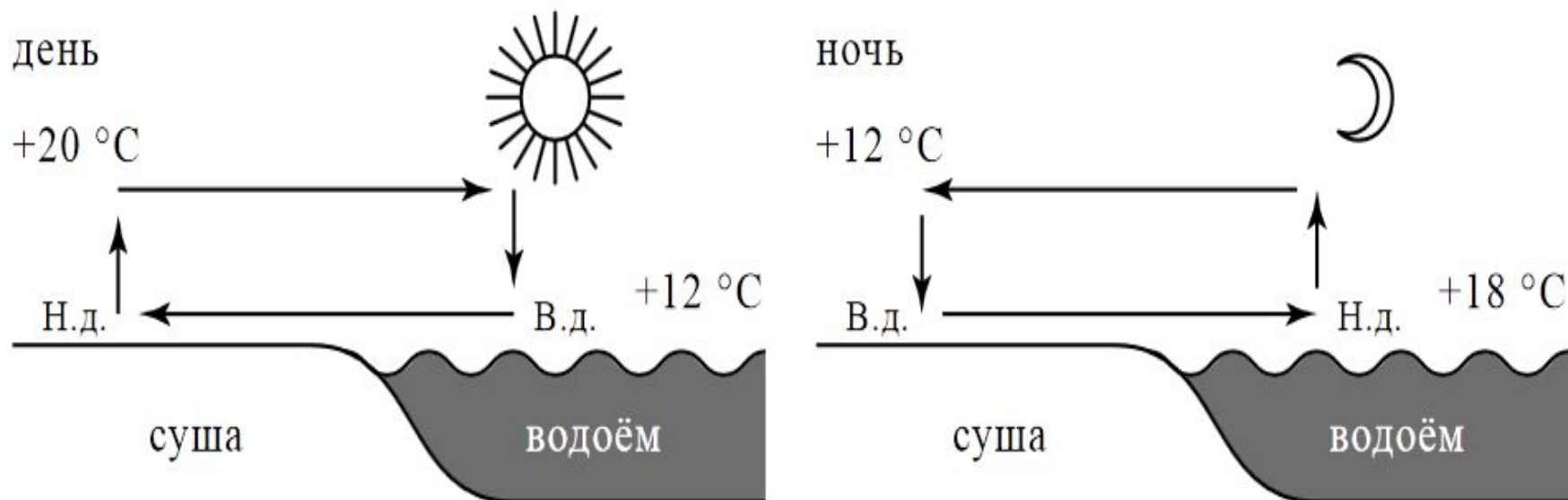


4.1. Какой природный процесс отображён на схеме?

Ответ.



Рассмотрите схему природного процесса и выполните задания.



Н.д. – низкое давление

В.д. – высокое давление

4.1. Какой природный процесс отображён на схеме?

Ответ

5.2. В приведённом ниже списке перечислены крупные географические объекты. Выберите из представленного ниже списка названия географических объектов, расположенных на территории одного из этих материков, и заполните схему. Впишите в схему название материка, типы и названия выбранных Вами географических объектов.

Кордильеры, Замбези, Байкал, Гималаи, Эйр-Норт, Эребус, Колорадо, Аппалачи, Амазонка, Оранжевая, Атлас, Большое Медвежье.

