

«Повторение систем карта»

Задача : найти лишнюю запчасть данной
СИСТЕМЫ

1) Тормозная система

1.



2.



3.




4.



5.



6.



7.



8.



2) Топливная система

1.



2.



3.



4.



5.



6.



7.



3) Рулевая система

1.



2.



3.



4.



5.



6.



7.



8.



9.



4) Система питания

1.



2.



3.



4.



5.



5) Система охлаждения

1.



2.



3.

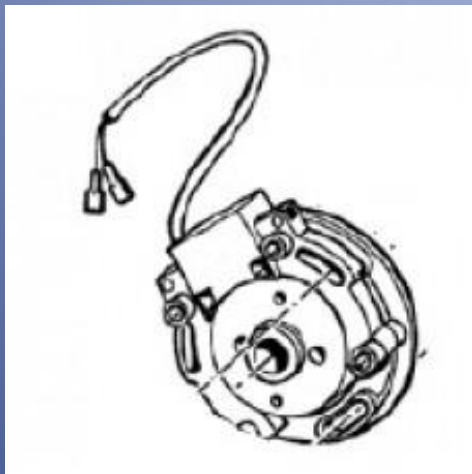


4.



6) Система зажигания

1.




2.



3.



4.



7) Система выпуска

1.



2.



3.



4.



8) Система впуска

1.



2.



3.




Задача : назвать зап.часть и к какой системе она относится

9.



10.



11.



12.



13.



14.

