

Диагностическая работа



МБОУ СОШ № 99 г.о. Самара

Предмет: Математика

Класс: 1

Учебник: Башмаков М.И. 2012 г

Учитель: Гаврилова Г.А.

Год издания: 2014

Поставьте знак + или – так,
чтобы равенство было верным.

$$6 \text{ --- } 2 < 5$$

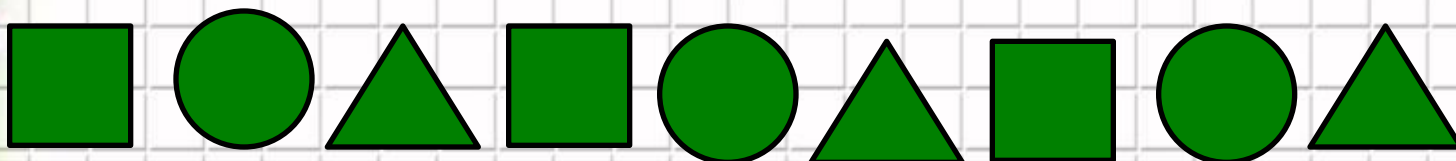
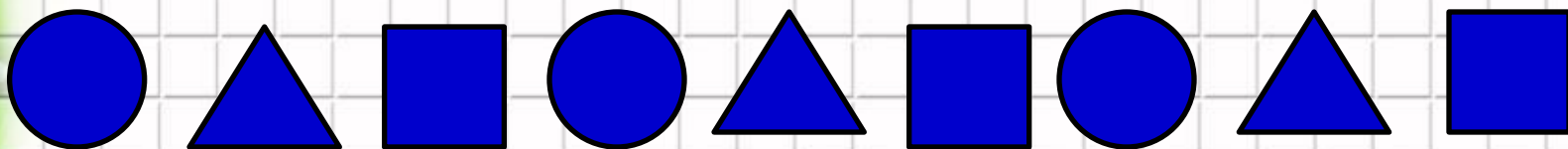
$$5 \text{ + } 4 = 9$$

$$6 \text{ + } 2 > 5$$

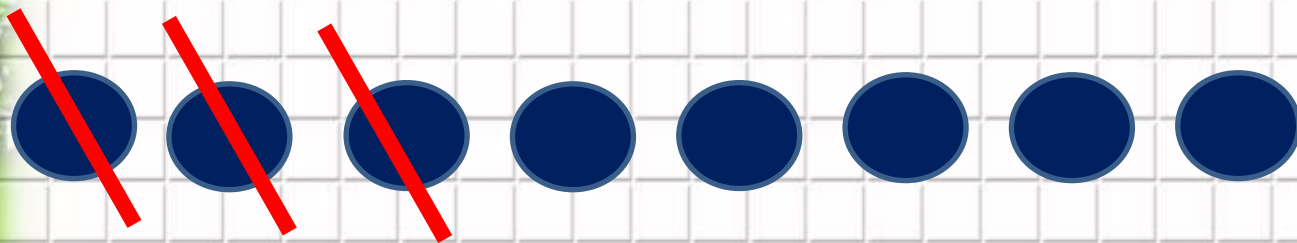
$$5 \text{ --- } 4 =$$



Продолжи ряд



- У Кати было 8 карандашей. Она отдала 3 Оле. Сколько карандашей у нее осталось?




$$8 - 3 = 5 \text{ (к.)}$$



Составь схему, запиши выражение.

- У Вари было 3 куклы и 4 лошадки. Сколько игрушек было у Вари?



$$3 + 4 = 7$$

(иг.)



Составь схему, запиши выражение.


У Васи 7 машин, а у Толи 4.
Вася отдал Толику 1 машину.
Увеличилось или уменьшилось
количество машин у Толи?

Увеличилось

Уменьшилось



Составь четыре равенства



$$1 + 7 = 8$$

$$8 - 1 = 7$$

$$7 + 1 = 8$$

$$8 - 7 = 1$$



Что лишнее?



Это не природа.

Сначала у ребят был урок окружающего мира, потом физкультура, а потом они пошли в столовую на завтрак. Расставь цифры от 1 до 4.



**Что нового узнали?
Что было трудно?
Оцени себя?**

