



5



7



3



Математика



• **Самуил Маршак**

**Апрель! Апрель!
На дворе звенит капель.
По полям бегут ручьи,
На дорогах лужи.
Скоро выйдут муравьи
После зимней стужи.
Пробирается медведь
Сквозь густой валежник.
Стали птицы песни петь
И расцвел подснежник**



Угадай цветок, считай УСТНО.

5



7



3



-6

+10

-4

+8

-1

-7

-8

10

→

4

→

$\frac{1}{4}$

→

$\frac{1}{0}$

→

$\frac{1}{8}$

→

$\frac{1}{7}$

→

$\frac{1}{0}$

→

2



1



2



3



4



5



7



3



Вы знаете, что первоцветы рвать **НЕЛЬЗЯ**, поэтому мы соберём математический весенний букет.

- ✓ Пропустите в тетради 4 пустые клетки вниз, запишите число 29 апреля. Начиная слева записывайте только результаты вычислений. Не забывайте пропускать между числами пустую клетку.



5



7



3



Запиши число, которое:

- Идёт при счете после числа 15;
- Стоит между числами 13 и 15;
- Предыдущее числу 18;
- Меньше числа 11 на 1 – какое это число?
- Самое большое однозначное число.
- Число, в котором 1 дес. и 5 ед.

Прочитайте слово, расставив числа в порядке возрастания :

ЗАДАЧА





5



7



3



ТЕМА УРОКА:

Повторение по теме «Решение задач в два действия».



5



7



3



- ✓ Отступите пустую клетку вниз.
Ставьте **+**, если, то что вы увидели ЗАДАЧА и **-**, если это НЕ ЗАДАЧА.




5




7



3



- Дюймовочка собрала для ласточки 10 зёрнышек пшеницы и 7 зёрнышек овса.





5




7



3



- Дюймовочка увидела на полянке 8 жёлтых бабочек. Сколько бабочек стало?





5




7



3



- Принц Эльфов подарил Дюймовочке 10 красных роз, а белых на 3 меньше. Сколько эльфов водили хоровод на лужайке?





5




7



3



Крот заготовил на зиму 6 кладовок пшеничных зёрен, а ржаных на 4 кладовки больше. Сколько всего кладовок занято зимними припасами у Крота?





5



7



3



Проверьте себя:

- - - +



5



7




3



Крот заготовил на зиму 6 кладовок пшеничных зёрен, а ржаных на 4 кладовки больше. Сколько всего кладовок занято зимними припасами у Крота?



ЗАДАЧА





Элементы задачи

• **Условие**

Крот заготовил на зиму 6 кладовок пшеничных зёрен, а ржаных на 4 кладовки больше.

• **Вопрос**

Сколько всего кладовок занято зимними припасами у Крота?

• **Схема или краткая запись**
(при необходимости)


• **Решение**

$$1) \quad 6 + 4 = 10 \text{ (к.)}$$

$$2) \quad 10 + 6 = 16 \text{ (к.)}$$

• **Ответ**

Ответ: 16 кладовок.



5



7



3





«Рабочая тетрадь» с. 75

В этой задаче одно действие в остальных по два. Реши все задачи. Краткую запись делать

Какая задана «КНИЖКА»?

4 Реши задачи.

1) Масса собаки 18 кг, а масса кошки 3 кг. У кого масса больше: у кошки или у собаки? На сколько килограммов больше?


Ответ

2) В бочке было 19 вёдер воды. Утром из бочки взяли 7 вёдер воды, а вечером долили 4 ведра. Сколько вёдер воды стало в бочке?

Ответ

3) У Насти было 17 рублей. Она купила карандаш за 3 рубля и ручку за 4 рубля. Сколько денег осталось у Насти?

Ответ





5



7



3



✓ Учебник с.71

Отступи в тетради вниз 2
пустые клетки, обрати
внимание на краткую
запись в учебнике. Чего не
хватает?

5 В бидоне было 14 л воды, а в кастрюле — на 10 л меньше. Сколько всего литров воды было в бидоне и кастрюле?

**ПРОВЕРЬ
СЕБЯ**



5



7



3




✓ Запиши краткую запись в тетрадь, реши задачу, напиши ответ.

Обрати внимание, что в решении задачи должно быть **два** действия.

1) $\underline{\quad} - \underline{\quad} = \underline{\quad}$ (л.)

2) $\underline{\quad} + \underline{\quad} = \underline{\quad}$ (л.)

Ответ: $\underline{\quad}$ литров.



ВЕСЕННИЙ БУКЕТ

