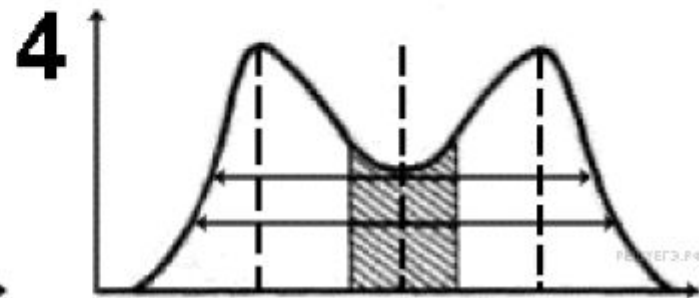
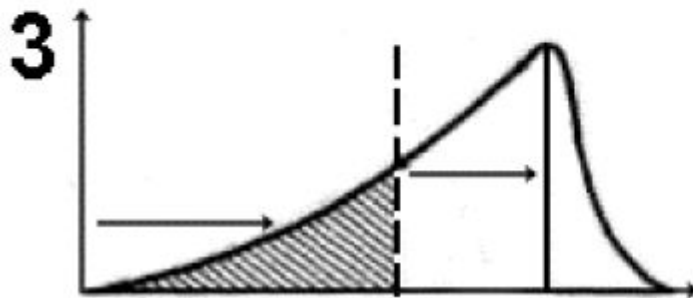
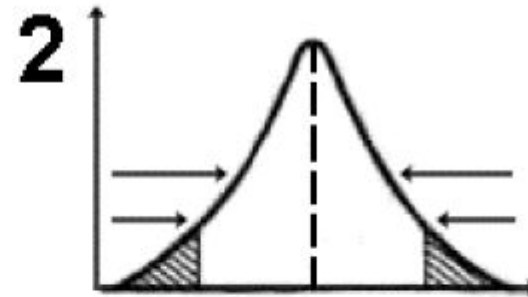
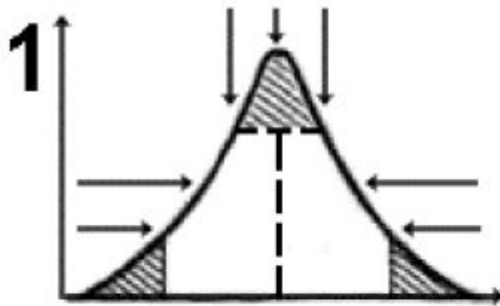
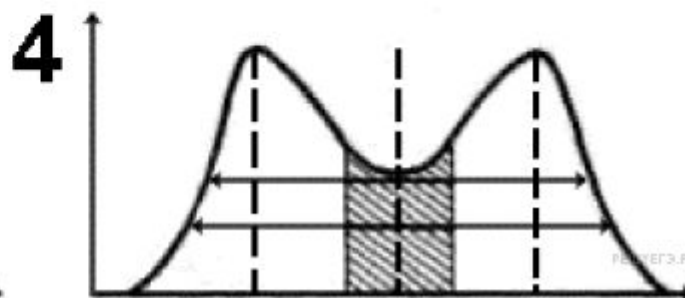
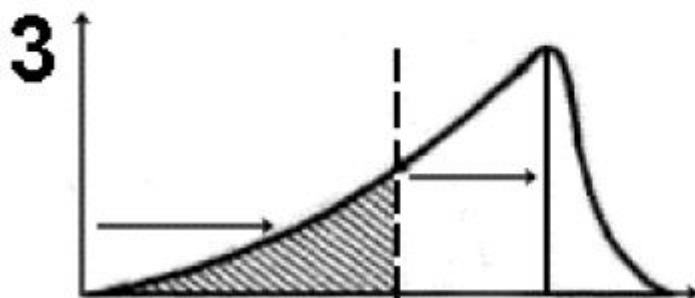
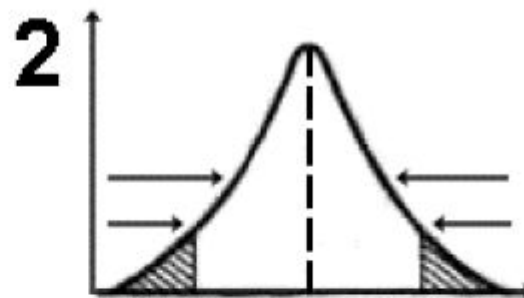
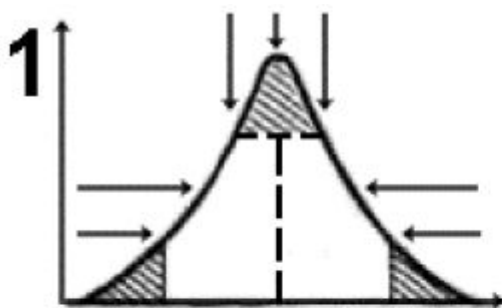


На каком из графиков представлено схематическое изображение сути стабилизирующего естественного отбора?



На каком из графиков представлено схематическое изображение сути движущего естественного отбора?



- **В чём состоит роль слюны в пищеварении? Какие рефлексы обеспечивают слюноотделение и при каких условиях?**
- **Как осуществляется нейрогуморальная регуляция отделения желудочного сока в организме человека?**

- ***У овцы длина кишечника примерно в 28 раз превосходит длину тела, у человека – в 6 раз, а у льва – всего в 3 раза. Чем объясняется такая разница?***
- ***В чем проявляется взаимосвязь строения и функций тонкого отдела кишечника человека?***

- **Какое значение для переваривания пищи имеет большая длина тонкого кишечника?**
- **Какие особенности внутренней поверхности тонкой кишки обеспечивают интенсивное всасывание питательных веществ в ней**