




# Математическое моделирование




Повторение

Выразите  $y$  через  $x$

$$x + y = 2,$$



$$y - 6x = 1,$$



Выразите одну какую – нибудь  
переменную через другую

$$x - 2y = 3,$$

$$2x - y = 3,$$

$$3x + y = 5,$$

# Решите задачу № 79

	$v$ , км/ч	$t$ , ч	$S$ , км
По течению			
Против течения			

# Решите задачу № 81

	$v$ , км/ч	$t$ , ч	$S$ , км
1 поезд			
2 поезд			

# Выполните упражнения:

- № 87-89 (в,г)
- № IIII (в,г)