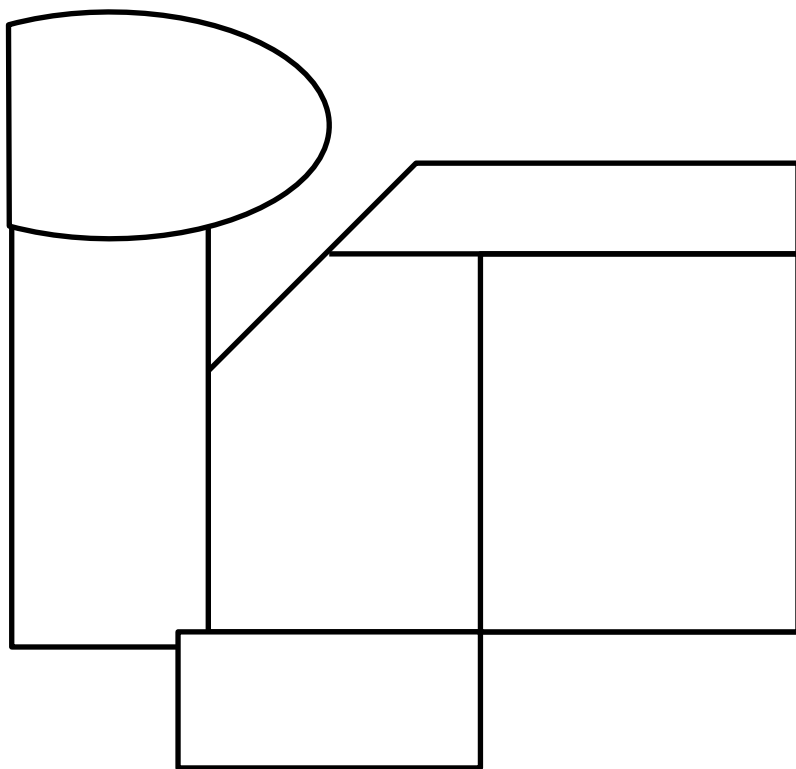


Выявление факторов размещения Череповецкого металлургического комбината

*Практическая работа 9
класс*



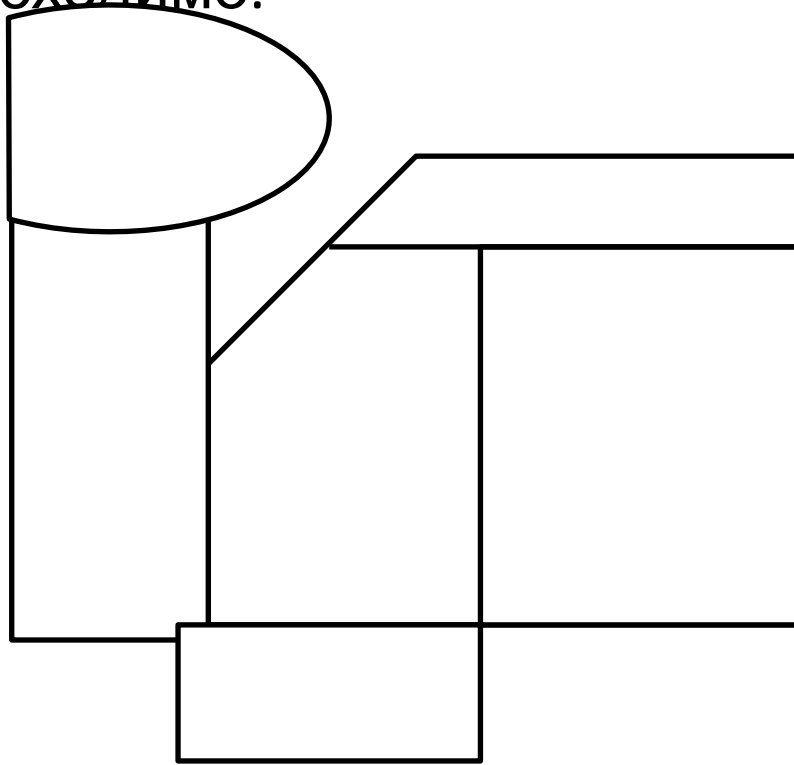
- Составьте карто-схему территории СЭР
- Подпишите названия субъектов.
- Обозначьте ЧМК



условные знаки:



- ЧМК – металлургический комбинат полного цикла, продукция – чугун, сталь, прокат, металлоконструкции.
- Вспомните особенности производства чёрной металлургии полного цикла, что для него необходимо.



- Обозначьте месторождения сырья и топлива, подпишите их названия

условные
знаки:



ЧМ

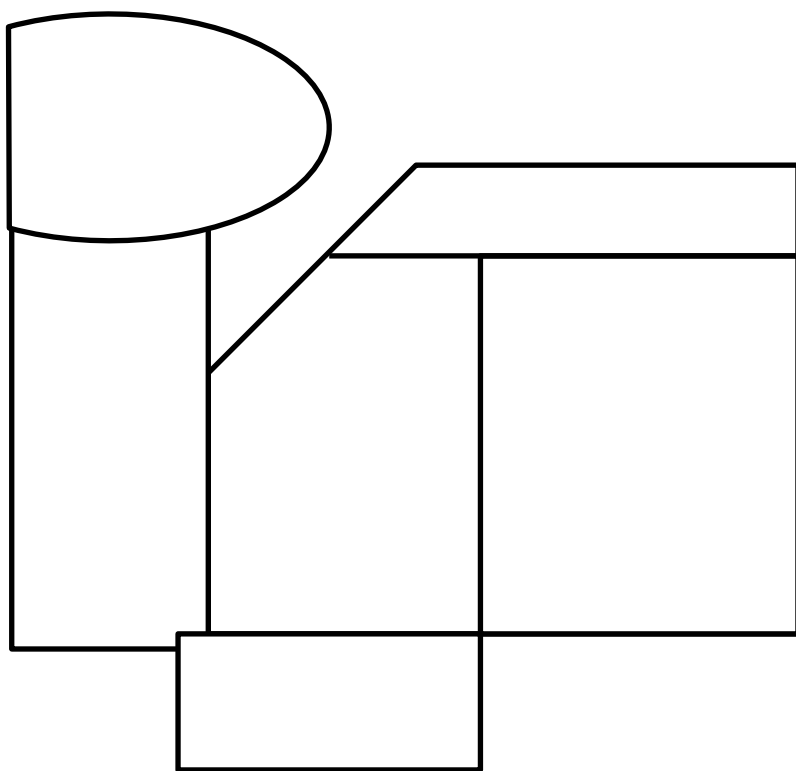


Железные
руды



Кам.
уголь

- Оцените размещение ЧМК относительно сырья и топлива.
- Есть ли возможности подвоза сырья и топлива к ЧМК?
 - *Обозначьте пути возможного подвоза сырья и топлива к ЧМК*



условные

знаки: ЧМ



К



Железные



руды
Кам. уголь



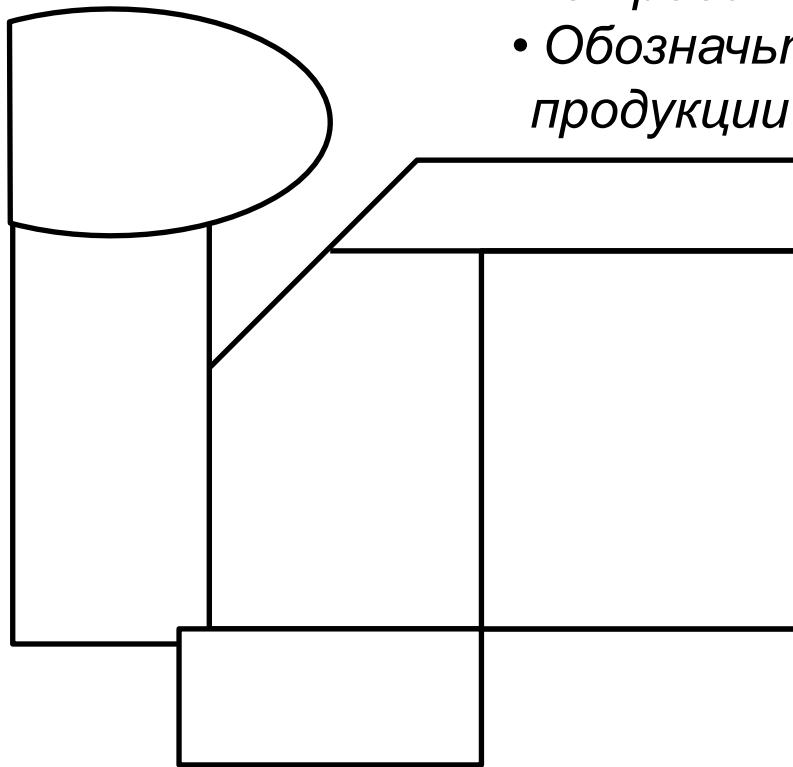
Жел. дороги



Водные пути

- Велики ли потребности СЭР в металле? Где потребляется большая часть продукции ЧМК?
- Удобно ли вывозить металл с ЧМК к центру потребления?

- *Обозначьте крупный машиностроительный центр – потребитель продукции ЧМК*
- *Обозначьте пути возможного вывоза продукции из ЧМК*



условные


знаки: ЧМ



Железные



Кам. уголь



Жел. дороги



Водные пути

- Вывод:
- ГП ЧМК (в какой части СЭР расположен, на территории какого субъекта)
- Какой фактор размещения ЧМК является основным
- Какие особенности территории способствуют размещению здесь ЧМК