

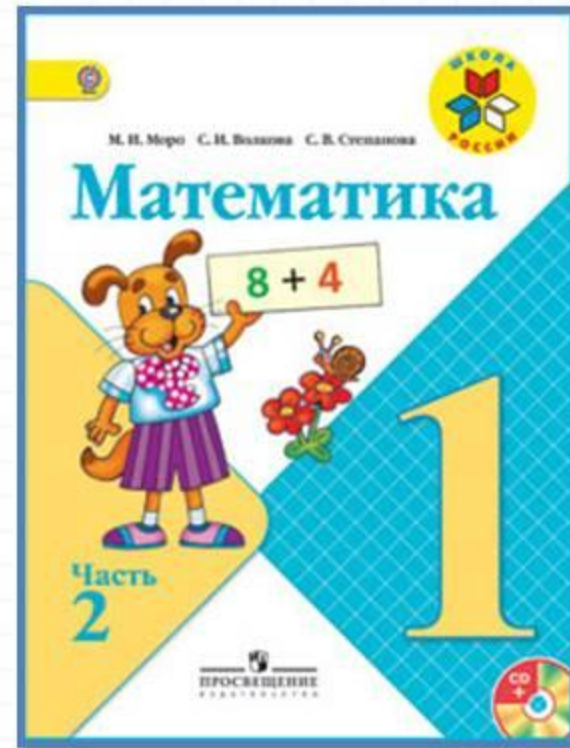
Состав чисел в  
пределах 10. Закрепление  
изученного материала  
стр. 17



*Школа России*  
*Математика 1 класс*



# Работа по учебнику



Стр. 17




Учимся наблюдать, сравнивать, составлять план решения задач и выполнения вычислений.

1. Вспомни, суммой каких двух слагаемых можно заменить каждое число от 4 до 10. Расскажи по таблице.

<b>4</b>	<b>6</b>	<b>8</b>	<b>10</b>	<b>9</b>	<b>7</b>	<b>5</b>
3 1	4	2	3	1	2	2
2	3	1	4	3	4	4
	1	4	5	2	3	

2. В доме живут две семьи. В первой семье двое детей, а во второй — на 3 ребёнка больше. Сколько детей во второй семье? Сколько всего детей живёт в этом доме?
3. Составь по рисунку задачу, в вопросе которой было бы слово *меньше*, и реши её.



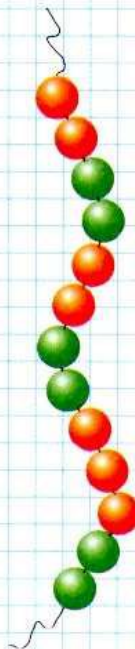
4. Сравни примеры в каждом столбике. Определи, по какому правилу они составлены. Запиши ещё по одному примеру и вычисли.

$10 - 4 - 2$	$1 + 6 - 5$	$9 - 4 + 3$
$10 - 3 - 3$	$1 + 7 - 4$	$8 - 4 + 4$
$10 - 2 - 4$	$1 + 8 - 3$	$7 - 4 + 5$
...	...	...

$$7 + \square = 9$$
$$5 + \square = 9$$

$$9 + \square = 9$$
$$6 + \square = 8$$

НАЙДИ  
ЛИШНЮЮ  
БУСИНКУ:

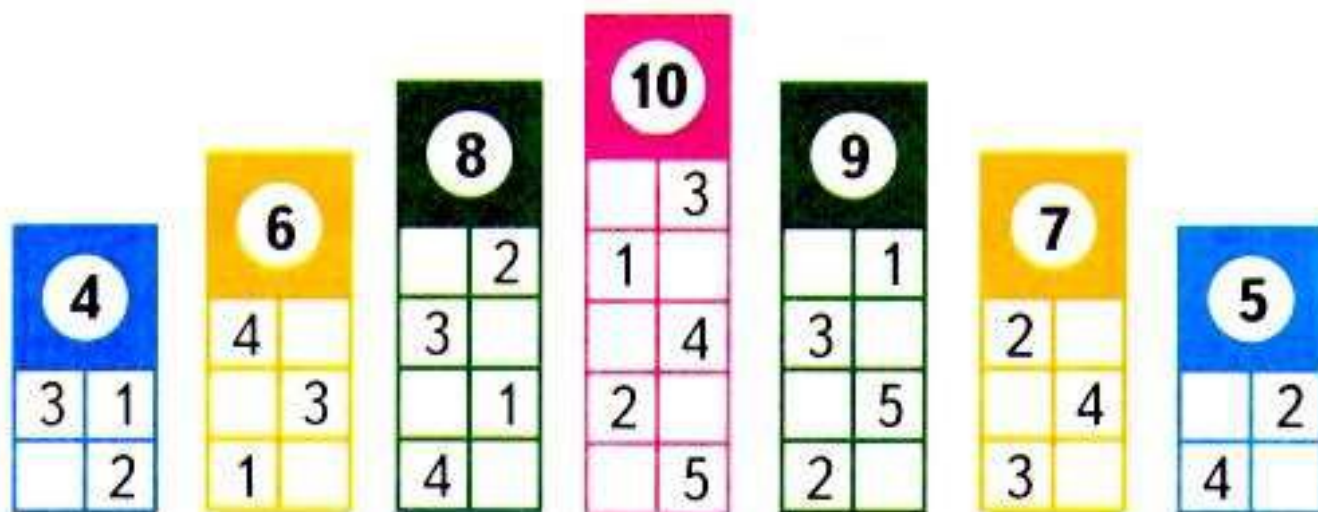


?




Учимся наблюдать, сравнивать, составлять план решения задач и выполнения вычислений.

1. Вспомни, суммой каких двух слагаемых можно заменить каждое число от 4 до 10. Расскажи по таблице.



2. В доме живут две семьи. В первой семье двое детей, а во второй — на 3 ребёнка больше. Сколько детей во второй семье? Сколько всего детей живёт в этом доме?

3. Составь по рисунку задачу, в вопросе которой было бы слово *меньше*, и реши её.



4. Сравни примеры в каждом столбике. Определи, по какому правилу они составлены. Запиши ещё по одному примеру и вычисли.

$$10 - 4 - 2$$

$$10 - 3 - 3$$

$$10 - 2 - 4$$

...

$$1 + 6 - 5$$

$$1 + 7 - 4$$

$$1 + 8 - 3$$

...

$$9 - 4 + 3$$

$$8 - 4 + 4$$

$$7 - 4 + 5$$

...

$$7 + \square = 9$$

$$5 + \square = 9$$

$$9 + \square = 9$$


$$6 + \square = 8$$

# Работа в тетради

стр. 11


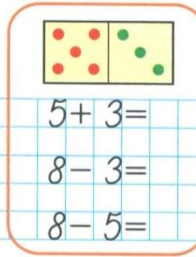




- 1 У Веры .  
У Лены на 2 больше.  
Сколько треугольников у Лены?

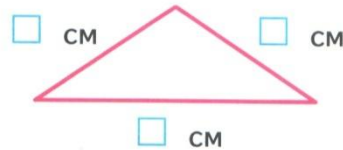
Ответ:

- 2



$5 + 3 =$	$2 + 6 =$	$3 + 4 =$
$8 - 3 =$	$8 - 2 =$	$7 - 3 =$
$8 - 5 =$	$8 - 6 =$	$7 - 4 =$


- 3



CM =  CM  
 CM >  CM

- 1

У Миши



У Коли



На сколько больше рыбок у Миши, чем у Коли?

Ответ:

- 2

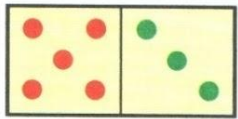
7	2	4	1	3
	<input type="text"/>	<input type="text"/>	<input type="text"/>	<input type="text"/>

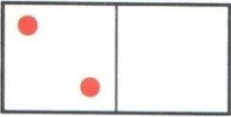
9	<input type="text"/>	4	<input type="text"/>	1
	2	<input type="text"/>	3	<input type="text"/>


- 1 У Веры .  
 У Лены на 2 больше.  
 Сколько треугольников у Лены?

\_\_\_\_\_ Ответ: \_\_\_\_\_

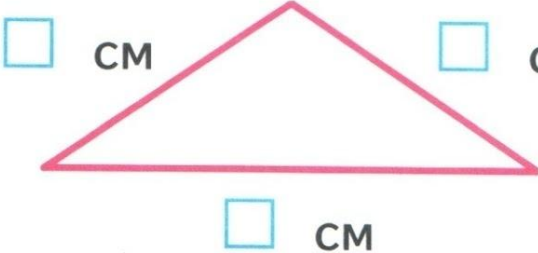
- 2 

  
 $5 + 3 =$   
 $8 - 3 =$   
 $8 - 5 =$

  
 $2 + 6 =$   
 $8 - 2 =$   
 $8 - 6 =$

  
 $3 + 4 =$   
 $7 - 3 =$   
 $7 - 4 =$

- 3




$\square \text{ см} = \square \text{ см}$   
 $\square \text{ см} > \square \text{ см}$



1

У Миши



У Коли



На сколько больше рыбок у Миши, чем у Коли?

Answer line:  *Ответ:*

2

7	2	4	1	3
	<input type="text"/>	<input type="text"/>	<input type="text"/>	<input type="text"/>

9	<input type="text"/>	4	<input type="text"/>	1
	2	<input type="text"/>	3	<input type="text"/>

