

Переместительное свойство умножения



УРОК №103

Запиши только ответы

- 1) Найди сумму чисел 70 и 23: .
- 2) К числу 27 прибавь 3: .
- 3) Увеличь число 46 на 14: .
- 4) Слагаемые равны 56 и 32. Найди сумму: .
- 5) Найди разность чисел 87 и 5: .
- 6) На сколько число 15 меньше, чем 38? .
- 7) Число 86 уменьши на 26: .
- 8) От числа 99 отними 33: .
- 9) Уменьшаемое 48, вычитаемое 14.
Найди разность: .
- 10) К какому числу нужно прибавить 7, чтобы получить число 48? .

УСТНЫЙ СЧЁТ

Найди ошибки.



$$5 \text{ дм} = 50$$

$$90 \text{ см} = 9$$

$$23 \text{ см} = 20 \text{ см}$$

2 мм

множитель

множитель

**произве-
дение**

$$2 \cdot 4 = 8$$

произведение

Вставь пропущенные
числа.




$$8 + 8 + 8 \cdot 2 \underline{\quad\quad} 8 \boxed{\quad}$$

$$3 \cdot 8 - 3 \underline{\quad\quad} 3 \boxed{\quad}$$

$$7 \cdot 6 - 7 - 7 \underline{\quad\quad} 7 \boxed{\quad}$$

Сбежала от Федоры посуда:
3 стакана, **3** чашки, **3** блюда.
Кто сосчитать готов?
Сколько всего беглецов?



9 штук

$$3 + 3 + 3 = 9$$

$$3 \cdot 3 = 9$$


(шт)

У этого цветка
Четыре лепестка.
А сколько лепестков
У трёх таких цветков?

12

$$4 + 4 + 4 = 12(\text{л.})$$

$$4 \cdot 3 = 12(\text{л.})$$



В одной вазе **15** роз, а в другой **10** тюльпанов и **3** лилии.



На сколько цветов в одной вазе больше, чем в

$$15 - (10 + 3) = 2 \text{ (цв.)}$$

на 2

цветка



Найди уравнения где неизвестно
вычитаемое.



$$X + 7 = 50$$

$$K - 8 = 76$$

$$45 - a =$$

$$4 + a =$$

$$25 - B =$$

$$a + 11 =$$


$$69 - X =$$

$$B - 7 = 38$$

ЗАДАНИЯ НА СМЕКАЛКУ



В квадратном зале для танцев поставь
вдоль стен **8** кресел так, чтобы у каждой стены
стояло кресел поровну.



конец

