


ВПР
Окружающий
мир

- 1) Рассмотрй рисунок, на котором изображён рабочий уголок школьника. Рюкзак изготовлен из ткани. Он отмечен на рисунке стрелкой с соответствующей надписью.

Покажи на рисунке стрелкой любой предмет (любую деталь) из стекла и любой предмет (любую деталь) из резины. Подпиши название соответствующего материала рядом с каждой стрелкой.



2

На интернет-сайтах погоды можно встретить подобные таблицы. Изучи прогноз погоды на трое суток.

	Пятница, 13 июля				Суббота, 14 июля				Воскресенье, 15 июля			
	Ночь	Утро	День	Вечер	Ночь	Утро	День	Вечер	Ночь	Утро	День	Вечер
Облачность и атмосферные осадки												
Температура воздуха, °С	21	23	23	22	21	24	24	23	21	24	24	23
Направление ветра												
	С	С	С	С	СВ	СВ	СВ	СВ	В	В	ЮВ	Ю
Влажность воздуха, %	79	71	57	65	74	68	56	76	76	56	60	82

Выбери все верные утверждения об ожидаемой погоде на эти трое суток и запиши в строку ответа их номера.

- 1) Температура воздуха на протяжении всех трёх суток будет выше 20 °С.
- 2) В пятницу влажность воздуха будет колебаться от 60% до 70%.
- 3) В субботу будет преобладать северо-западный ветер.
- 4) В субботу и воскресенье ожидается переменная облачность без осадков.

Ответ: 1,4

СЕВЕРНЫЙ ЛЕДОВИТЫЙ ОКЕАН

Т И Х И Й О К Е А Н



Арктические пустыни




Тундра и лесотундра




Тайга



Зона смешанных и широколиственных лесов



Лесостепи и степи



Полупустыни и пустыни



Влажные субтропики

3

Рассмотри карту России. На ней буквами А и Б отмечены две природные зоны.



3.1. Запиши название каждой природной зоны в отведённое для этого поле.

Название природной зоны (А):

зона

Название природной зоны (Б):

зона

степей

тайги

3.2. На следующем слайде представлены фотографии ёлочки глухаря, елей и тюльпанов. Запиши название каждого из этих животных и растений рядом с номером фотографии, на которой оно изображено.

1) **ел**

2) **тюльпа**

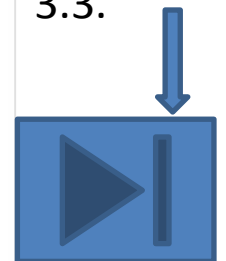
3) **глухар**

4) **дрюф**

Переход
на слайд
с фото



Переход
на слайд
с
заданием
3.3.





1)



2)



3)



4)



3.3. Какие из этих животных обитают и какие растения произрастают в естественной среде (не в зоопарке и не в ботаническом саду) на территории природной зоны А, а какие – природной зоны Б? Запиши номера фотографий с изображением этих животных и растений в таблицу под соответствующими буквами.



Ответ:

Природная зона	А	Б
Животные и растения	2,4	1,3



1)



2)



3)



4)

4

Рассмотри изображение человека. Покажи стрелками и подпиши плечо, лёгкое и бедро человека так, как показано на примере.

плеч

о

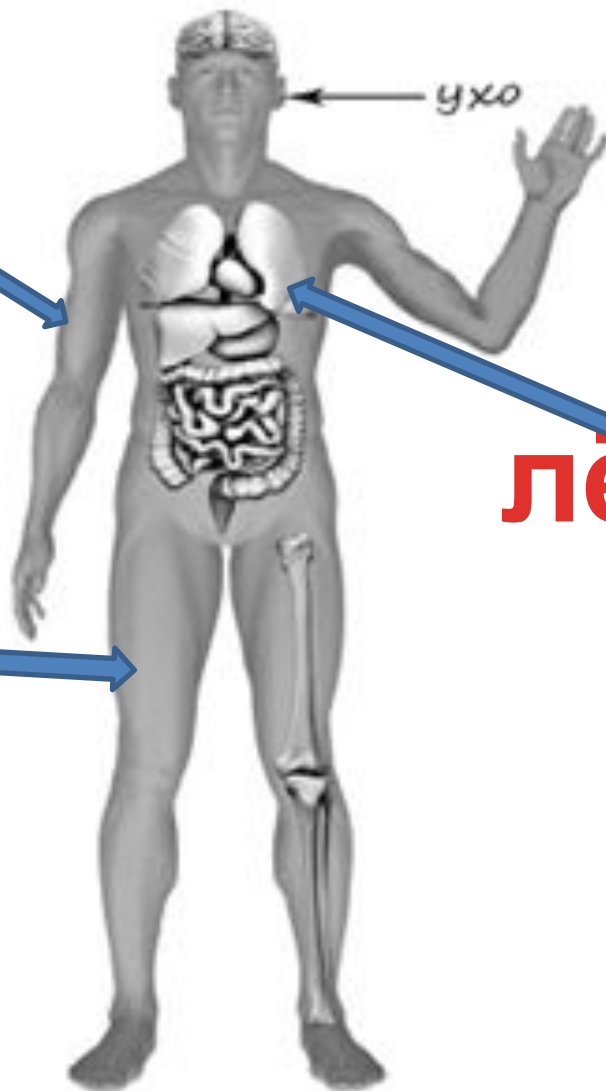
ухо

лёгко

е

бедр

о



5

Если правильно подобрать к началу каждой фразы из первого столбца продолжение фразы из второго столбца, то получится правило, помогающее человеку сохранить здоровье и жизнь. Составь два правила из приведённых частей фраз: для этого к каждой позиции первого столбца подбери соответствующую позицию из второго столбца.

Начало фразы

Продолжение фразы

А) Чтобы не потеряться и не заблудиться в лесу,

1) не трогай руками электрические розетки.
2) надень непромокаемую обувь.

Б) Чтобы не получить удар током,

3) не ходи туда без сопровождения взрослых.

Запиши в таблицу выбранные цифры под соответствующими буквами.




Ответ:

Начало фразы	А	Б
Продолжение фразы	3	1


6

Лена проводила наблюдения за прорастанием семян гороха. Чтобы выяснить, влияет ли наличие света на прорастание, она взяла два стакана, положила в каждый из них влажную тряпочку и по десять одинаковых семян гороха. Один из стаканов она оставила в классе на столе, другой убрала в тёмный шкаф и стала наблюдать. Вскоре Лена обнаружила, что семена проросли в обоих стаканах.

Начало опыта



Окончание опыта



6.1. Сравни условия прорастания семян гороха в двух разных стаканах в описанном эксперименте. Подчеркни в каждой строке одно из выделенных слов.



Влажность семян в стаканах:

одинаковая / различная

Освещённость семян в стаканах:

одинаковая / различная

6.2. По результатам эксперимента сделай вывод о том, влияет ли наличие света на прорастание семян.



Ответ:

6.3. Если бы Лена захотела выяснить, влияет ли температура на прорастание семян, с помощью какого эксперимента она смогла бы это сделать? Опиши этот эксперимент.

Отве



7

Рассмотри знаки, изображённые на рисунках, и ответь на вопросы.



7.1. Какой из этих знаков относится к правилам дорожного движения?

Ответ: **Б**

Какое правило отражает этот знак?

Ответ:

[Redacted answer]

7.2. Какие правила отражают два других знака? Запиши ответы в таблицу.

ЗНАК	ПРАВИЛО
А	[Redacted]
В	[Redacted]

8

На фотографиях изображены предметы, с которыми работают представители определённых профессий.

Выбери одну из фотографий и запиши букву, под которой она приведена. Представители какой профессии работают с изображённым(-и) на выбранной фотографии предметом(-ами)? *Если ты знаешь много профессий, представители которых работают с выбранным(-и) тобой предметом(-ами), назови любую из них.* Какую работу выполняют люди этой профессии? Чем работа людей этой профессии полезна обществу?

А)



Б)



В)



Выбранная фотография:

**Прочитай
ответы.
Исправь
ошибки.**

А Изделия перед пошивом необходимо грамотно раскроить, это задача закройщика. Раскрой производят по лекалам вручную ножницами и ножами.

Закройщик – это мастер, занимающийся на предприятиях сферы услуг раскроем изделий из различных материалов для шитья одежды по индивидуальным заказам, а также осуществляющий ремонт одежды. Главное в деятельности закройщика – уметь «читать» эскизы моделей одежды и понимать, какими конструктивными средствами можно воплотить их в жизнь

Б

Полицейского недаром называют стражем порядка. Эта профессия предполагает защиту граждан от нарушителей и поддержание порядка. Кроме того полицейские расследуют уже совершенные преступления, хотя стараются в первую очередь их предотвратить.

В

Сварщик занимается соединением металлических деталей при помощи электросварки или газосварки. Для этого он нагревает металлы с помощью сварочного аппарата, металл на месте сварки расплавляется и детали как будто склеиваются друг с другом, а на месте стыков остаются швы.

Сварщики - популярная и нужная профессия. Например, без труда сварщика не обойтись на стройке - сварщик соединяет металлические конструкции. На заводах, где производят металлические детали для автомобилей или станков сварщик тоже

9

День российской печати отмечается в нашей стране 13 января.

Обведи эту дату в календаре.

2020

Январь

ПН	ВТ	СР	ЧТ	ПТ	СБ	ВС
		1	2	3	4	5
6	7	8	9	10	11	12
13	14	15	16	17	18	19
20	21	22	23	24	25	26
27	28	29	30	31		

Февраль

ПН	ВТ	СР	ЧТ	ПТ	СБ	ВС
					1	2
3	4	5	6	7	8	9
10	11	12	13	14	15	16
17	18	19	20	21	22	23
24	25	26	27	28	29	

Март

ПН	ВТ	СР	ЧТ	ПТ	СБ	ВС
						1
2	3	4	5	6	7	8
9	10	11	12	13	14	15
16	17	18	19	20	21	22
23	24	25	26	27	28	29
30	31					

Апрель

ПН	ВТ	СР	ЧТ	ПТ	СБ	ВС
		1	2	3	4	5
6	7	8	9	10	11	12
13	14	15	16	17	18	19
20	21	22	23	24	25	26
27	28	29	30			

Май

ПН	ВТ	СР	ЧТ	ПТ	СБ	ВС
				1	2	3
4	5	6	7	8	9	10
11	12	13	14	15	16	17
18	19	20	21	22	23	24
25	26	27	28	29	30	31

Июнь

ПН	ВТ	СР	ЧТ	ПТ	СБ	ВС
1	2	3	4	5	6	7
8	9	10	11	12	13	14
15	16	17	18	19	20	21
22	23	24	25	26	27	28
29	30					

Июль

ПН	ВТ	СР	ЧТ	ПТ	СБ	ВС
		1	2	3	4	5
6	7	8	9	10	11	12
13	14	15	16	17	18	19
20	21	22	23	24	25	26
27	28	29	30	31		

Август

ПН	ВТ	СР	ЧТ	ПТ	СБ	ВС
					1	2
3	4	5	6	7	8	9
10	11	12	13	14	15	16
17	18	19	20	21	22	23
24	25	26	27	28	29	30
31						

Сентябрь

ПН	ВТ	СР	ЧТ	ПТ	СБ	ВС
	1	2	3	4	5	6
7	8	9	10	11	12	13
14	15	16	17	18	19	20
21	22	23	24	25	26	27
28	29	30				

Октябрь

ПН	ВТ	СР	ЧТ	ПТ	СБ	ВС
			1	2	3	4
5	6	7	8	9	10	11
12	13	14	15	16	17	18
19	20	21	22	23	24	25
26	27	28	29	30	31	

Ноябрь

ПН	ВТ	СР	ЧТ	ПТ	СБ	ВС
						1
2	3	4	5	6	7	8
9	10	11	12	13	14	15
16	17	18	19	20	21	22
23	24	25	26	27	28	29
30						

Декабрь

ПН	ВТ	СР	ЧТ	ПТ	СБ	ВС
	1	2	3	4	5	6
7	8	9	10	11	12	13
14	15	16	17	18	19	20
21	22	23	24	25	26	27
28	29	30	31			


Запиши, на какой день недели приходится эта дата в 2020 году.

Ответ: понедельник

ИУ

Как ты думаешь, зачем издают газеты и журналы? (Напиши ответ объёмом до пяти предложений.)

Отве



очередь.

10

10.1. Запиши название региона: республики, или области, или края, или города, или автономного округа, в котором ты живёшь.

Ответ: _____

Как называется главный город твоего региона?

Ответ: _____

10.2. Что изображено на гербе твоего региона?

Ответ: _____

Какие природные или культурно-исторические достопримечательности есть в твоём регионе (укажи не менее двух)? Напиши об одной из этих достопримечательностей.

Ответ: _____

**Архангельская
Архангель
СК**

**Спасибо за
работу!**