

Преобразование информации ,
представленной в виде карты

Виды карт.

Экономические



Исторические



Административно-территориальные



Физические

Исторические





Топографическая задача





От  путь к нашему лагерю проходил через , который

постепенно превратился в . Чтобы сократить дорогу, мы пошли по

, мимо  1, по  2, ми-

мо  3. Через 15 минут мы вышли к  **Рица**, которую

перешли по . От нее мы подошли к , который окружал

наш лагерь.


Прочти письмо

Здравствуй мама!

Мы ходили в поход. Рано утром мы вышли

из  ШК , пошли по  до  К ,

повернули на запад по  и подошли к



.Справа от нас был  ,

а слева



.Дальше мы шли по




до




. Затем, мимо



вдоль

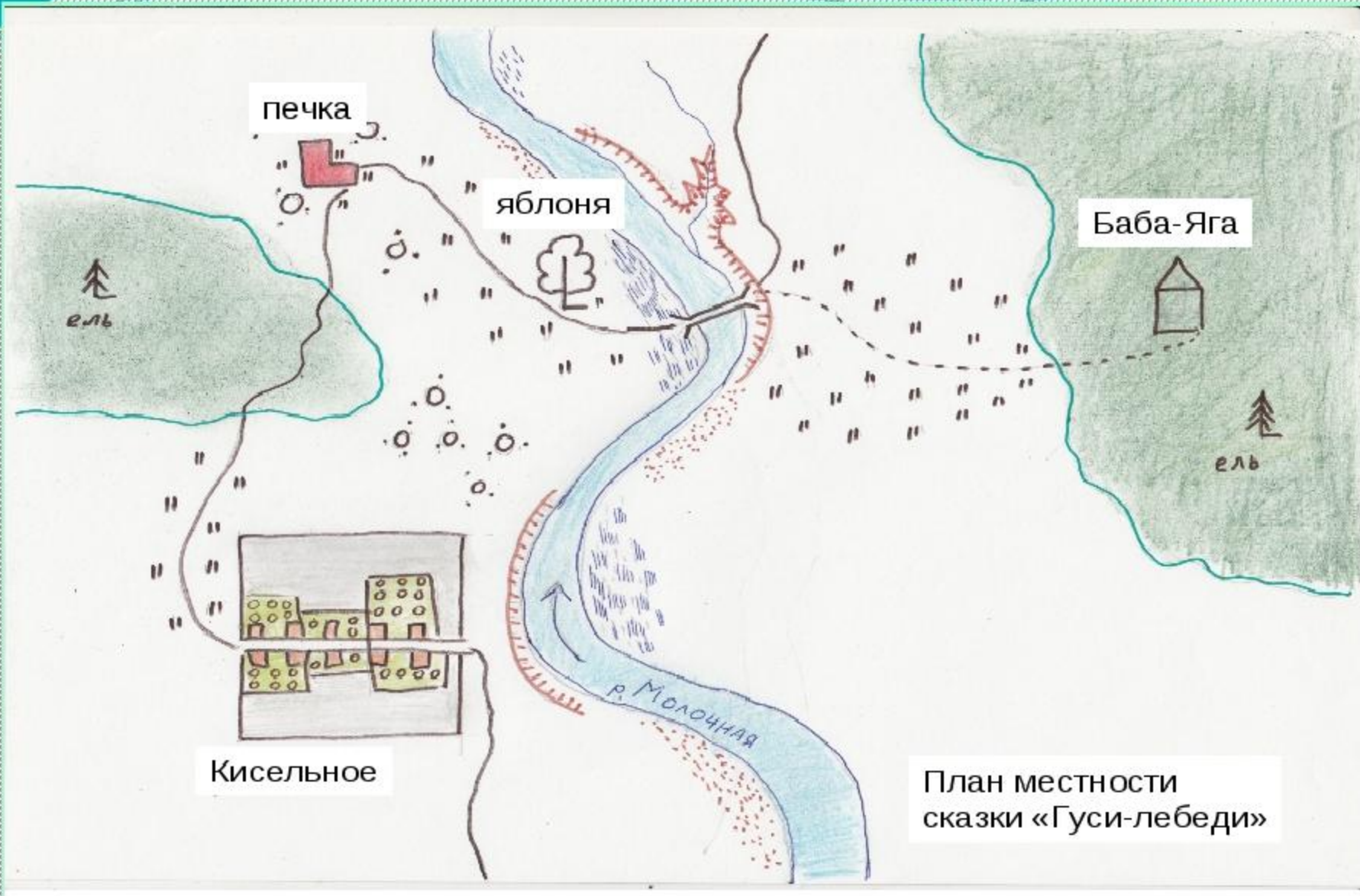


по



мы вернулись в





План местности сказки «Гуси-лебеди»

Историческая карта

Практика. Задание 2. Ответ.

Название события

Русско-польская война: кампания 1654 года



Особенные значки и даты



Выдели особенности исторической карты.

Историческая карта

Практика. Задание 3.

Ответ.

название исторического события

легенда карты с историческими обозначениями

собственные значки исторических событий



Проверь и оцени себя!

Докажи, что данная карта – историческая

Русско – турецкая война XIX века



lesson-history.narod.ru

Сосредоточение войск к началу войны:

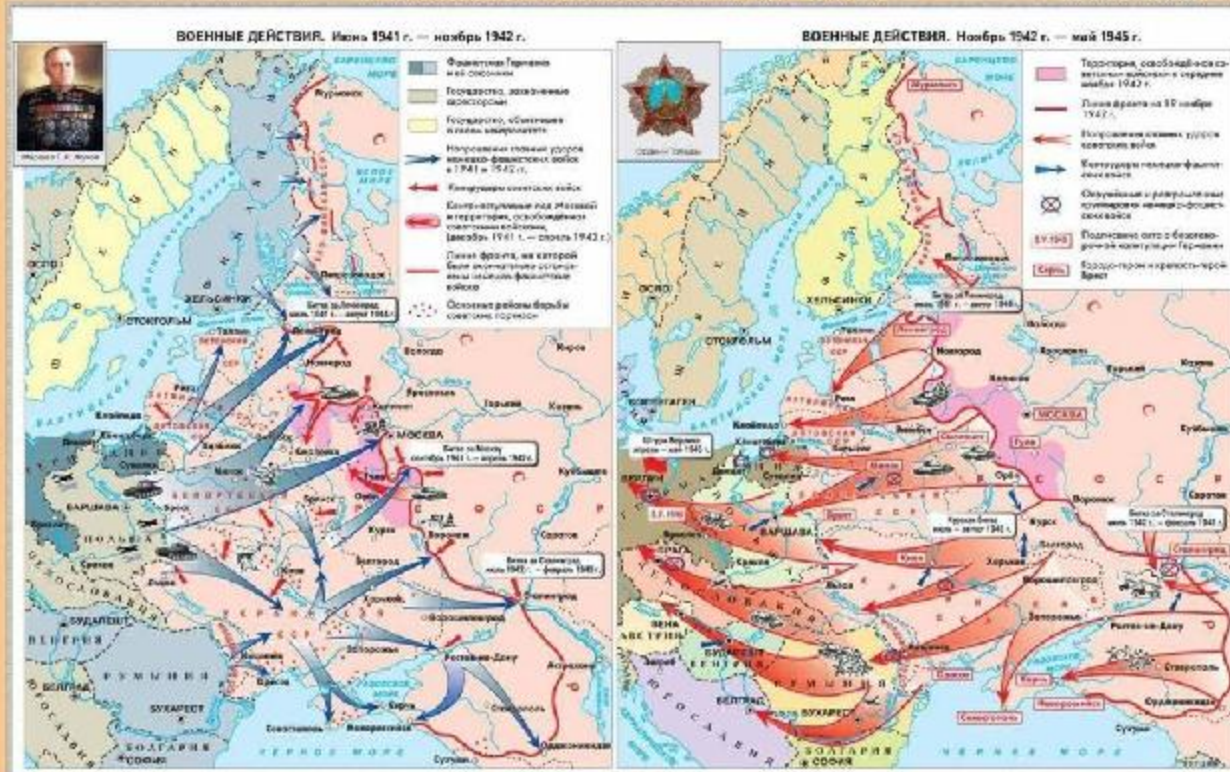
- Русских
- Турецких
- Боевые действия русских войск
- Боевые действия и отход турецких войск

- Осада Карса
- Места и даты крупнейших сражений

Историческая карта

ВЕЛИКАЯ ОТЕЧЕСТВЕННАЯ ВОЙНА. 1941—1945 гг.

Для объединения военных учреждений
НАЧАЛЬНАЯ ШКОЛА



Историческая карта

Помогает увидеть, какие изменения произошли на какой-либо территории

Отвечает на вопрос, где произошло событие

Историческая карта



ДВУРЕЧЬЕ В IV - III ТЫСЯЧЕЛЕТИЯХ ДО Н.Э.

Название карты
(здесь обычно
указывается и период
времени, о котором
хочет рассказать карта)

СЕЛЬСКОХОЗЯЙСТВЕННОЕ ИСПОЛЬЗОВАНИЕ
ЗЕМЕЛЬ ДВУРЕЧЬЯ

- Земли неополненного и горно-ручьевого земледелия и пастбища
- Земли, орошаемые с помощью водоподъемных сооружений
- Заливные земли
- Степные районы

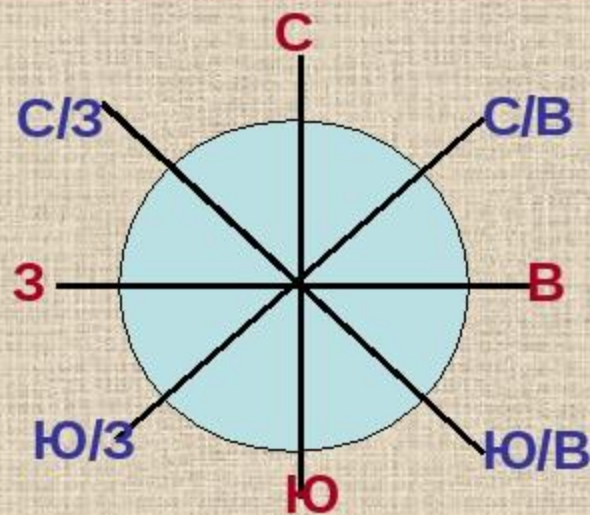
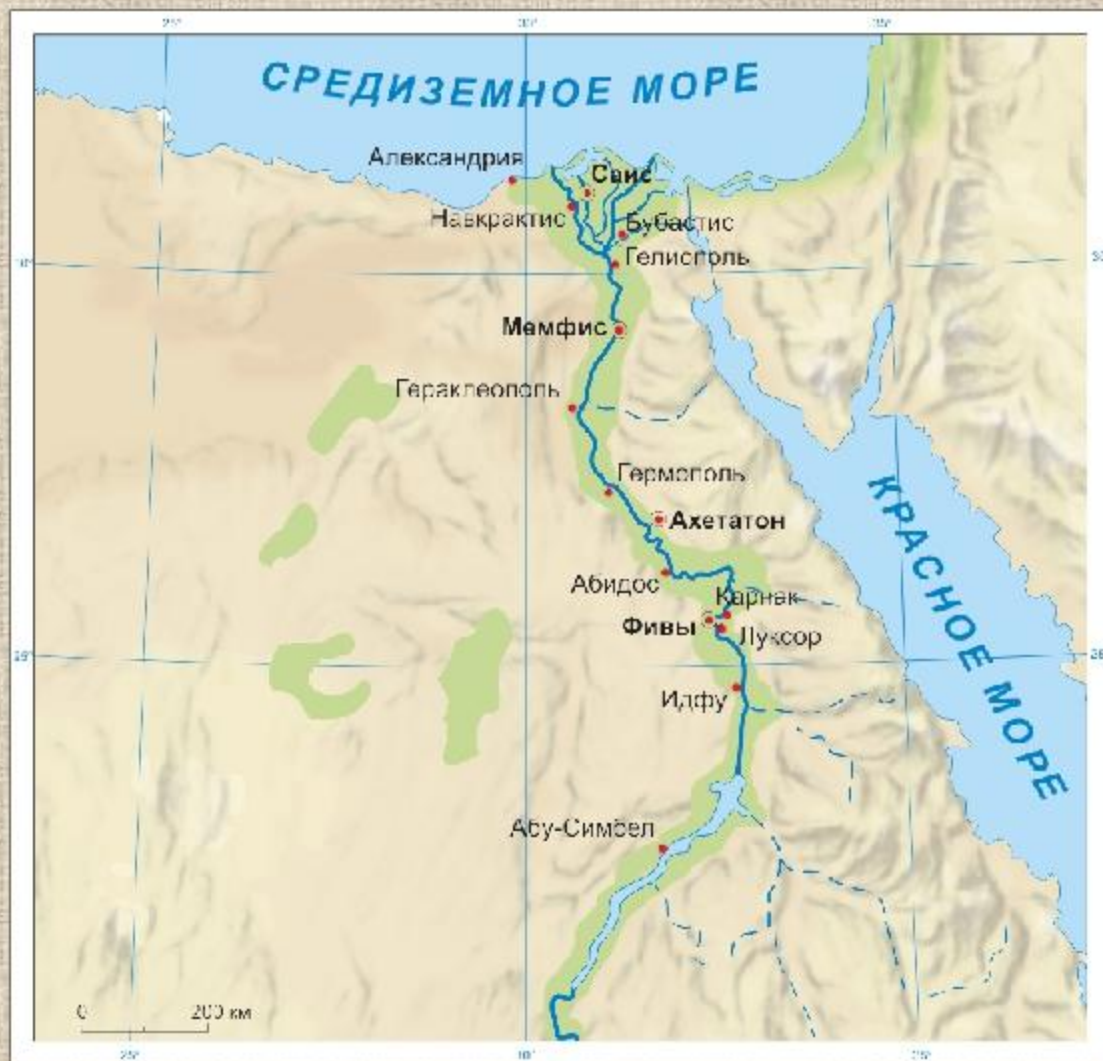
Легенда карты





Итак, чтобы правильно
прочитать карту, нужно
внимательно изучить её
название и легенду.



- Составь рассказ по карте, со следующего слайда

Учимся читать карту



-  Основные районы земледелия
-  Каналы
-  Столицы Египетского государства
-  Прочие города

Историческая карта



Практика. Задание 4 – творческая работа.

Если

- 1. ты составил (-а) рассказ в соответствии с требованиями – 1 балл;**
 - 2. ты составил (-а) рисунок – карту – 1 балл;**
 - 3. твой рисунок соответствует рассказу – 1 балл;**
 - 4. все обозначения и использованные тобой цвета пояснены в легенде – 1 балл;**
 - 5. название карты соответствует её содержанию – 1 балл.**
- Всего 5 баллов.**

Проверь и оцени себя!