





Занятие 32.
ПОВТОРЕНИЕ

Занятие 32. ПОВТОРЕНИЕ


1

Каких предметов больше, а каких – меньше?
На сколько?


 $> < =$ 

2

Составь по картинкам рассказы. Придумай вопросы. Заполни схемы и допиши равенства.



?




$$2 + 3 = \square$$




?



$$7 - 4 = \square$$



?



$$6 + 1 = \square$$

3

На какие части разбито число 5? Составь все возможные равенства и нарисуй картинку. На какие ещё части можно разбить число 5?

$$3 + 2 = 5$$

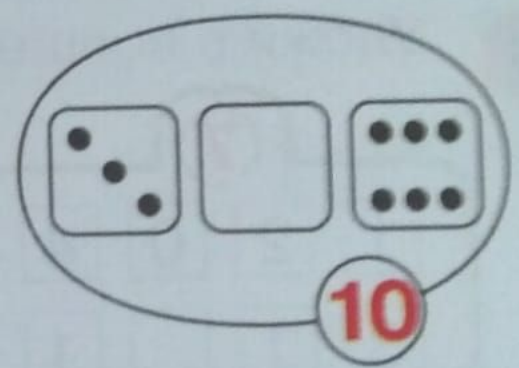
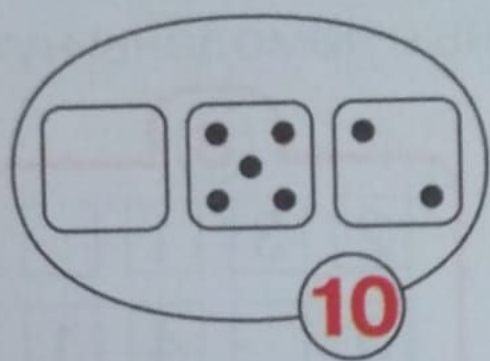

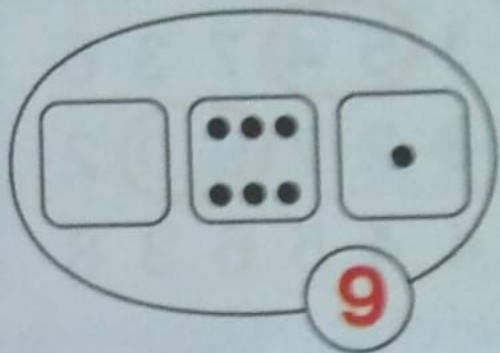
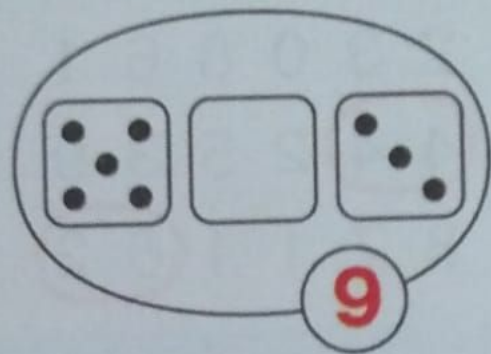
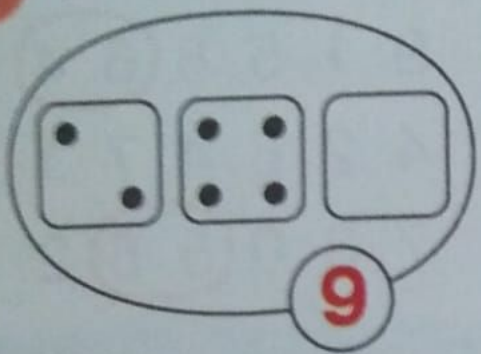
$$\square + \square = \square$$

$$5 - 3 = \square$$

$$\square - \square = \square$$

4

Дорисуй на пустых фишках недостающие точки.

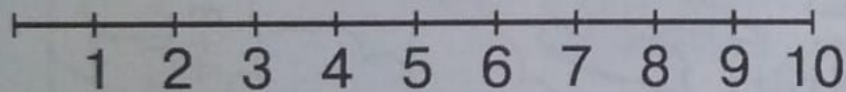


5* Поставь вместо звёздочек знак «+» или «-». Проверь по числовому отрезку.

$$4 * 2 * 3 = 9$$

$$7 * 1 * 6 = 2$$

$$10 * 3 * 2 = 5$$



6

Раскрась.

