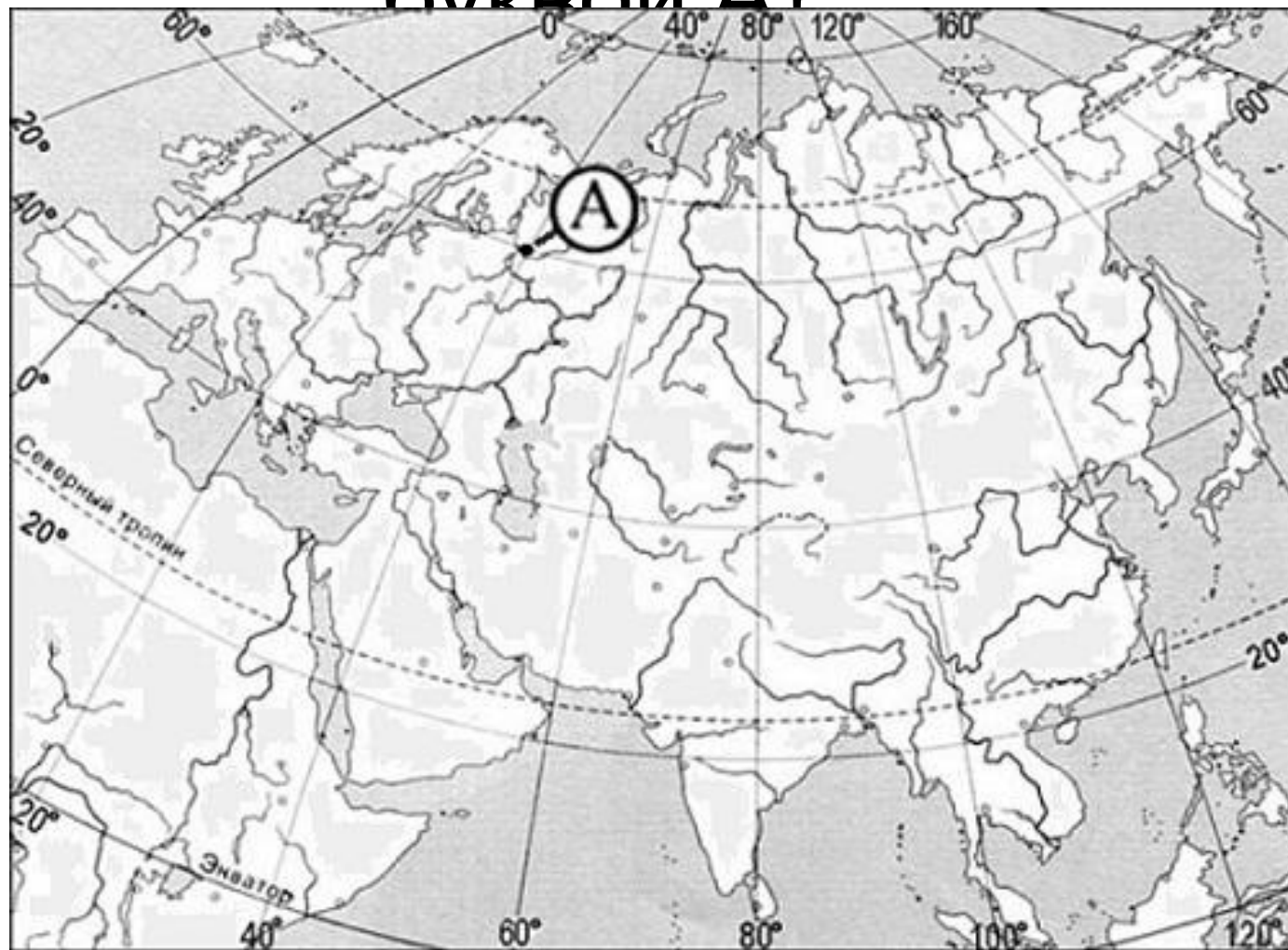
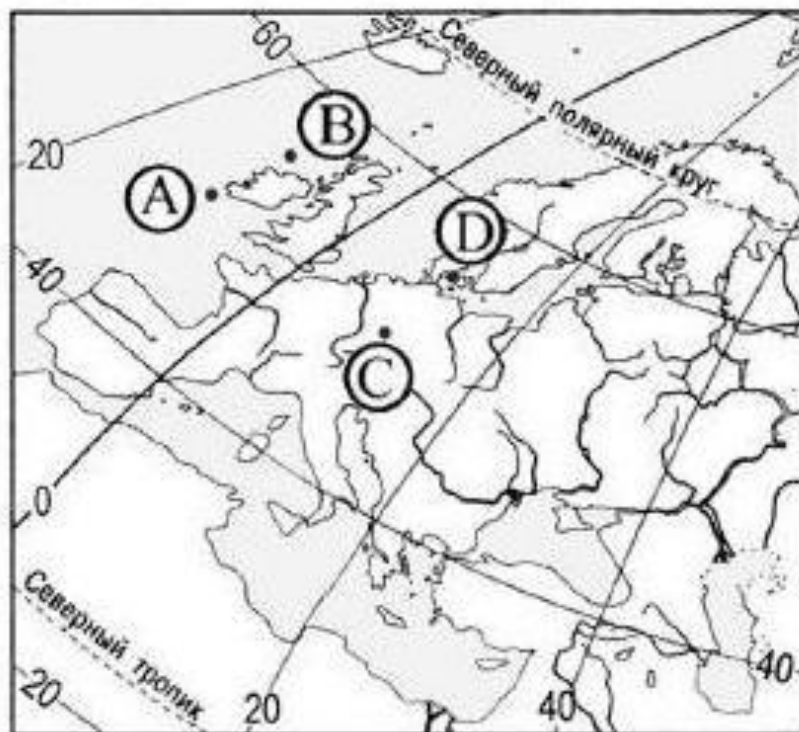


Какие географические  
координаты имеет точка,  
обозначенная на карте Евразии  
буквой А?



**A1** Какой буквой на карте Европы обозначена точка, имеющая географические координаты  $55^{\circ}$  с.ш. и  $10^{\circ}$  з.д.?



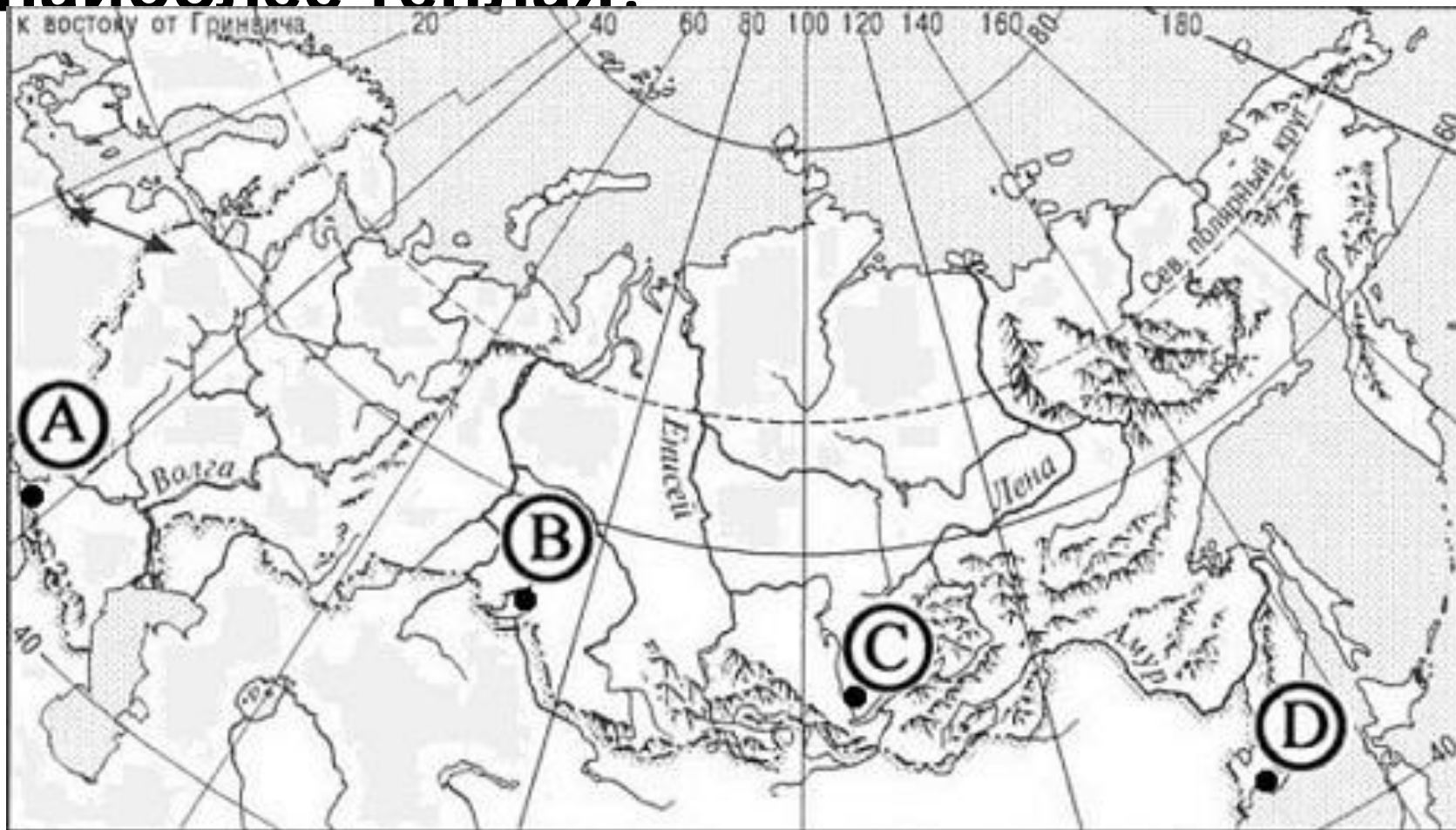
1) A

2) B

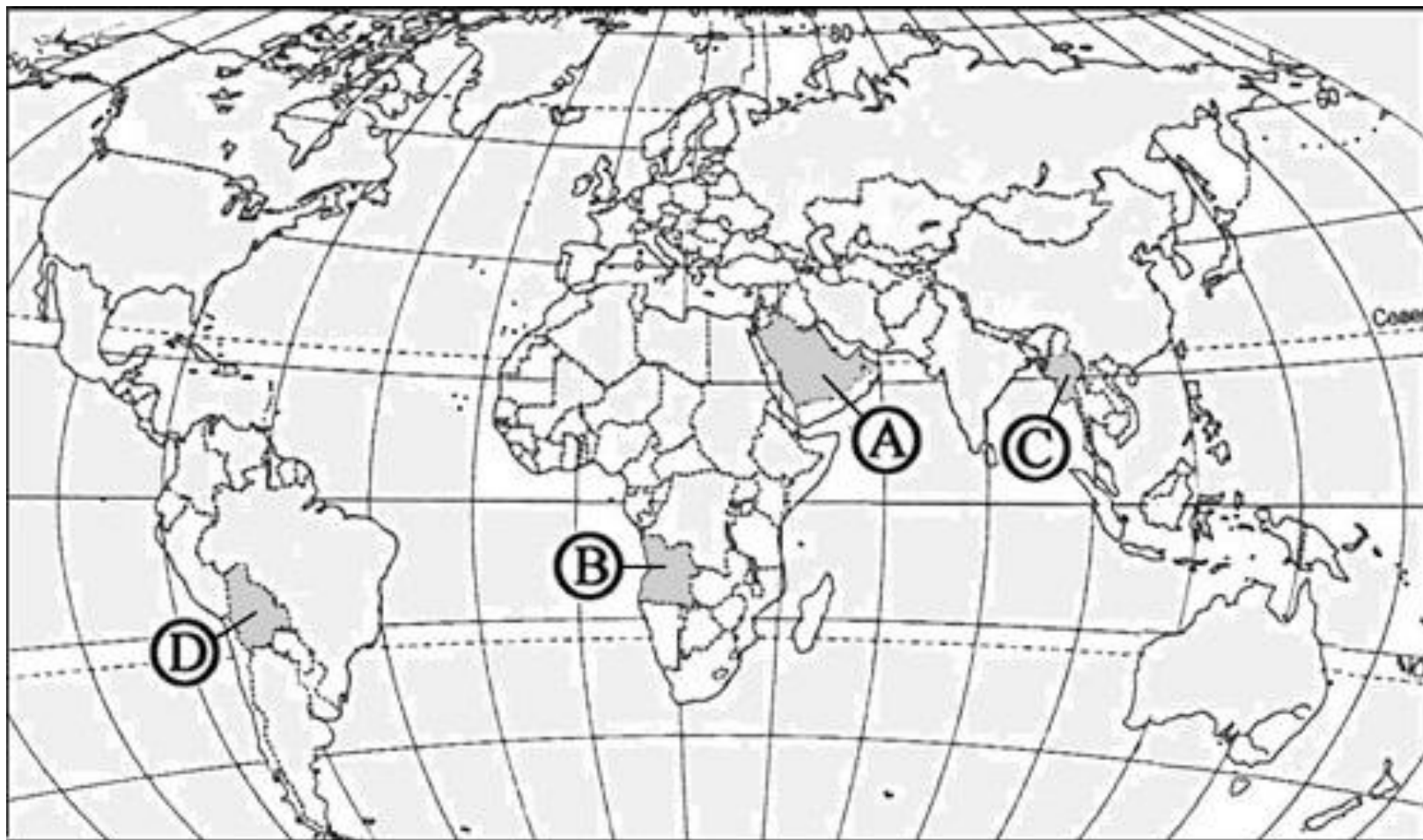
3) C

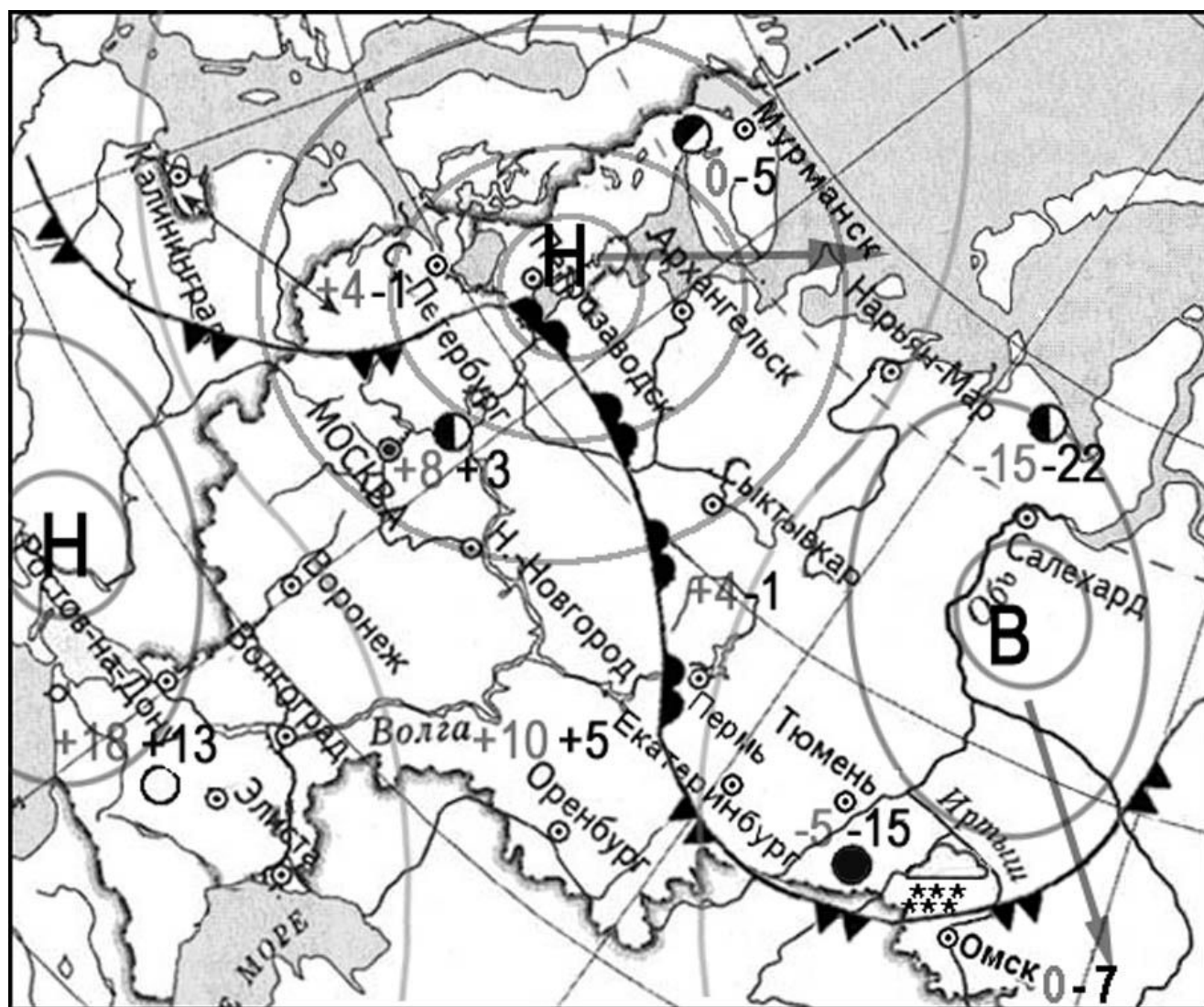
4) D

**В каком из городов, обозначенных буквами на карте России, зима наиболее теплая?**

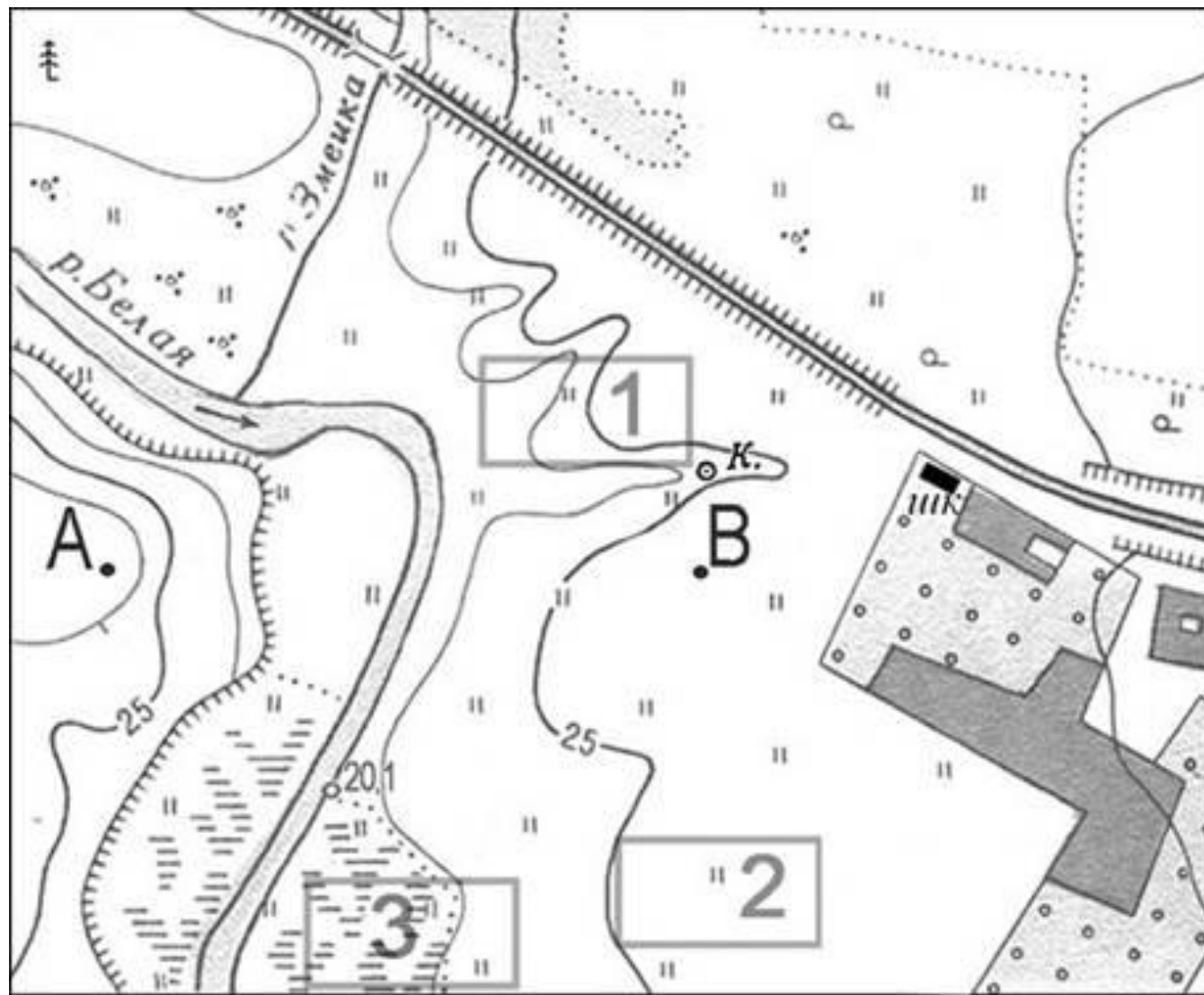


**Какой буквой на политической карте мира обозначено государство Ангола?**





- |          |      |                                              |
|----------|------|----------------------------------------------|
| день     | ночь | температура<br>воздуха                       |
| 0        | -7   |                                              |
|          |      | теплый<br>атмосферный<br>фронт               |
|          |      | холодный<br>атмосферный<br>фронт             |
| <b>В</b> |      | область высокого<br>атмосферного<br>давления |
| <b>Н</b> |      | область низкого<br>атмосферного<br>давления  |
|          |      | направление<br>движения<br>воздушных масс    |
|          |      | ясно                                         |
|          |      | переменная<br>облачность                     |
|          |      | облачно                                      |
|          |      | снег                                         |
|          |      |                                              |



- школа
- К. колодец
- ▄ Обрыв
- Кустарник
- ▨ Болото

Масштаб 1:10 000

в 1 см 100 м

Горизонталы проведены через 2,5 метра



**Определите регион России по его краткому описанию.**

**Этот край имеет выход к двум морям, по суше граничит с одной из зарубежных стран. Большую часть территории занимает низменность, на юге расположены молодые высокие горы. Особенностью климата является непродолжительный холодный период года. Основное богатство края – агроклиматические и рекреационные ресурсы.**

**Определите регион России по его краткому описанию.**

**Более половины территории этой области занимают леса. Особенностью её ЭГП является положение на основных транспортных магистралях, соединяющих Европу с дальневосточными районами России и странами Азиатско-Тихоокеанского региона. Основу хозяйства составляют несколько крупных ГЭС, рядом с которыми построены крупные алюминиевые комбинаты и лесопромышленные комплексы. Большое значение имеют также добыча железной руды, угля и золота.**



**Эта республика – анклав внутри одного из краев. Расположена в северо-западной части молодых гор. Сельскохозяйственные угодья составляют почти половину территории субъекта. На территории республики имеется 13 санаторно-курортных учреждений.**

**Республика, расположена в основном к востоку от самого глубокого озера в мире. Имеет выход к государственной границе. Климат резко континентальный. Зона лиственных и сосновых лесов, степей. Вечная мерзлота. Лесистость территории 62%. На территории республики расположены 2 крупных заповедника. Титульный народ, численность которых составляет 1/3 от численности русских, относится к монгольской группе алтайской языковой семьи. Верующие – буддисты-ламаисты. Ведущие отрасли промышленности: энергетика, горнодобывающая промышленность, лесная и деревообрабатывающая, целлюлозно-бумажная промышленности.**