

«Восточные славяне в древности.»

План урока.

- 1. Происхождение славян.**
- 2. Расселение восточных славян.**
- 3. Соседи восточных славян.**
- 4. Образ жизни и занятия древних славян.**

Ответить устно.

- Найдите на физической карте Восточно-европейскую равнину. (атлас с.16)
- Определите относительную высоту Восточно-европейскую равнину. (атлас с.16)
- Определите к каким типам равнин относится (холмистым или плоским)
- Определите к каким моря выходит Русская равнина?
- Назовите внутренние моря?



Восточно-европейская равнина



ГЕОГРАФИЧЕСКОЕ ПОЛОЖЕНИЕ

Какова площадь Русской равнины?

С какими природными районами граничит Русская равнина ?

Какова протяженность равнины с севера на юг и с запада на восток?



ГЕОГРАФИЧЕСКОЕ ПОЛОЖЕНИЕ



Какова площадь Русской равнины?

С какими природными районами граничит Русская равнина ?


Какова протяженность равнины с севера на юг и с запада на восток?



Восточно-европейская равнина



Река Волга из космоса.





Река Волга.

Исток р. Волга



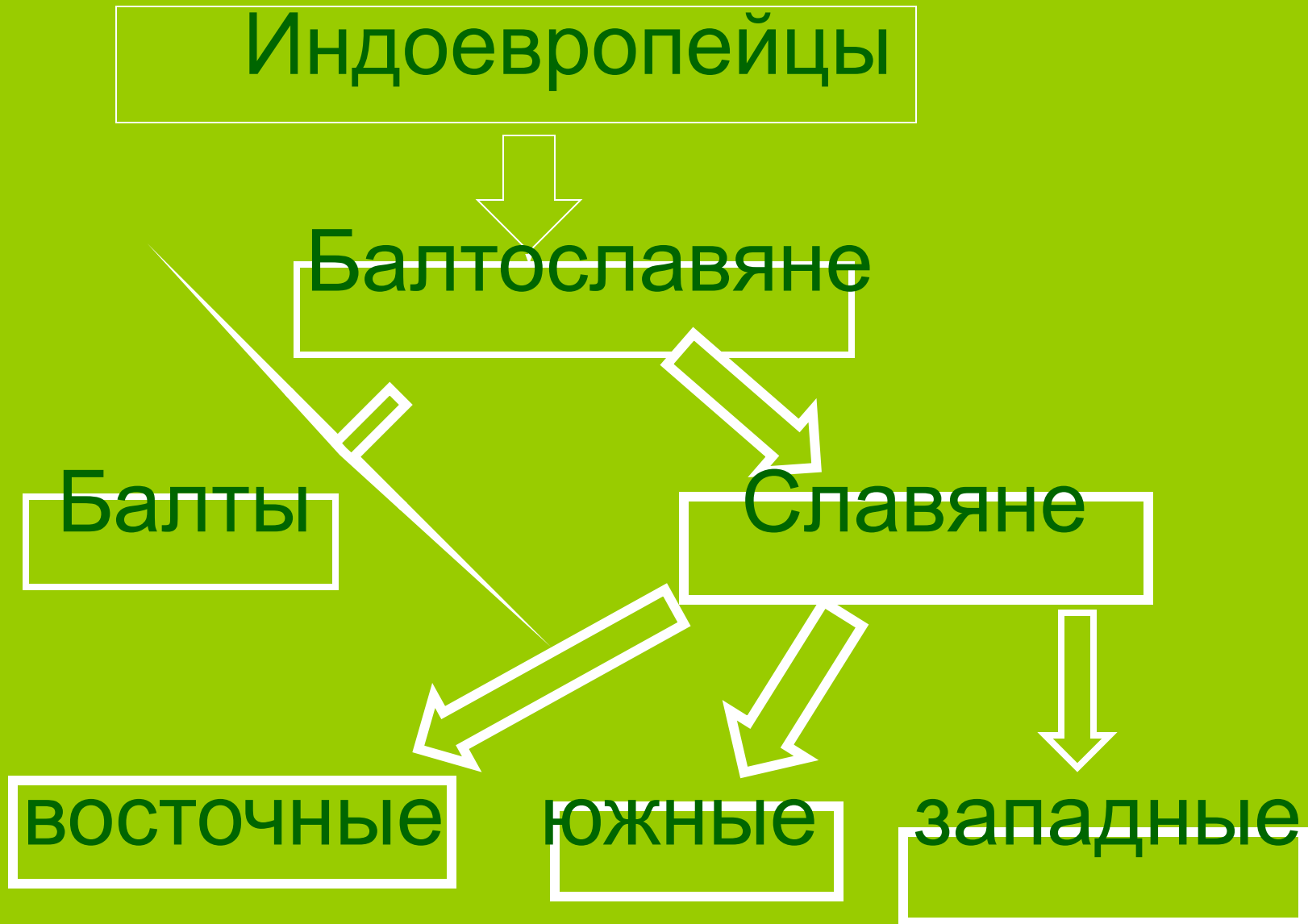
Отметить на контурной карте

- Каким притоком Волги является Ока?
- Найдите крупные реки: Волга, Дон, Днепр, Ока, Висла.(с.6)
- Подпишите найденные реки на карте.

Приволжская возвышенность

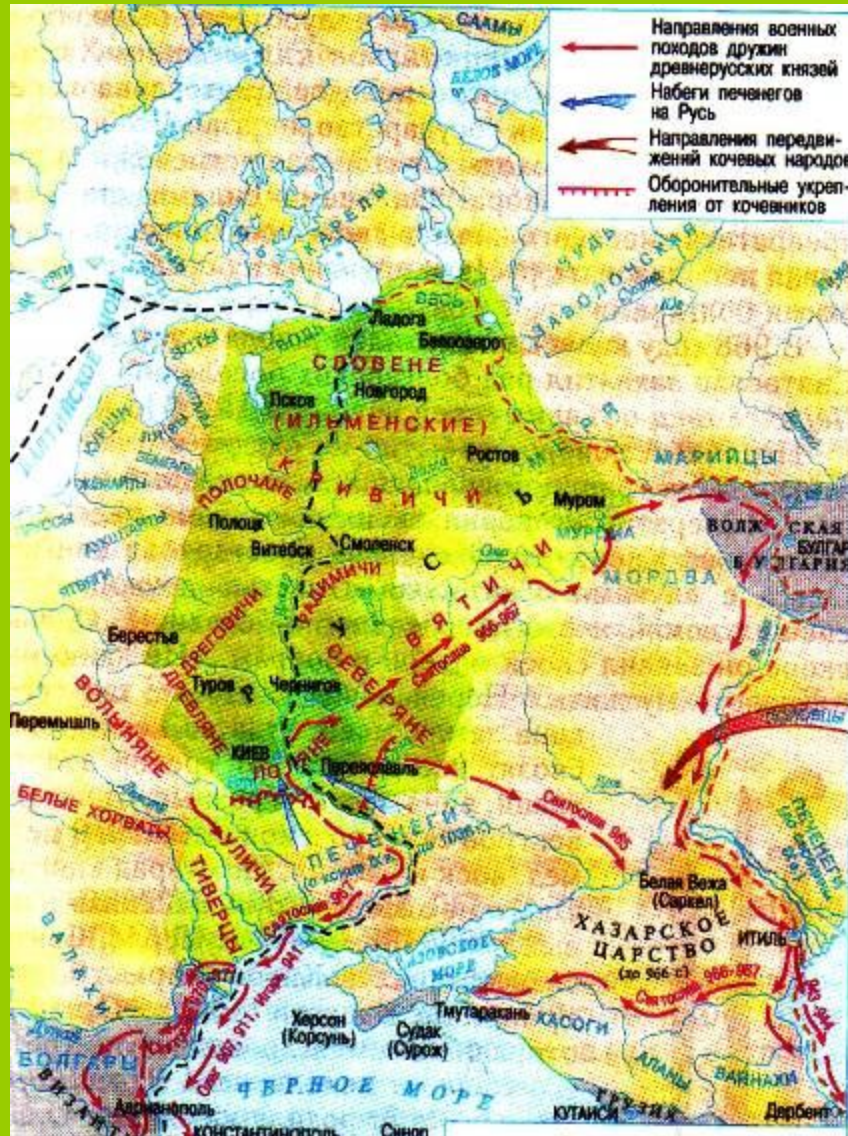


1. Происхождение славян




3. Соседи славян.

Восточная Европа до появления славян на ее территории была заселена от Балтийского до Уральских гор древними жителями лесного севера: финно-угорскими племенами – чудь, меря, мурома, весь.



С какими государствами соседствовали восточные славяне?

4. Образ жизни и занятия славян



- Где располагалось поселение?
 - Предположите сколько человек проживало?
 - Какие занятия преобладали у жителей?
- Используя иллюстрацию опишите образ жизни славян?