A classroom scene featuring a world map on a scroll at the top and a chalkboard below. The chalkboard has a purple box with yellow text. At the bottom of the chalkboard, there are four pieces of chalk: green, yellow, grey, and pink.

Случаи сложения

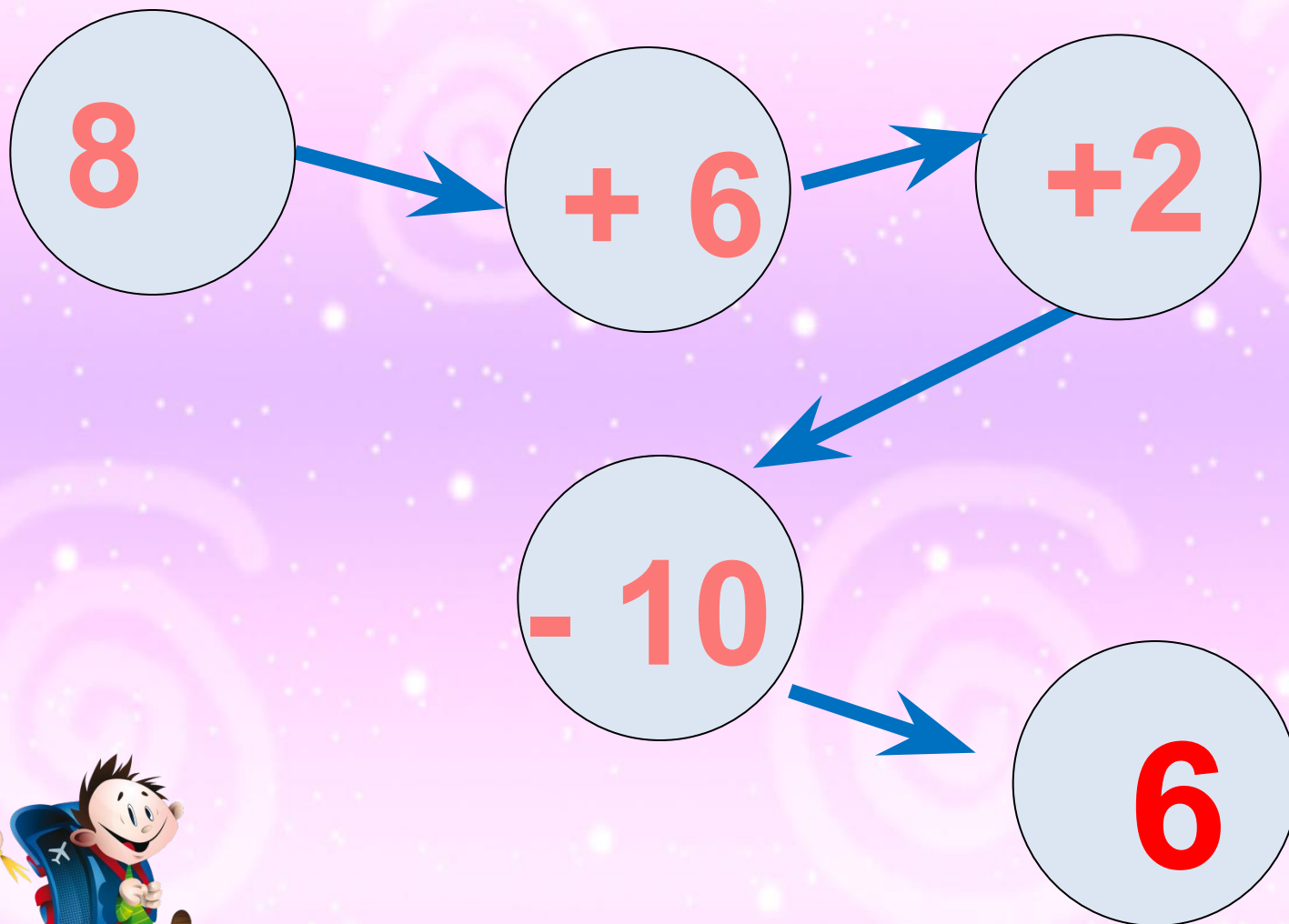
вида + 7

Урок № 103

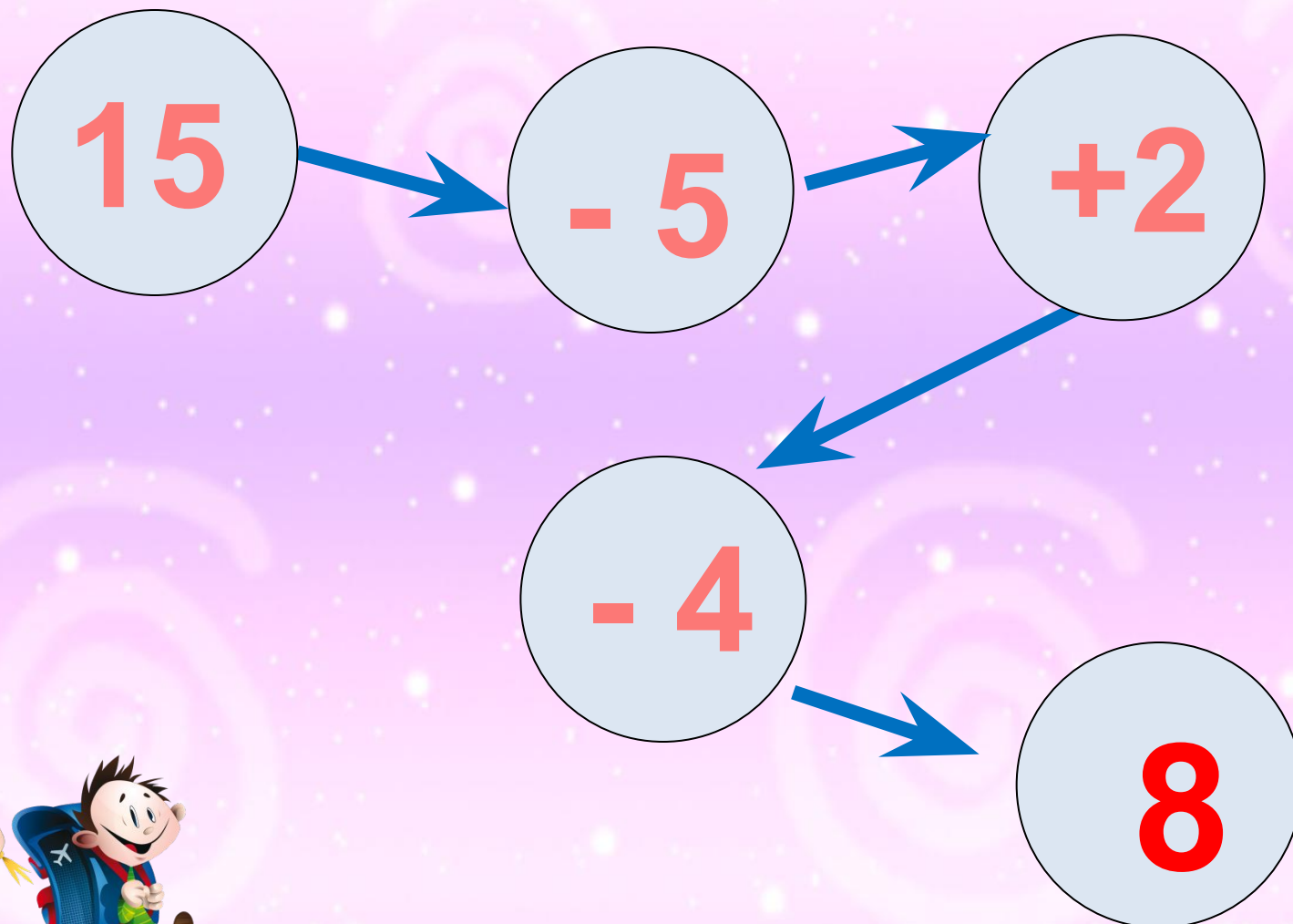
УСТНЫЙ СЧЁТ

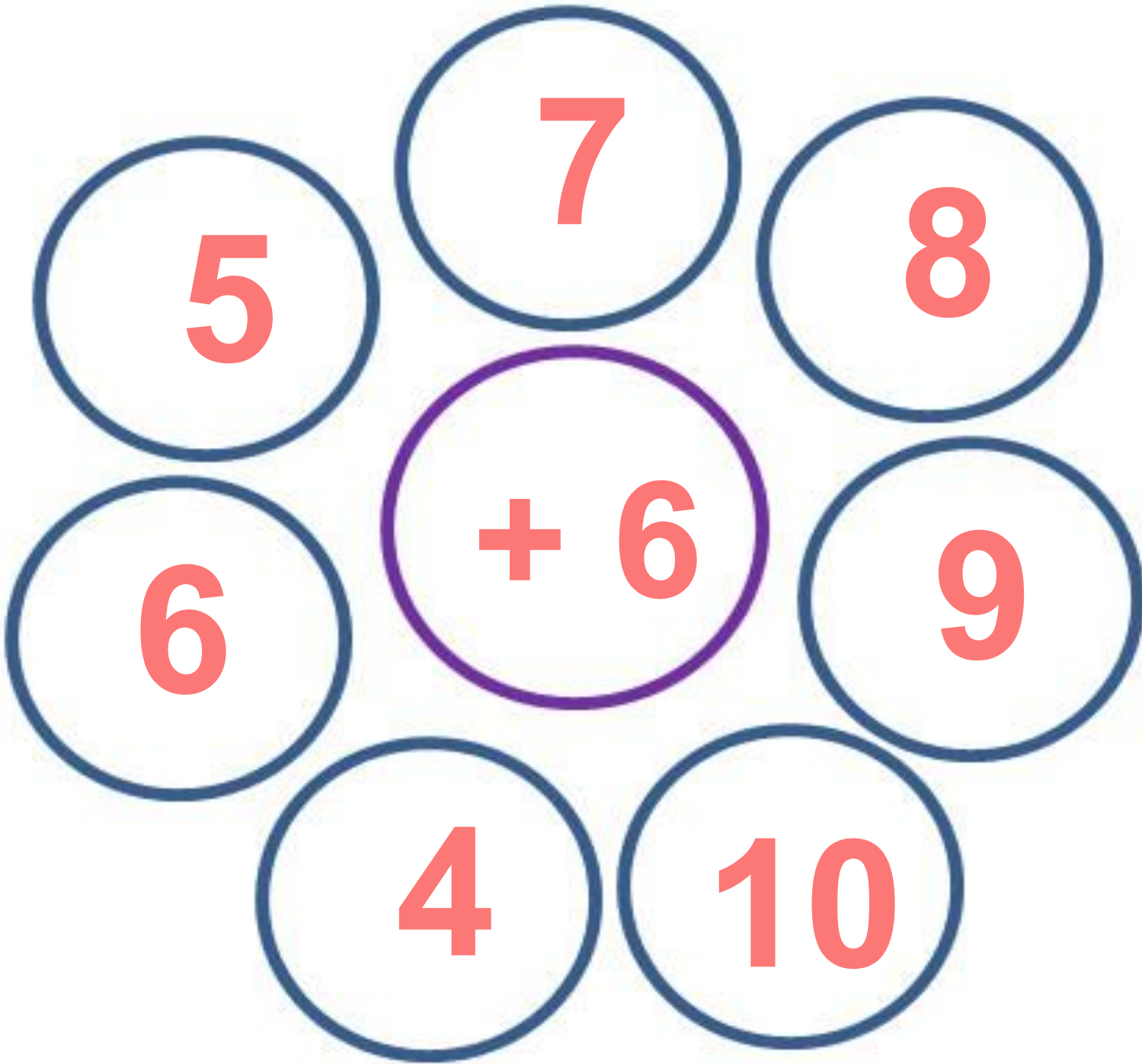


Реши цепочку примеров.



Реши цепочку примеров.





5

7

8

6

+ 6

9

4

10

Дима для украшения класса сделал уже **9** флажков. Ему осталось сделать ещё **6**. Сколько нужно всего сделать флажков Диме?

15

флажков

$$9 + 6 = 15$$



Диме надо вырезать **15** флажков. Он вырезал уже **10** флажков. Сколько ему осталось вырезать?



5

флажков

$$15 - 10 = 5$$




Дима сделал для класса **9** красных и **6** жёлтых флажков. На сколько больше он сделал красных, чем жёлтых флажков?



на 3

флажка

$$9 - 6 = 3$$



Расскажи, как удобнее прибавить 2 слагаемое.

$$7 + 6 = 7 + \underline{\quad} + \underline{\quad}$$


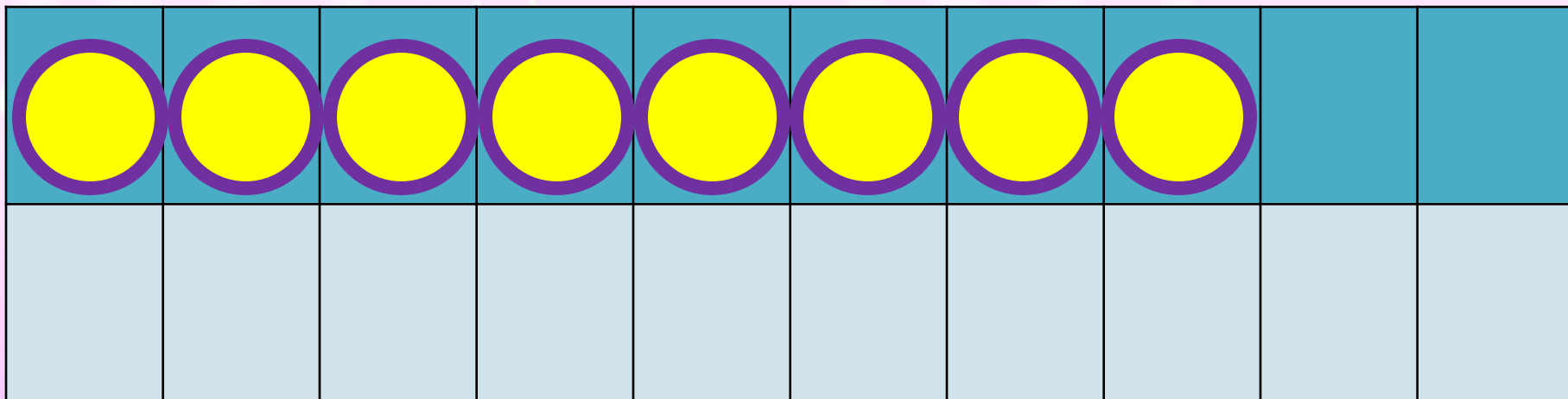
$$8 + 4 = 8 + \underline{\quad} + \underline{\quad}$$

$$9 + 3 = 9 + \underline{\quad} + \underline{\quad}$$



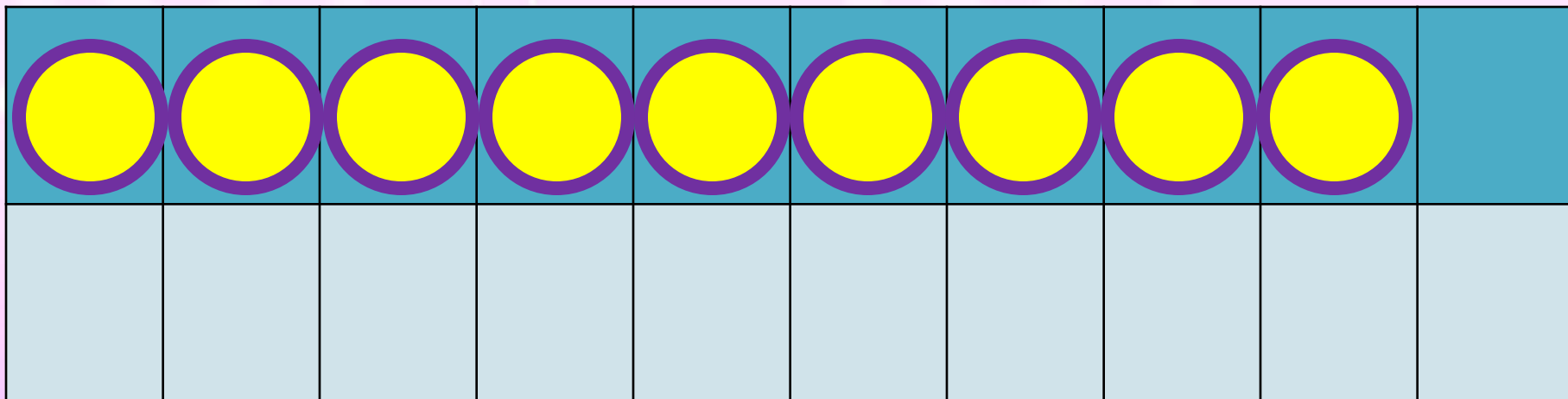
НОВЫЙ МАТЕРИАЛ





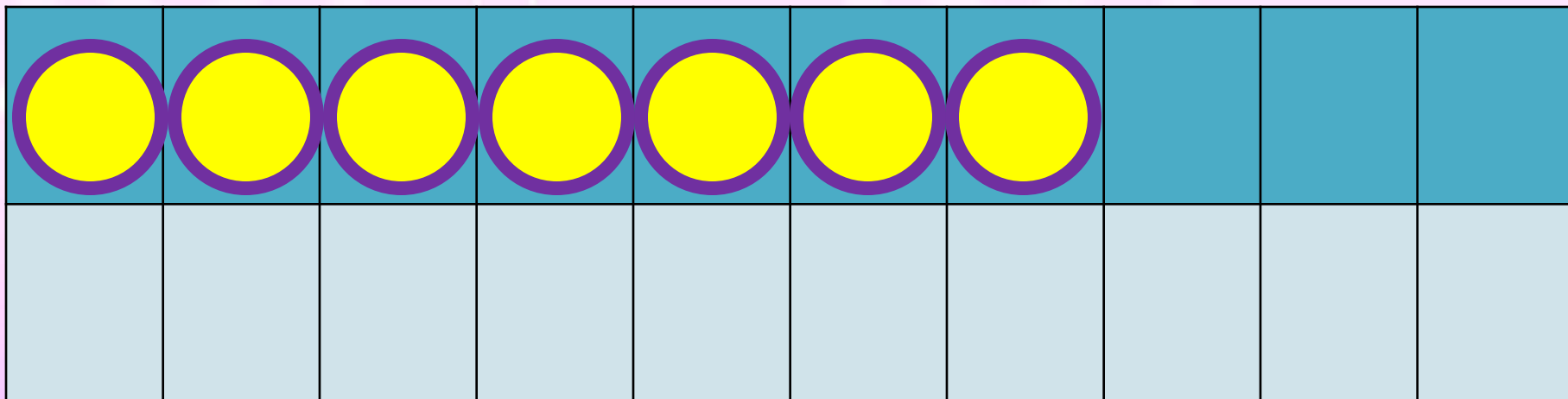
$$8 + 7$$

$$8 + 2 + 5$$



$$9 + 7$$

$$9 + 1 + 6$$



$$7 + 7$$

$$7 + 2 + 5$$

Запомни!


$$7 + 7 = 14$$

$$8 + 7 = 15$$

$$9 + 7 = 16$$



РАБОТА ПО УЧЕБНИКУ



Стр. 70

Объясни, как к числу 9 прибавить 7.



$$\begin{array}{r} 9 + 7 \\ \hline 9 + 1 + 6 \end{array}$$

Рассуждая так же, вычисли.

$$\begin{array}{r} 8 + 7 \\ \hline 8 + 2 + \square \end{array}$$

$$\begin{array}{r} 7 + 7 \\ \hline 7 + \square + \square \end{array}$$

Запомни!

$$9 + 7 = 16$$

$$8 + 7 = 15$$

$$7 + 7 = 14$$

1. $9 + 6$ | $9 + 3$ | $9 + 5$ | $15 - 0$ | $0 + 8$
 $8 + 5$ | $8 + 6$ | $8 + 4$ | $15 - 15$ | $9 - 9$

2. После чаепития в одной коробке осталось 6 конфет, а в другой — 4. Сколько конфет осталось в обеих коробках?

3. Какая сумка тяжелее, если в одной 3 кг капусты и 2 кг моркови, а в другой 6 кг картофеля? На сколько килограммов?



4. Что должно быть нарисовано в пустой клетке?



$4 + 2 + 6 = \square$ | $8 - 3 + 5 = \square$ | $4 + 5 + 7 = \square$

РАБОТА В ТЕТРАДИ



Стр. 37 (1,2)

1

12	
<input type="checkbox"/>	3
6	<input type="checkbox"/>
<input type="checkbox"/>	4
5	<input type="checkbox"/>

$$12 - \quad = 8$$

$$12 - \quad = 3$$

$$12 - \quad = 6$$

$$12 - \quad = 7$$

13

13	
4	<input type="checkbox"/>
<input type="checkbox"/>	7
8	<input type="checkbox"/>
<input type="checkbox"/>	6

$$13 - \quad = 8$$

$$13 - \quad = 6$$

$$13 - \quad = 4$$

$$13 - \quad = 5$$

2



На одном подоконнике было 4 цветка, а на другом — 5 цветков. Таня полила 7 цветков. Сколько цветков осталось полить Тане?
Закрась карточку с решением задачи.


$$4 + 7 - 5 = 6$$

$$4 + 5 - 7 = 2$$

$$5 + 7 - 4 = 8$$



ЗАКРЕПЛЕНИЕ





$$9 + \square = 16$$

$$12 - \square = 6$$

$$\square + 8 = 15$$



Вставь пропущенные числа.

Увеличь на 7 числа.



3	7	5	6	8	4	9



$$7 \text{ см} + 7 \text{ см} =$$



$$8 \text{ кг} + 7 \text{ кг} =$$

$$9 \text{ л} + 7 \text{ л} =$$

$$6 \text{ дм} + 7 \text{ дм} =$$



ЗАДАНИЯ НА СМЕКАЛКУ



У бабушки Даши внучка **Маша**, кот **Пушок**, собака **Дружок**. Сколько у бабушки внуков?



1 внучка



Мельник пришел на мельницу. В каждом углу он увидел по 3 мешка, на каждом мешке сидело по 3 кошки, у каждой кошки по 3 котёнка. Сколько ног было на мельнице?



Две ноги,
у кошек

папы

конец

