

ПУТЕШЕСТВИЕ ПО СТРАНАМ ЕВРОПЫ



УГАДАЙ СТРАНУ

1. Узнайте страну по описанию





Норвегия



Великобритания



Швейцария



Польша



Венгрия



Испания



Франция



Чехия



Исландия

2. Выслушав утверждение, назовите ту страну, которая, по вашему мнению, не относится к данному утверждению





1) Норвегия



2) Финляндия



3) Швеция



1) Испания




3) Италия



2) Германия



1) Италия



3) Ирландия



2) Греция



1) Венгрия



2) Дания



3) Румыния




1) Германия



2) Австрия



3) Чехия



1) Албания



2) Швейцария



3) Австрия

ОБЪЕДИНЕНИЕ В ГРУППУ СТРАН

3. Определите принцип объединения стран в группу





Польша



Венгрия



Чехия



Румыния

1



Франция



Германия

2



Великобритани



Италия



Великобритания

3



Норвегия



Дания



Бельгия



Швейцария

4



Словакия



Венгрия



Андорра



Сан-Марино

5




Лихтенштейн



Монако

4. Кроссворд «Страны Европы»



Ответы

