




$3,6 \cdot 3$



$0,25 \cdot 4$



$0,05 \cdot 4$



$0,004 \cdot 6$



$2,6 \cdot 5$



$0,125 \cdot 8$



$0,02 \cdot 15$



**M**  
**10,8**

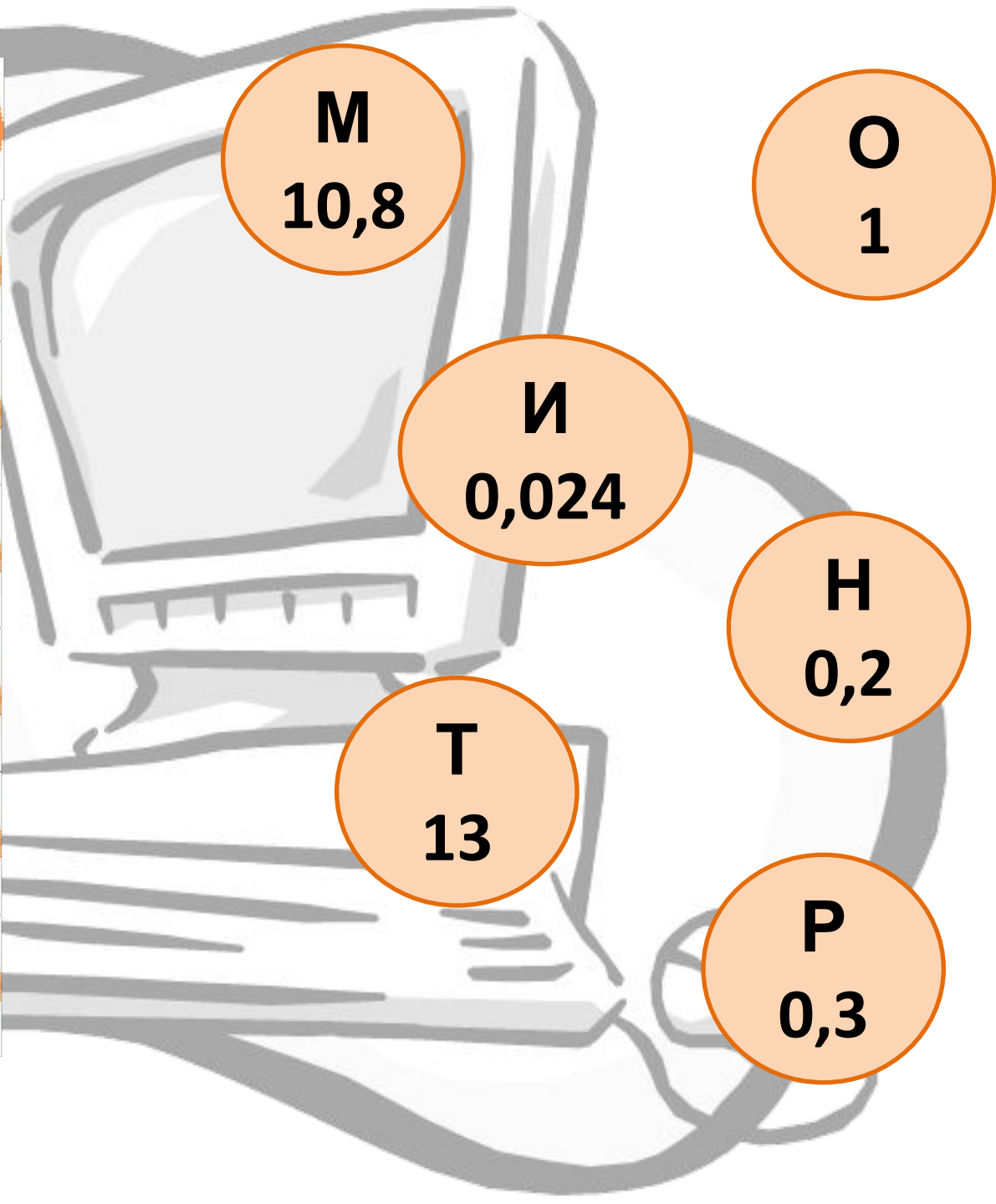
**O**  
**1**

**И**  
**0,024**

**H**  
**0,2**

**T**  
**13**

**P**  
**0,3**



На флеш-карте объёмом  
1 ГБ=1024 МБ находится  
графический файл, объём  
которого составляет 0,25  
объёма флеш-карты.


Сколько весит  
графический файл?





CD диск имеет объём 700 МБ,  
а DVD диск почти в 6,875 раз  
больше.

Найдите объём DVD диска.



1)  $0,7 \cdot 2 = 0,14$

6)  $12,5 \cdot 8 = 100$

2)  $0,15 \cdot 3 = 0,45$

7)  $32,1 \cdot 3 = 96,3$

3)  $1,5 \cdot 4 = 6$

8)  $100 \cdot 3,8 = 38$

4)  $6,12 \cdot 10 = 61,2$

9)  $10 \cdot 0,06 = 0,6$

5)  $2,5 \cdot 4 = 100$

10)  $0,0007 \cdot 1000 = 7$



Ключ:  $\Lambda$   $\Lambda$   $\Lambda$   $\Lambda$





***Оцените своё настроение после  
урока***