

Тест по теме «Открытие Америки»

Презентацию составила:
учитель географии 1 категории
Абрамова Дарья Михайловна

1. Экспедиции Христофора Колумба
проходили под флагом:

- А) Португалии
- Б) Испании
- В) Великобритании
- Г) Франции



2. К берегам Америки Христофор Колумб совершил:

А) 2 экспедиции

Б) 3 экспедиции

В) 4 экспедиции

3. Целью экспедиции Христофора Колумба было:

- А) изучение Мирового океана
- Б) открытие новых земель
- В) поиск нового пути в Индию



4. Христофор Колумб решил плыть в Индию западным путем, потому что:

- А) путь вокруг Африки долг и опасен
- Б) плаванию на запад способствовали постоянные ветры
- В) западный путь короче



5. Коренных жителей открытых островов Христофор Колумб назвал:

- А) индийцами
- Б) испанцами
- В) индейцами



6. Отправляясь в экспедицию, Христофор Колумб использовал информацию о путешествии :

А) викингов

Б) Марко Поло

В) Бартоломеу Диаша

7. Какой океан пересек Христофор Колумб во время своих экспедиций?

- А) Тихий
- Б) Северный Ледовитый
- В) Атлантический
- Г) Индийский



Проверка результатов:

1. Б

2. В

3. В

4. А

5. В

6. Б

7. В

Первое кругосветное путешествие

The background is a vibrant yellow-green color with a pattern of small, scattered orange squares. In the bottom-left corner, there are stylized green leaves and stems, some with a white dotted pattern, extending towards the center.

Какую форму имеет Земля?

Кто и когда выдвигал гипотезы о форме и размерах Земли?

Как вы думаете, почему Фернана Магеллана считают мореплавателем, первым совершившим кругосветное плавание?

После открытия Колумбом новых земель из Испании в Америку хлынул поток людей, стремившихся разбогатеть. Когда стало ясно, что это не Азия, а путь в нее еще нужно найти. **Фернан Магеллан** предложил достичь берегов Азии, обогнув





Начиналось путешествие Магеллана почти так же, как и экспедиция Колумба.

Вспомните, как отнесся к идеям Колумба португальский король?

Как вы думаете, под каким флагом начал свое плавание Фернан Магеллан?

20 октября 1519 года из Испанского порта отправилось 5 кораблей с экипажем 234 человека.

Переплыв Атлантику, команда стала продвигаться на юг вдоль побережья Америки, но они и не представляли как велик материк.


После решения Магеллана остановиться на зимовку, команда подняла бунт. Вскоре один из кораблей был отправлен на разведку и не вернулся.

21 октября 1520 года флотилия достигла узкого пролива на юге Америки – пролива Всех Святых (Магелланов пролив). Его прошли 3 корабля. 4-й (самый большой), повернул обратно к берегам Испании.

Плавание по Южному морю (где оно расположено?) длилось почти 4 месяца. Все это время погода была отличной и Магеллан дал название океану. (какое?)

На Филиппинских островах Фернан Магеллан вмешался в войну 2-х враждующих племен и погиб, прикрывая отступление своих солдат. Произошло это в марте 1521 года.

Командование экспедицией принял капитан **Хуан Себастьян**

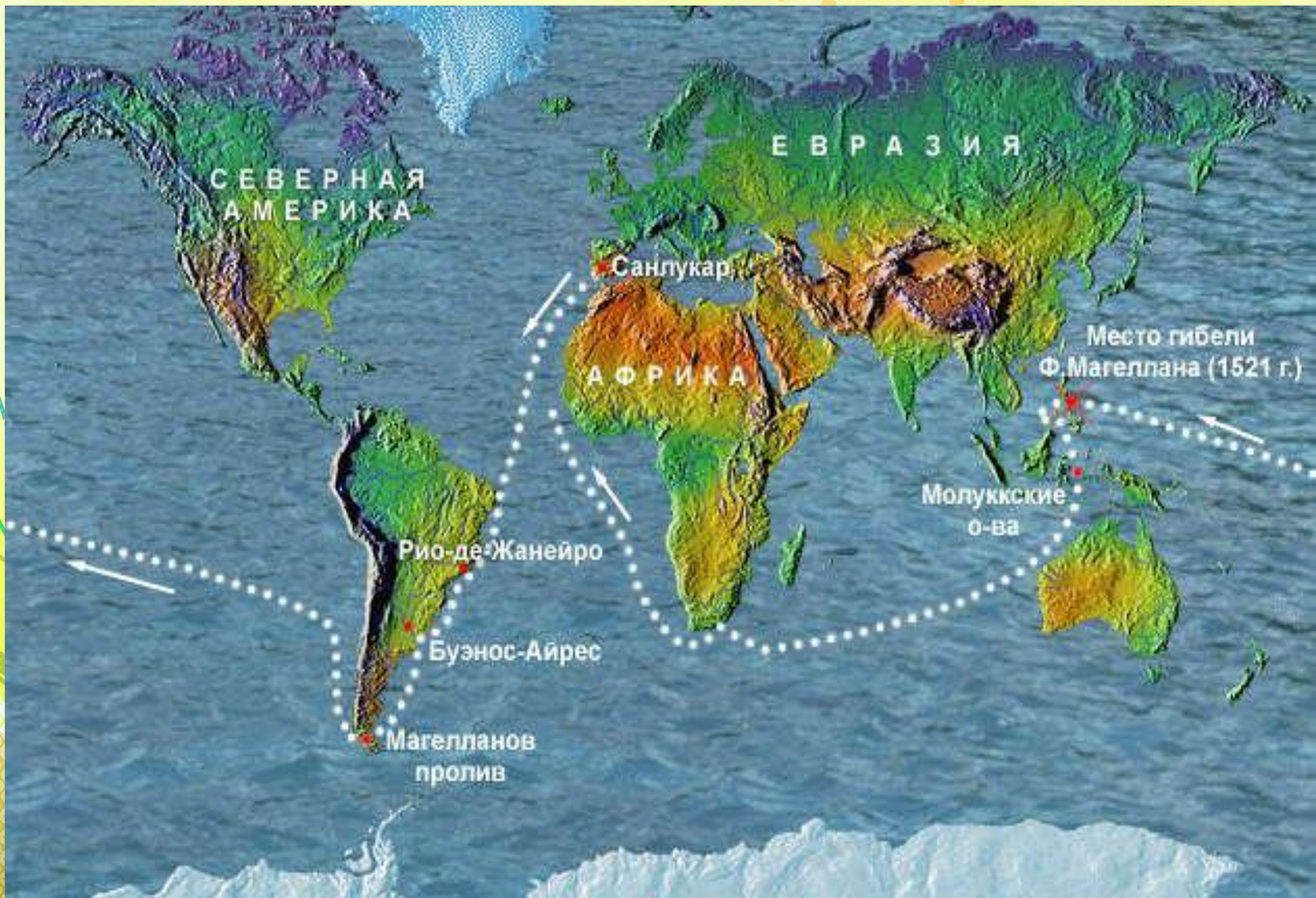


Только один из кораблей, «Виктория», под командованием Элькано возвращается известным путем, вокруг Африки, в Испанию, завершив первое кругосветное плавание, продолжавшееся почти 3 года.

На родину вернулись всего 18 моряков (вспомните сколько их отправилось в экспедицию).


Получается, что первым капитаном, который провел свой корабль вокруг Земного шара стал Х. С. Элькано, а не Магеллан.

Почему же его считают первым первым мореплавателем обогнувшим Землю?



Домашнее задание:

§14

The background of the slide is a light yellow-green color with a subtle pattern of overlapping, semi-transparent shapes. In the bottom-left corner, there are stylized green leaves and stems. Scattered throughout the background are numerous small, orange square shapes of varying sizes, some appearing to float or fall.