


5 класс


Урок по теме: «Решение текстовых задач»

В мире сказок

Автор: Козлова Е.Д.
МБОУ СОШ № 45
г. Челябинск



**В мире много сказок
Грустных и смешных.
И прожить на свете
Нам нельзя без них!
Пусть герои сказок
Дарят нам тепло,
Пусть добро навеки
Побеждает зло!**



Вычислите устно

$$\begin{array}{r} 100 : 25 \\ * 7 \\ : 2 \\ + 26 \\ \hline 40 \end{array}$$

$$\begin{array}{r} 16 * 3 \\ - 12 \\ : 12 \\ * 23 \\ \hline 69 \end{array}$$

$$\begin{array}{r} 90 - 16 \\ : 2 \\ + 23 \\ : 5 \\ \hline 12 \end{array}$$

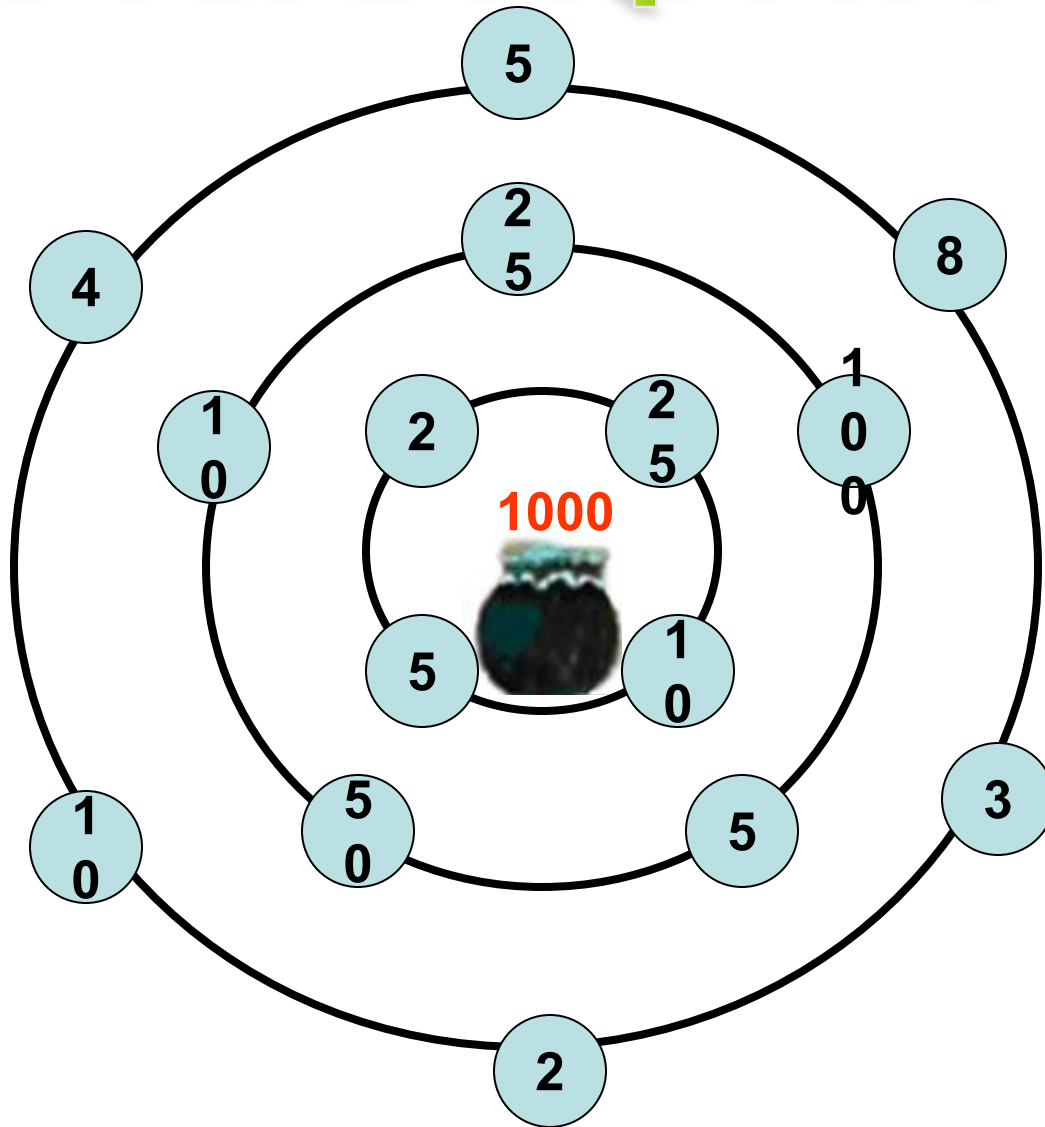
$$\begin{array}{r} 50 + 19 \\ : 3 \\ + 47 \\ : 5 \\ \hline 14 \end{array}$$

$$\begin{array}{r} 42 + 26 \\ : 2 \\ - 16 \\ * 3 \\ \hline 54 \end{array}$$

$$\begin{array}{r} 60 - 22 \\ : 2 \\ + 46 \\ : 5 \\ \hline 13 \end{array}$$



"Лабиринт"



МОЛОДЦЫ!





Найдите ошибку!

А) $90 + 81 + 9 = 180$

Б) $141 - 74 = 67$

В) $223 + 3 * 9 = 250$

Г) $18 * 4 + 28 * 3 = 156$

Д) $77 * 11 + 401 = 1248$

Е) $20 + 16 + 42 = 76$

Спасибо!





**Плуту лег спать пораньше,
в семь часов вечера,
предварительно заведя
будильник на восемь часов
с тем, чтобы встать утром.
Сколько часов он проспал,
пока его не разбудил
будильник?**

Задача № 1



В окрестностях пруда четыре болота. В каждом болоте по 58 кочек, а на каждой кочке живет по шесть лягушек. Каждая лягушка мечтает стать лягушкой-путешественницей. Сколько нужно уток, чтобы осуществилась их мечта? Надеюсь, вы не забыли способ передвижения лягушки-путешественницы по воздуху!

Задача № 2

Узнав о дне рождения ослика Иа, Винни-Пух решил подарить ему несколько горшочков меда. Придя домой, он обнаружил, что у него есть 25 горшочков.

Мед из 15 горшочков он тут же съел, а остальные захватил с собой. По дороге он съел мед еще из 3.

Сколько горшочков с медом все-таки получил в подарок ослик Иа?





Физкультминутка

Задача № 3

Белоснежка, Золушка и Спящая Красавица сели пить чай. Белоснежка и Золушка выпили вдвоём 11 чашек, Белоснежка и Спящая Красавица - 15, а Золушка и Спящая красавица - 14. Сколько чашек чая выпили все три девушки вместе?



Решите задачу

У: с. 65 № 292



Спасибо за внимание!

