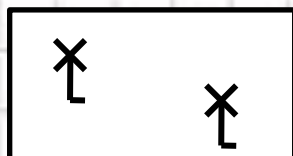


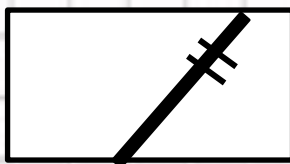
# Решение задач по теме «План и карта» в 6 классе.




# Определите объект по условным знакам:



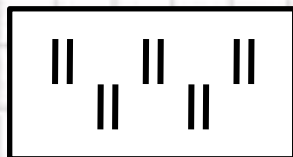
Мельница




Железная  
дорога



Фруктовый  
сад



Луг



Колодец



**Переведите численный масштаб в именованный:**

**1:600000**

**В 1 см 6 км**

**1:9000**

**В 1 см 90**

**М**

**1:73000000**


**В 1 см 730**

**КМ**



# Чему соответствует расстояние на местности

**а**



**300м**

**б**

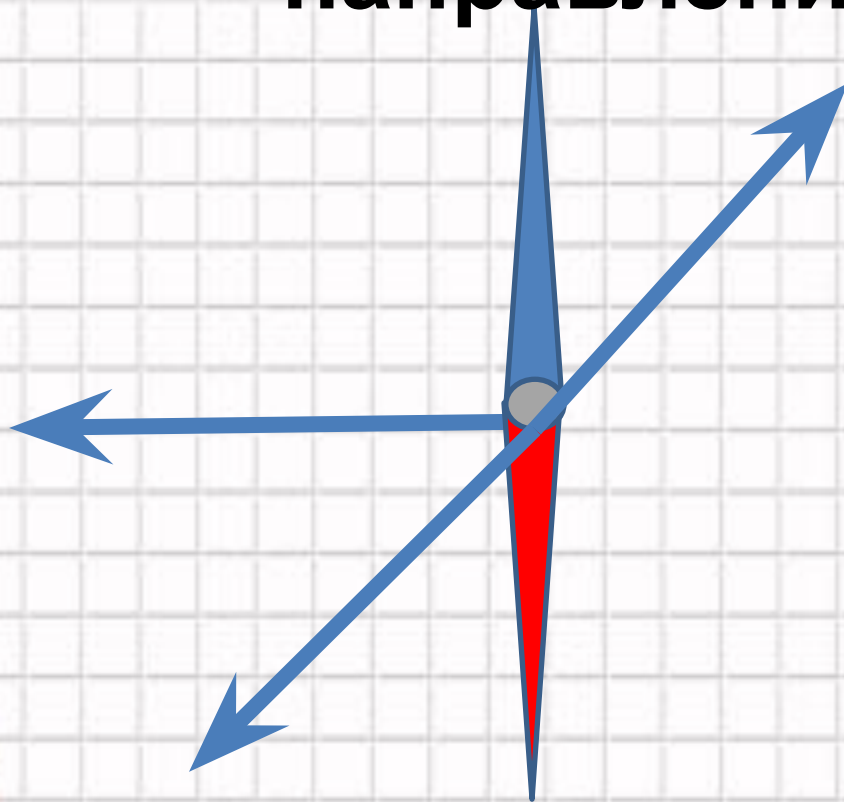


**150м**



**Масштаб: в 1см 50м**

**Определите азимут ,предложенных направлений:**



180°

270°

225°

360°

45°



Начертите маршруты движения на плане:

1. От мельницы по **азимуту  $315^\circ$**  350 метров до родника

2. От мельницы по **азимуту  $90^\circ$**  200 метров до обрыва

3. От мельницы по **азимуту  $360^\circ$**  100 метров до шоссе с линией электропередач

4. От мельницы по **азимуту  $135^\circ$**  100 метров до озера



Масштаб :в 1 см 50  
метров

род. 

С  
↑  
Ю

клен  $\frac{12}{0.20}$  3



**Запад, 200м**



**Северо-восток, 250м**



?

?

