




х.Лихой- Ростов



Подпишите условные знаки и вы узнаете путь ребят

От  **ст.** наш путь шел по  до  через 

Затем мы пошли по , где нам встретилось  и .

К вечеру мы вошли в , прошли 2 км по  и у .

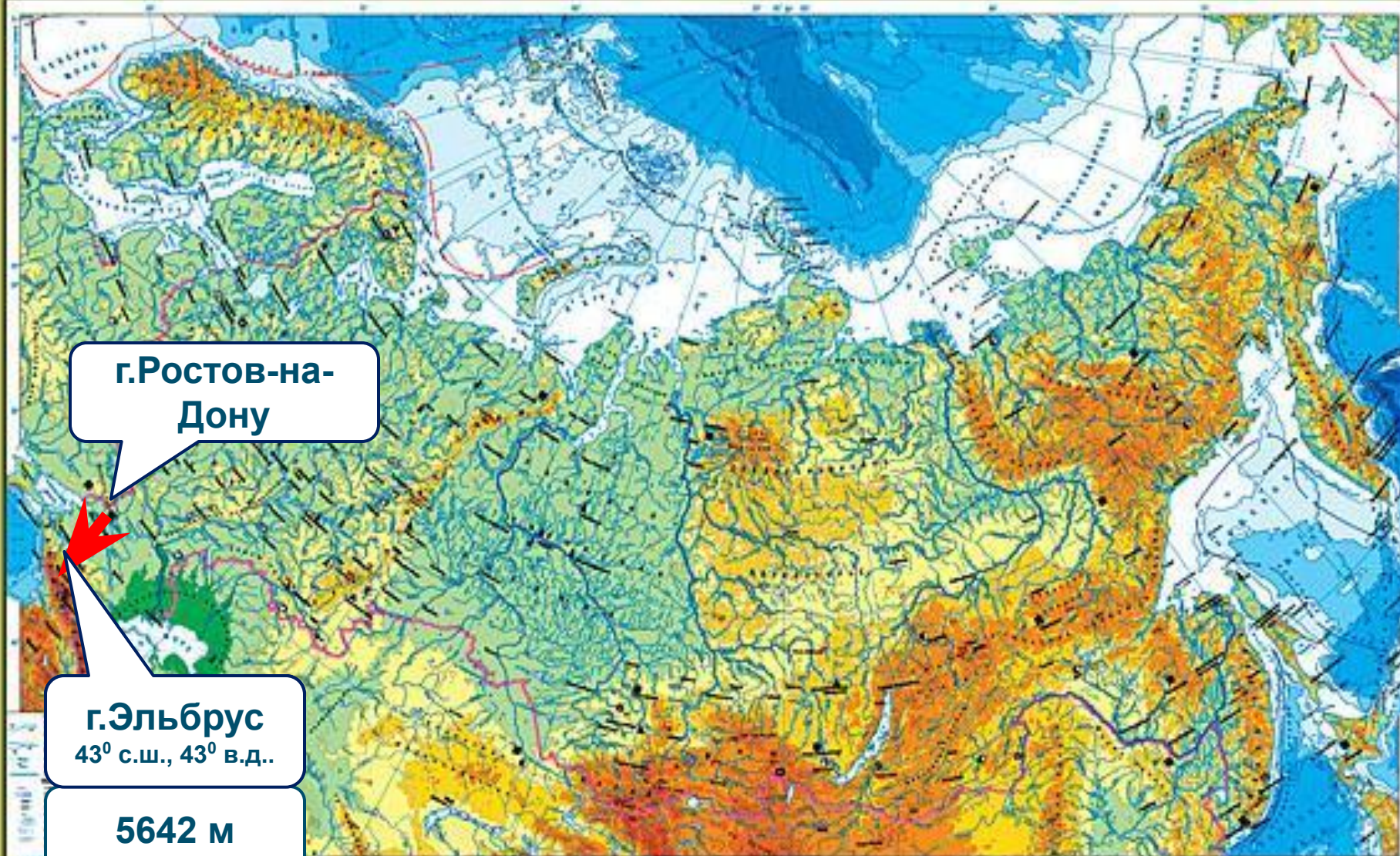
сделали привал.

2012 год - 75 лет Ростовской области

ФИЗИЧЕСКАЯ КАРТА РОССИИ

Масштаб 1:6 000 000

Для средних общеобразовательных учреждений



© 2004 Федеральное государственное учреждение «Картограф», Москва, 2004

5 класс 7 класс 8-9 класс 10 класс

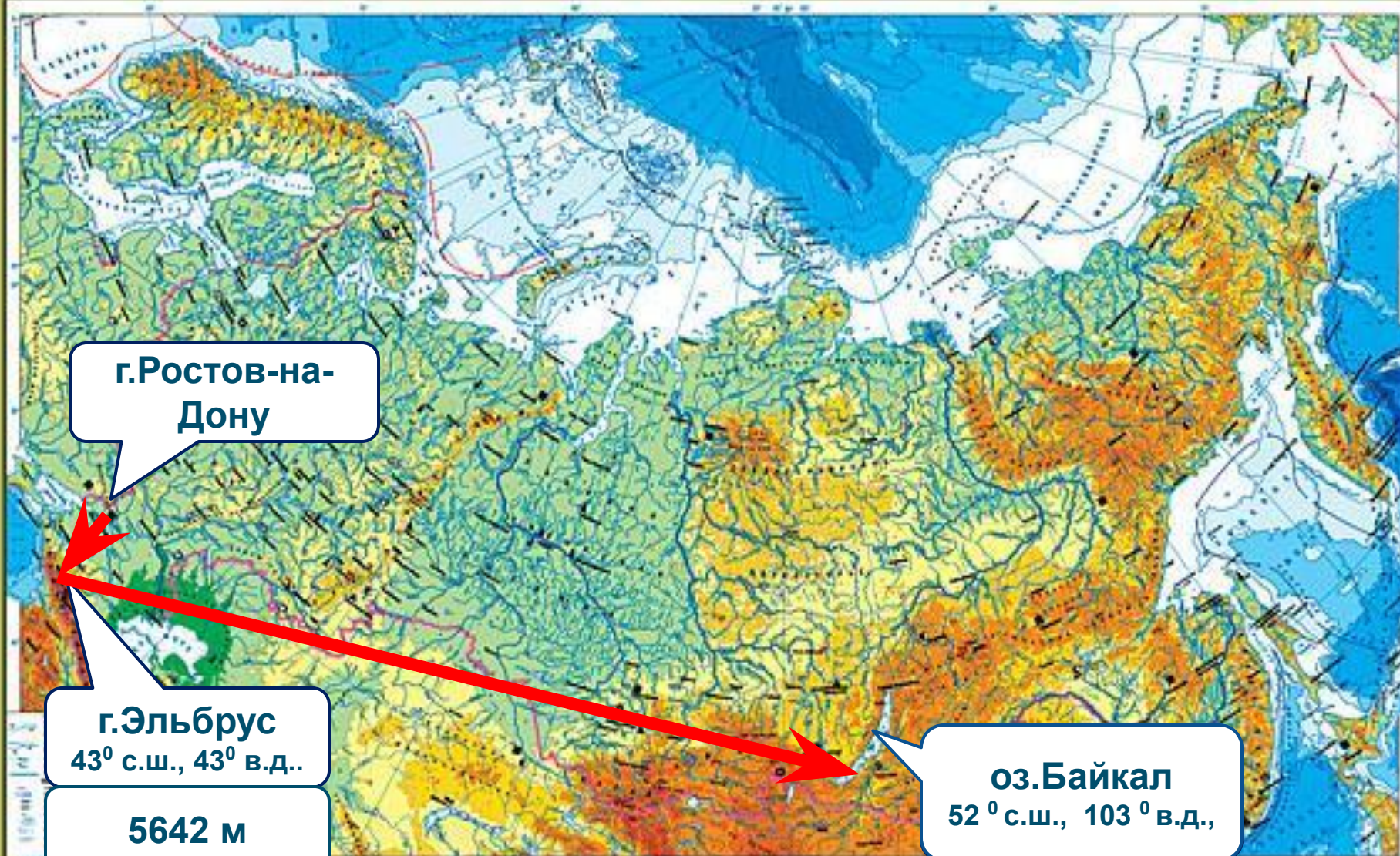
Содержание
Легенда
Источники



ФИЗИЧЕСКАЯ КАРТА РОССИИ

Масштаб 1:6 000 000

Для средних общеобразовательных учреждений



г.Ростов-на-Дону

г.Эльбрус
43° с.ш., 43° в.д..

5642 м


оз.Байкал
52° с.ш., 103° в.д.,

ИЗДАТЕЛЬСТВО «КАРТОГРАФ»

5 класс 7 класс 8-9 класс 10 класс

озеро Байкал






Байкальская нерпа



голомянка



Байкальский осетр



МОЛЛЮСК



омуль



ФИЗИЧЕСКАЯ КАРТА РОССИИ

Масштаб 1:6 000 000

Для средних общеобразовательных учреждений



ИЗДАТЕЛЬСТВО «Терра»

5 класс 7 класс 8-9 класс 10 класс

ИЗДАТЕЛЬСТВО «Терра»

Ключевская Сопка



ФИЗИЧЕСКАЯ КАРТА РОССИИ

Масштаб 1:6 000 000

Для средних общеобразовательных учреждений



ИЗДАТЕЛЬСТВО «КАРТОГРАФ»

5 класс 7 класс 8-9 класс 10 класс

С И Н К В Е Й Н

1

существительное _____

—

2

прилагательных _____

3

глагола _____

СЛОВО-
СИНОНИМ

предложение из 4-х слов





ДОМАШНЕЕ ЗАДАНИЕ

ТВОРЧЕСКАЯ РАБОТА:

ПРИДУМАТЬ ЗАДАНИЯ ОДНОКЛАССНИКАМ НА
ОПРЕДЕЛЕНИЕ ГЕОГРАФИЧЕСКИХ КООРДИНАТ
ОБЪЕКТОВ ИЛИ ОПРЕДЕЛЕНИЕ ОБЪЕКТА ПО
ГЕОГРАФИЧЕСКИМ КООРДИНАТАМ.

**Спасибо за
урок!
Молодцы!**

