

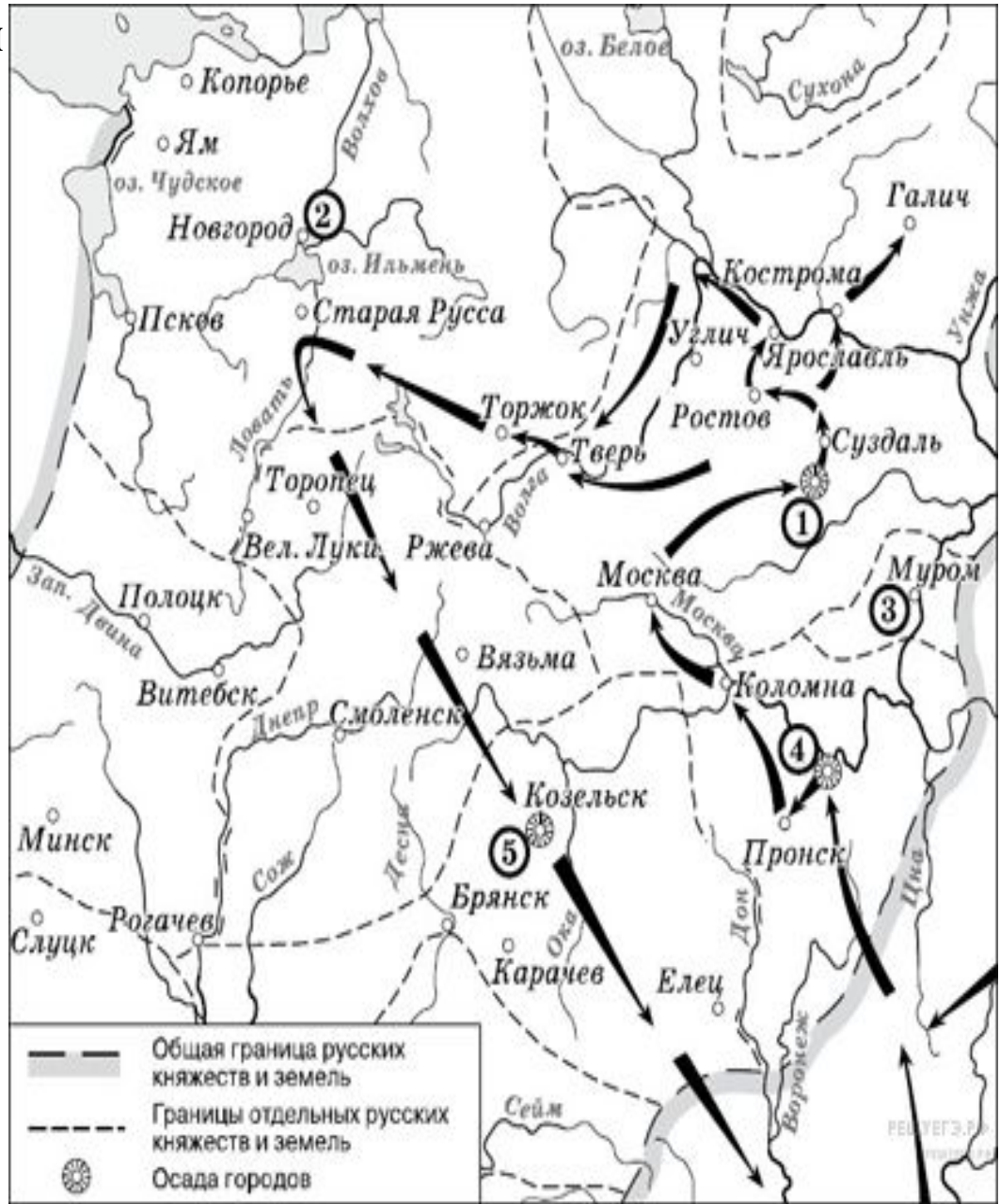
**Отработка
картографических умений
обучающихся при
подготовке к ГИА по
истории.**

Историческая карта – это наглядно-условно графическое пособие, служащее для локализации исторических событий в пространстве, создания представлений о географической среде, в которой они развивались.

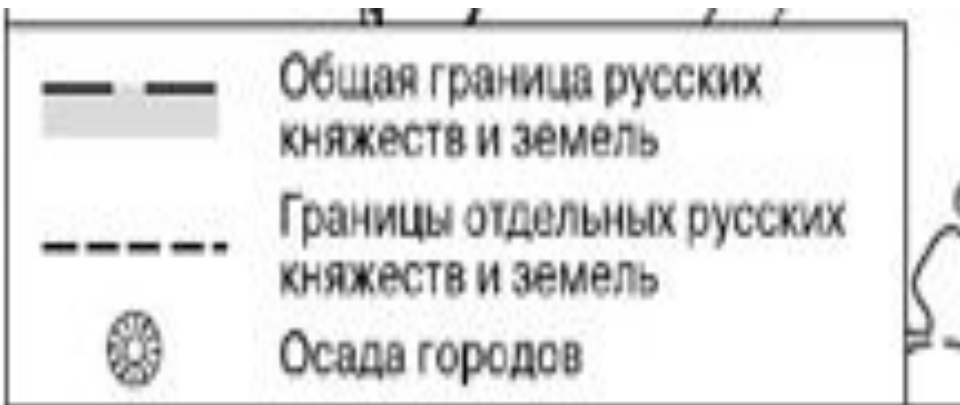
Алгоритм работы с исторической картой.

- 1. Прочитай название карты (в нём содержится информация о территории, изображённой на карте и времени, к которому относится изображение);**
 - 2. Ознакомься с легендой карты (это условные знаки, которые позволят тебе прочитать информацию, изображённую на карте);**
 - 3. Чтение информации на карте начинай с самых крупных объектов и постепенно двигайся к более мелким, при этом характеризуй:**
 - а) природно-климатические признаки территории (в какой части света находится, какими морями омывается);**
 - б) признаки государства (граница, столица, государства-соседи.);**
 - в) деятельность человека, отображённую на карте (это могут быть военные походы, торговые пути).**
- Помни, что движение на карте всегда обозначается стрелкой!**

- **1. Посмотри на легенду карты и определи с ее помощью ключевые точки.**
- 2. Найди (если есть) на карте даты.**
- 3. В случае явного изображения на карте какой-то войны/похода/перемещений выдели «опорные точки» для идентификации события.**
- 4. В случае явного определения каких-либо границ обрати внимание: на пограничные территории/название нашего государства на карте (это может помочь с определением периода)/прочие неестественные объекты (любые стрелки и точки).**

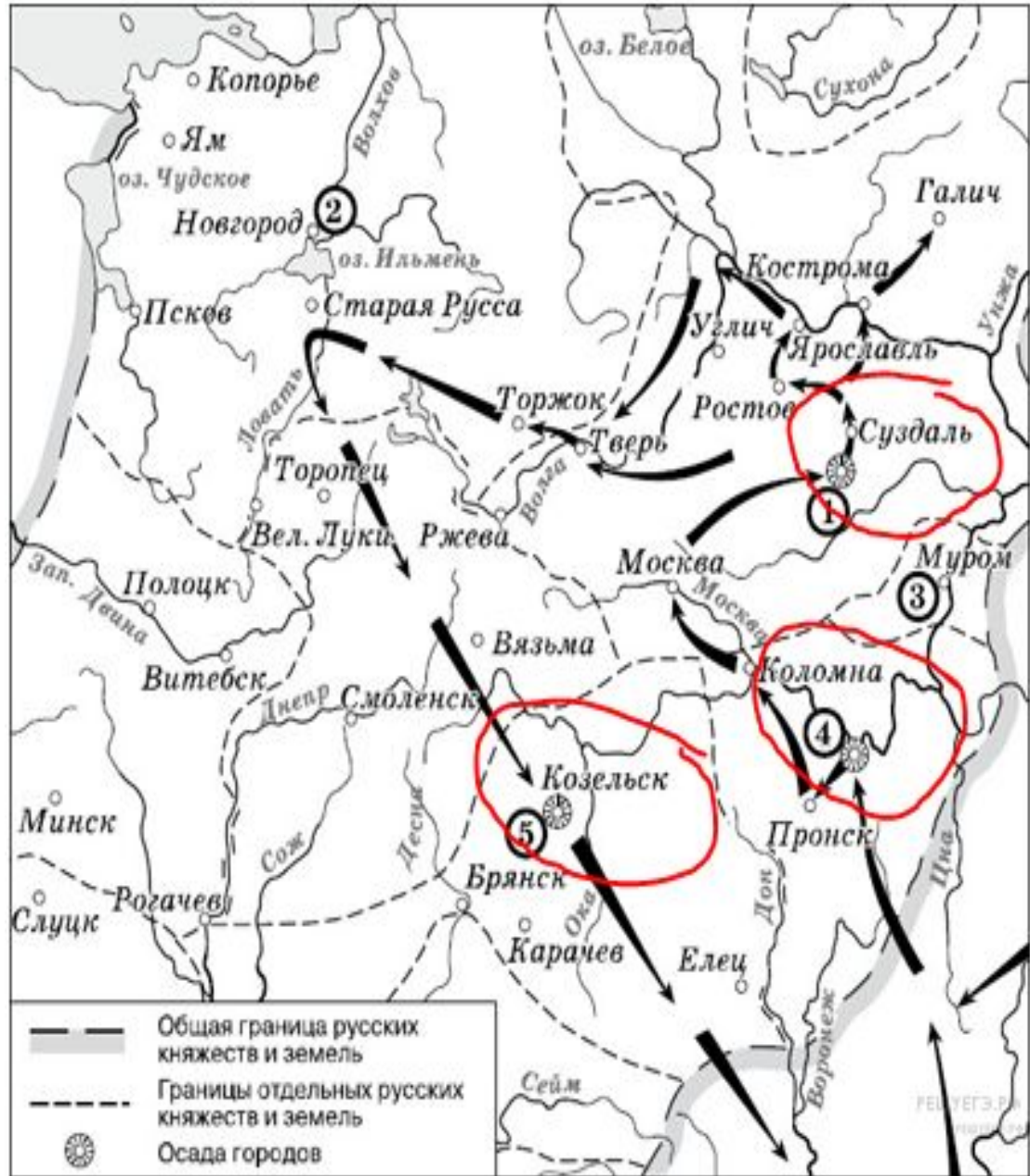


Знакомство с «легендой карты».

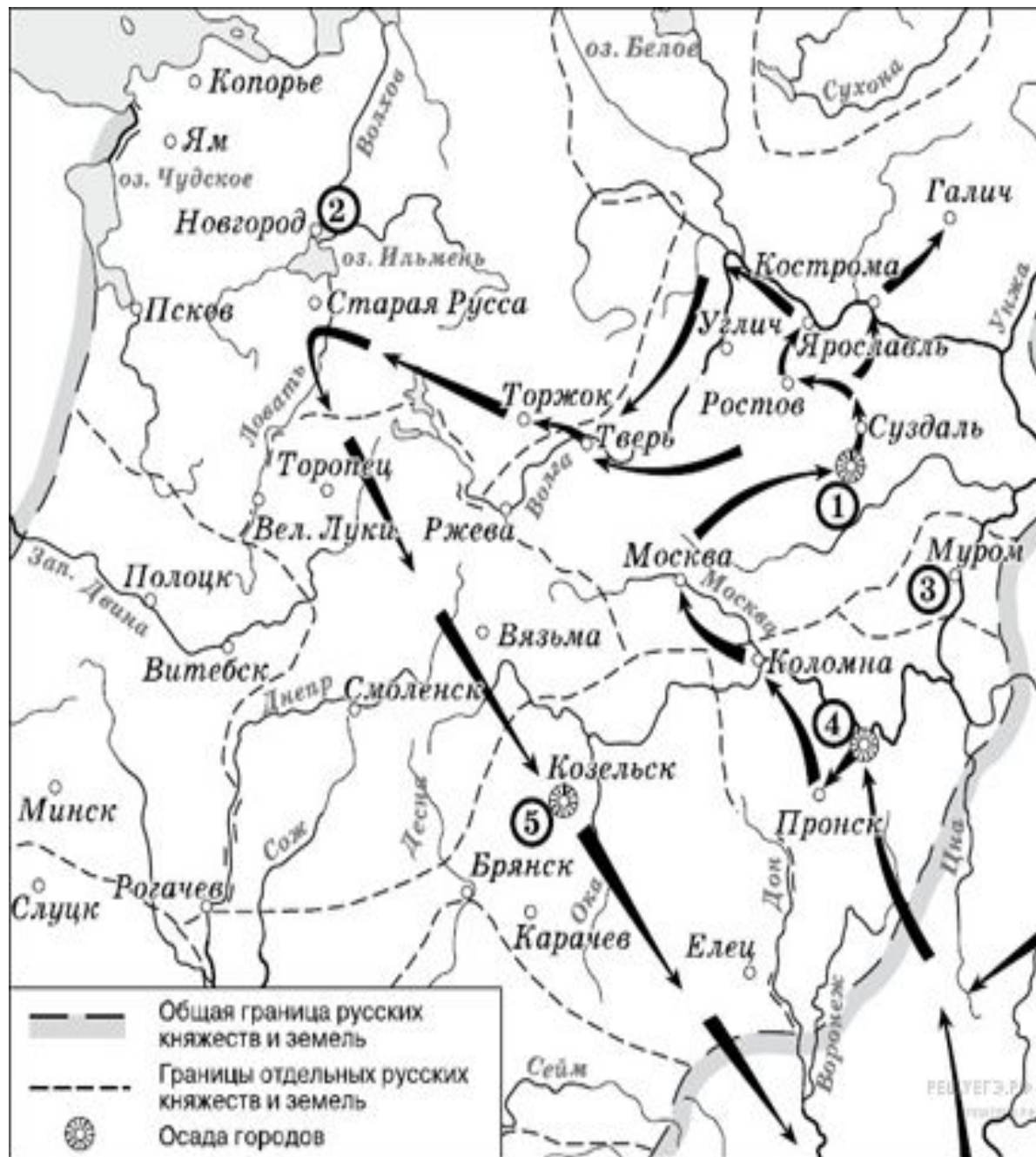


- Здесь показана Русь в период раздробленности, т.к. ключевое слово — **КНЯЖЕСТВА**.

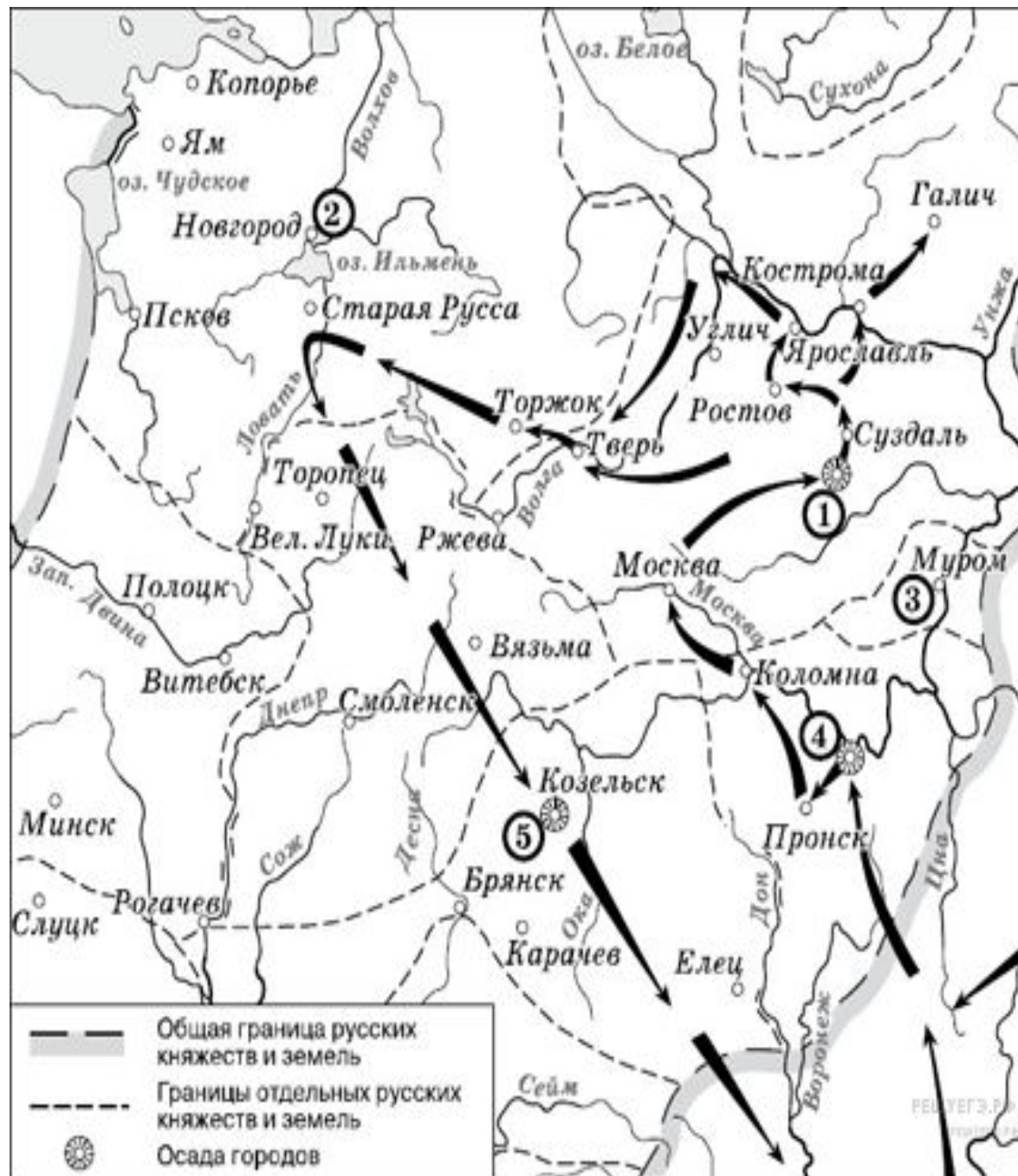
- **Обрати внимание на осаду городов.**



- **Выдели опорные точки на основе стрелок на карте. Обрати внимание с какой стороны и в каком направлении идут войска.**

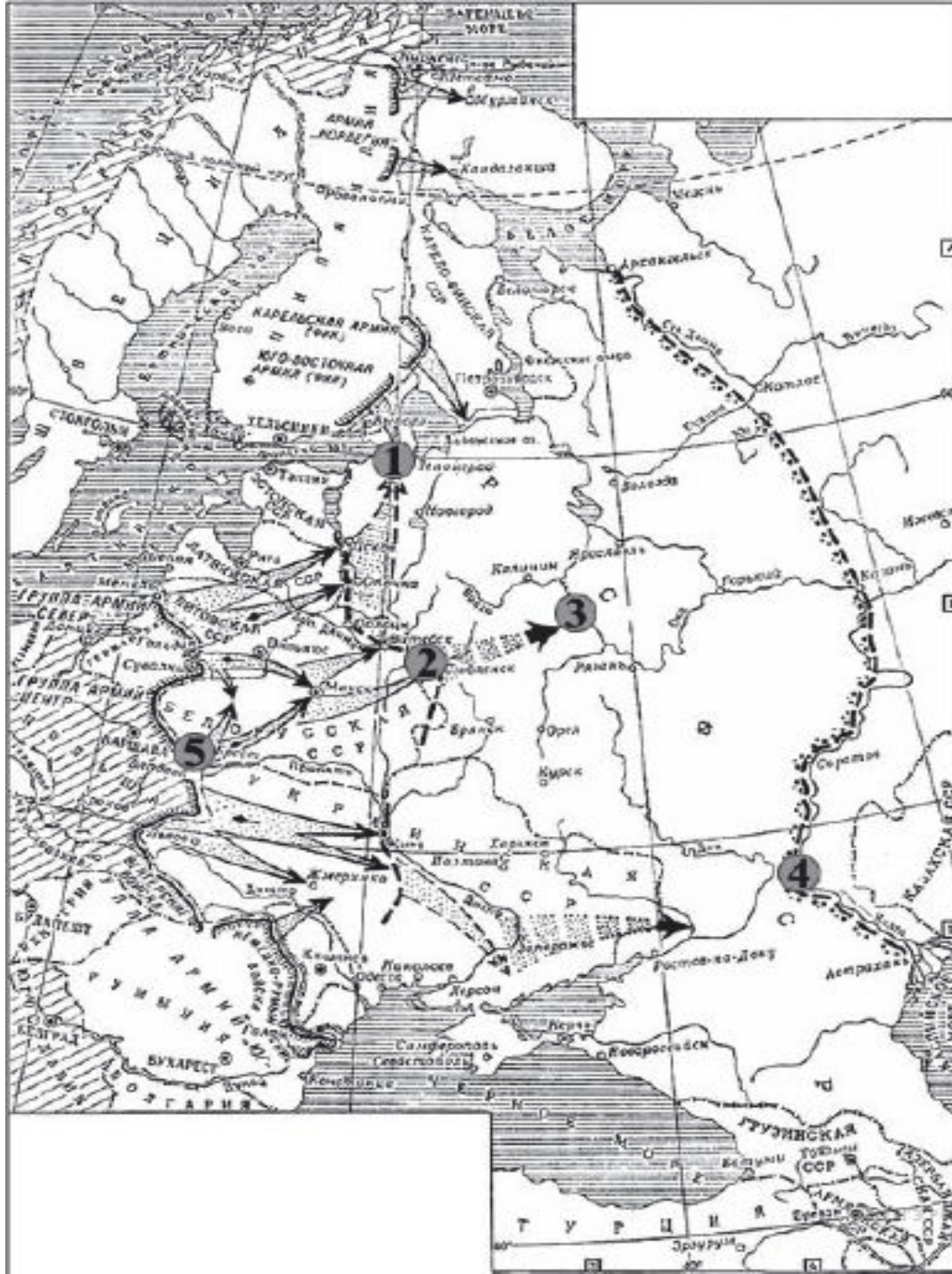


- Напишите название города, обозначенного на схеме цифрой «1».





- **Напишите имя правителя России, при котором заштрихованная территория вошла в состав России.**
- **Напишите название города, обозначенного на схеме цифрой «1».**
- **Напишите цифру, обозначающую город, в котором от лица местного населения было принято решение о присоединении данной земли к России.**



Напишите название военного плана, изображённого на карте.

Напишите название города, обозначенного на схеме цифрой «4».