


Урок математики

15.09



Тема
урока
Миллиметр

Миллиметр – это единица
длины

$$1 \text{ дм} = 10 \text{ см}$$

$$1 \text{ см} = 10 \text{ мм}$$

$$1 \text{ дм} = 100 \text{ мм}$$





Открой свой учебник на стр.
10. Выполни устно №1

Проверяем




**Что можно
измерить при
помощи мм?**



Выполни в своей тетради №2

Проверяем

$$1 \text{ см} = 10 \text{ мм}$$



3 см 5 мм

35 мм



5 см

50 мм

Выполни письменно в своей тетради №3

Проверяем

2 см

>

9 мм

1 см 8

мм

=

18 мм

20 мм

=

2 см

2 см 1

мм

<

3 см

Выполни письменно

№4

Задача

Проверяем

$$1) 7 \text{ дм} + 20 \text{ см} = 7 \text{ дм} + 2 \text{ дм} = 9 \text{ дм}$$

Ответ: высота ёлочки 9 дм



Выполни письменно №4

Проверяем

8 дес. – 6 дес.

2
дес.

8 дм – 6 дм

2 дм

90 - 30

60

5 дм – 20 см

30 см
или 3



6 см - 40 мм

дм
20 мм
или 2

60 - 40

см
20

Выполни самостоятельно задание
с ЭТИМ УСЛОВНЫМ ОБОЗНАЧЕНИЕМ



Надеюсь, у тебя всё
получится!