

УКРЕПЛЕНИЕ МОСКОВСКОГО ГОСУДАРСТВА

**Какие из перечисленных городов
в разное время были
столицами Руси?
Подчеркните их**

Ярославль, Москва, Новгород,
Киев, Архангельск, Владимир

Проверь себя!

▣ Киев, Владимир, Москва

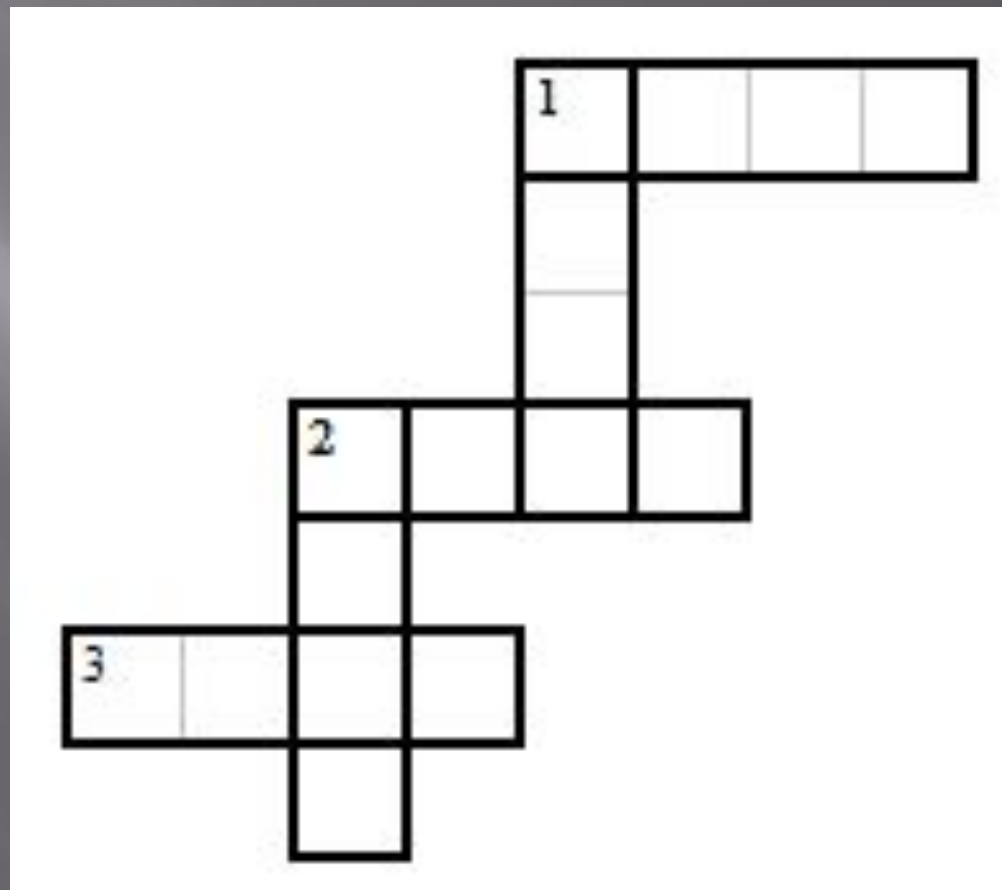
Реши хронологический кроссворд:

Горизонталь:

1. Битва на реке Калке?
2. Начало княжения Дмитрия Донского
3. Куликовская битва

Вертикаль:

1. Начало правления Ивана Калиты
2. Сражение на реке Угре



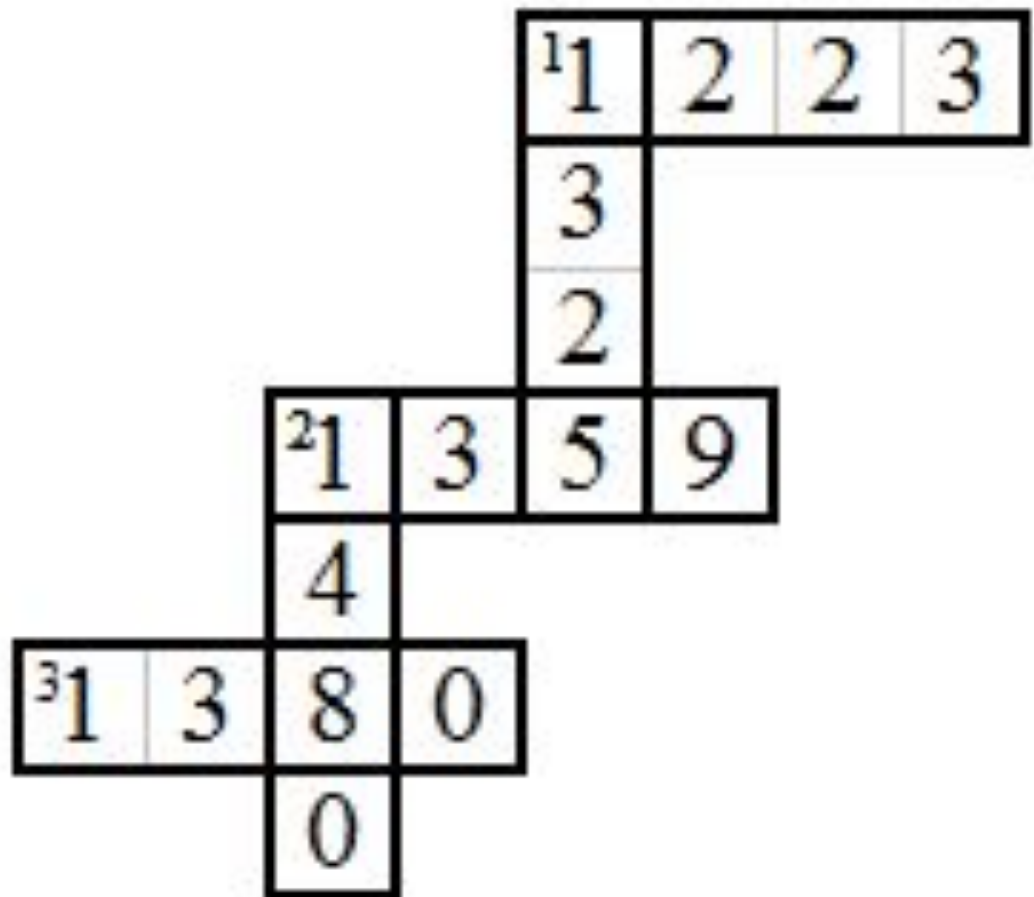
Проверь хронологический кроссворд:

Горизонталь:

1. Битва на реке Калке?
2. Начало княжения Дмитрия Донского
3. Куликовская битва

Вертикаль:

1. Начало правления Ивана Калиты
2. Сражение на реке Угре



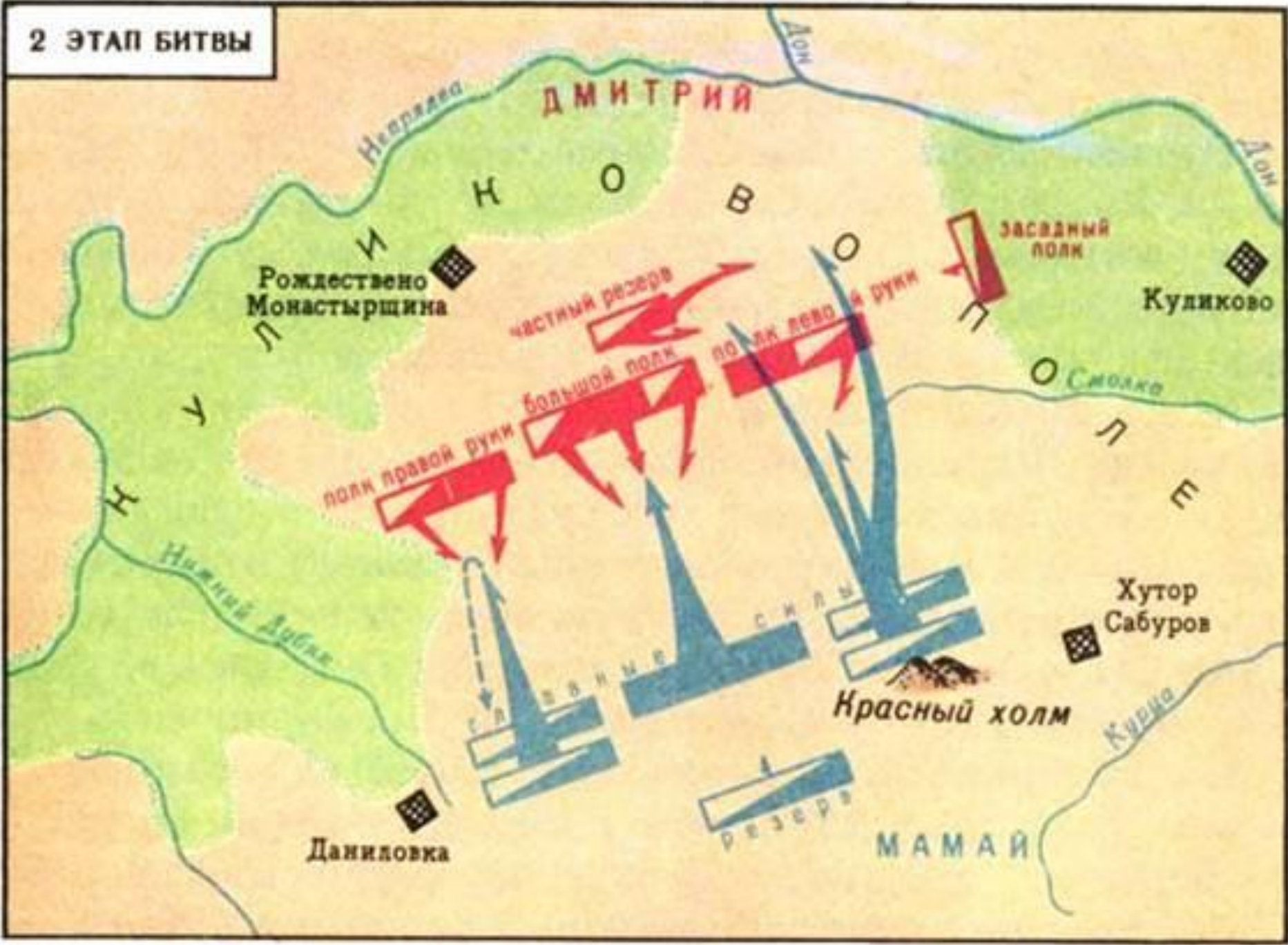
Рассмотрите иллюстрацию. Вспомните, как звали богатырей, между которыми состоялся поединок перед Куликовской битвой? Подчеркните их имена.

- а) Мамай
- б) Челубей
- в) Пересвет
- г) Боброк



**Составьте схему
Куликовской битвы**

2 ЭТАП БИТВЫ



ДМИТРИЙ

Рождественно
Монастырщина

засадный
полк

Куликово

частный резерв

полк правой руки

большой полк

полк левой руки


Хутор
Сабуров

Красный холм

Даниловка

резерв

МАМАЙ



Перепутка

(Работа в группах)

Вам дана иллюстрация правителя.

Ваша задача:

подобрать к нему текст описания

Определите какие были построены

стены Кремля при нем:

деревянные, белокаменные,

кирпичные?

Иван Калита



Княжил в 14 веке. Этот князь много читал, получил хорошее образование. Был человеком умным, хитрым и коварным. Дружил с ханом Золотой Орды. Получил прозвище, из-за того что любил раздавать милостыню сиротам и нищим.

Иван III



Княжил в 15 веке. Был красивым человеком, высокого роста, худощавым. Правил мудро, всегда выслушивал своих советников, но решение принимал единолично. При нём княжество превратилось в огромное Российское государство.

Дмитрий Донской




рис. 15 БЕЛОКАМЕННЫЙ КРЕМЛЬ ДМИТРИЯ ДОНСКОГО

Княжил в 14 веке. Князь был высокого роста и крепкого телосложения. Полюбили его москвичи, верили ему и помогали ему во всём. При этом князе русские князья впервые поняли что их сила в единстве.

Определите как связаны между собой эти имена? (работа в группах)

- ▣ Составьте цепочку дат, когда состоялись битвы русских князей и монгольских ханов.

- ▣ 1480 1380 1223