


The background of the slide is a solid orange-brown color, overlaid with a pattern of stylized, semi-transparent autumn leaves in various shades of brown and orange. The leaves are scattered across the frame, creating a seasonal and textured backdrop.

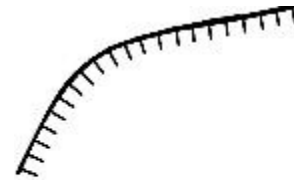
Викторина «Вспомни знак»

Вопрос №1.

Дайте названия условных знаков, показанных на слайде




1



2



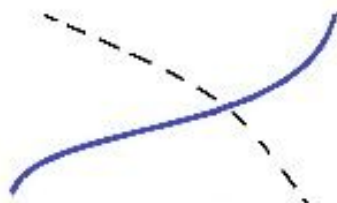
3



4

Ответ на вопрос №1.

Дайте названия условных знаков,
показанных на слайде




Переправа без
моста



Каменный обрыв



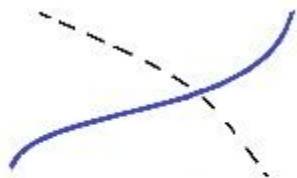
Яма



Поляна

Вопрос №2.

К какому виду условных знаков относится знак №3?



1



2



3



4

Варианты ответов на вопрос №2.

К какому виду условных знаков относится

знак №22

А)

рельеф

Б)

Растительность

В)

Гидрография

Г)

**Камни,
скалы**

Ответ на вопрос №2.

К какому виду условных знаков относится

знак №22

А)

рельеф

Б)

Растительность

В)

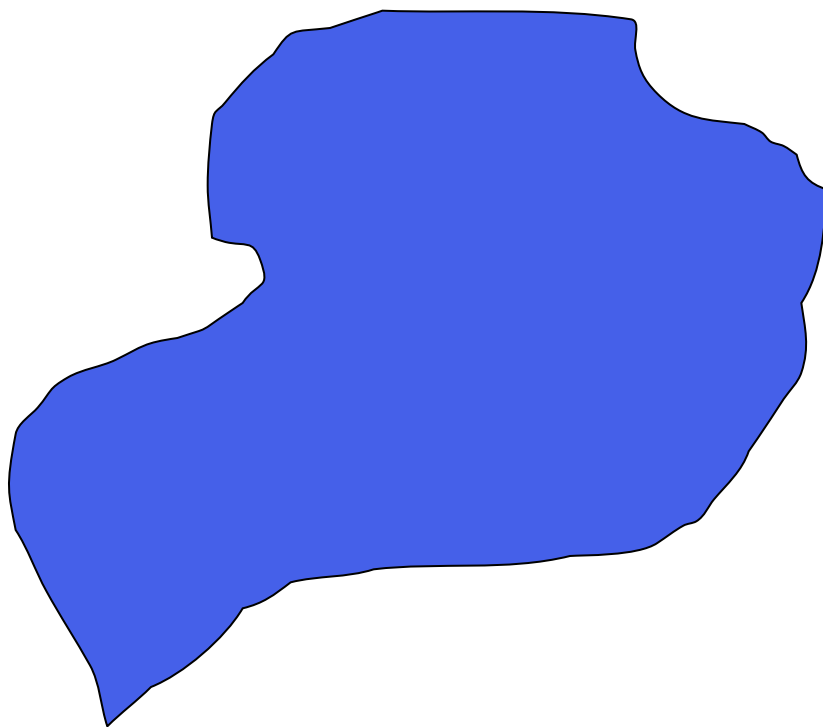
Гидрография

Г)

**Камни,
скалы**

Вопрос №3.

Что обозначает этот условный знак?



Варианты ответов на вопрос №3.
Что обозначает этот условный знак?

А)

Болото

Б)

**Озеро,
море**

В)

**Сухая
канава**

Г)

Пашня

Ответ на вопрос №3.

Что обозначает этот условный знак?

А)

Болото

Б)

**Озеро,
море**

В)

**Сухая
канава**

Г)

Пашня

Вопрос №4.


Под каким номером Вы видите
переходное состояние?




№1



№2



№3




№4

Ответ на вопрос №4.


Под каким номером Вы видите
переходное состояние?




№1



№2



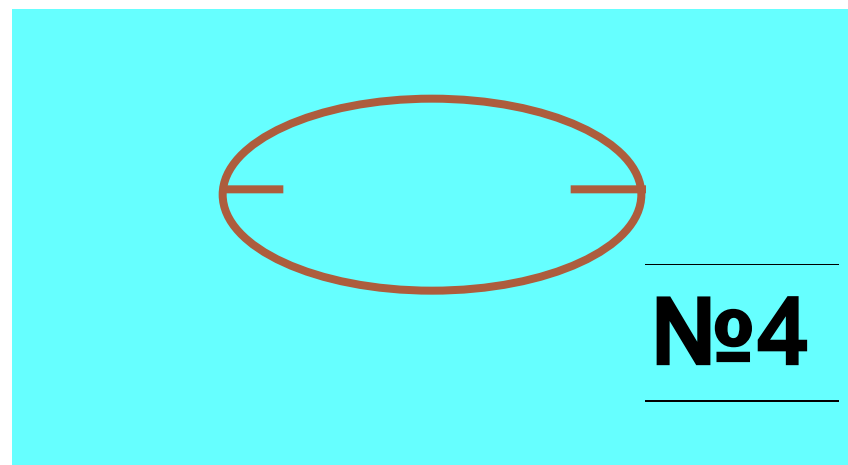
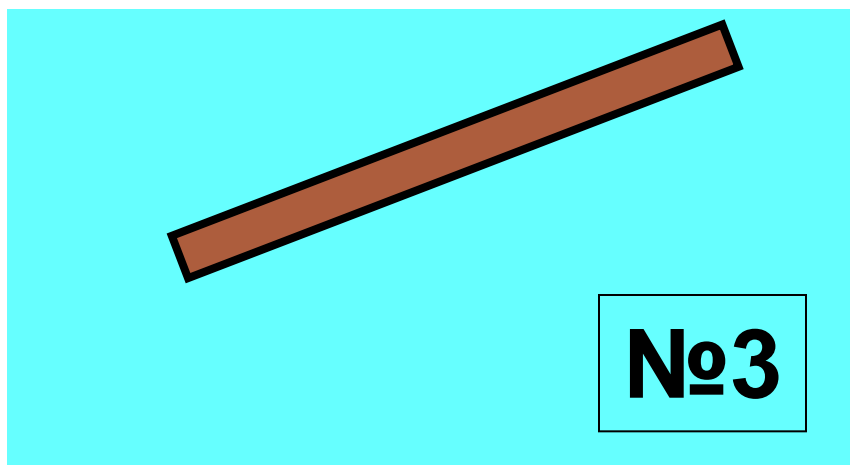

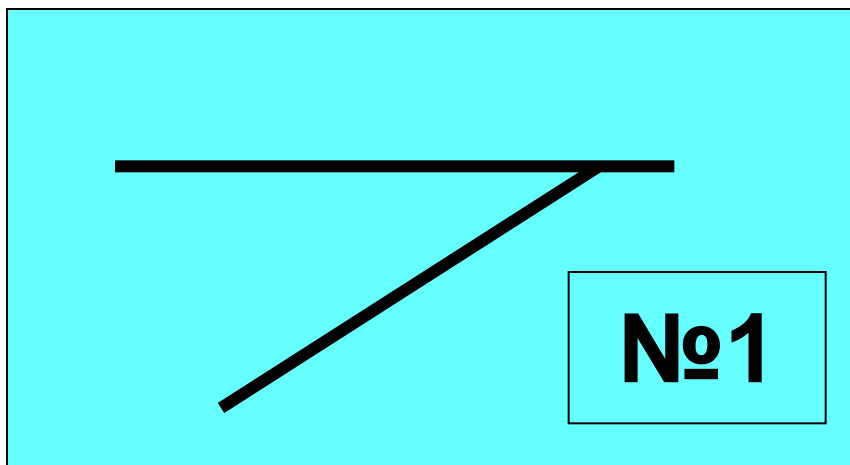
№3



№4


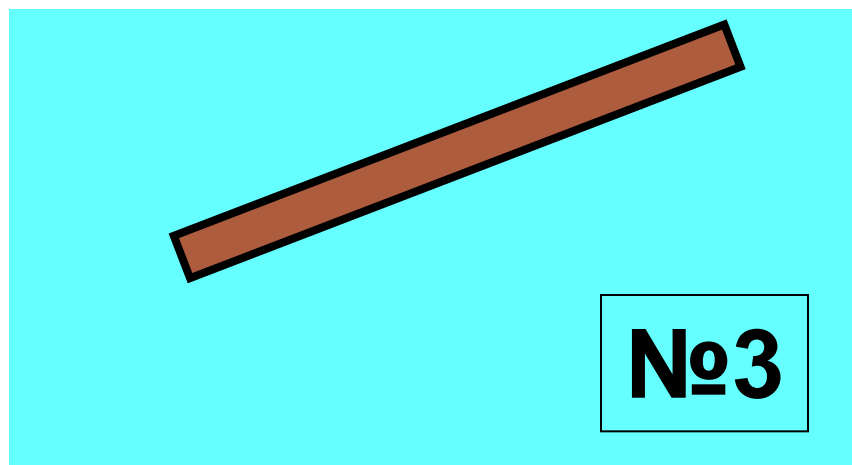

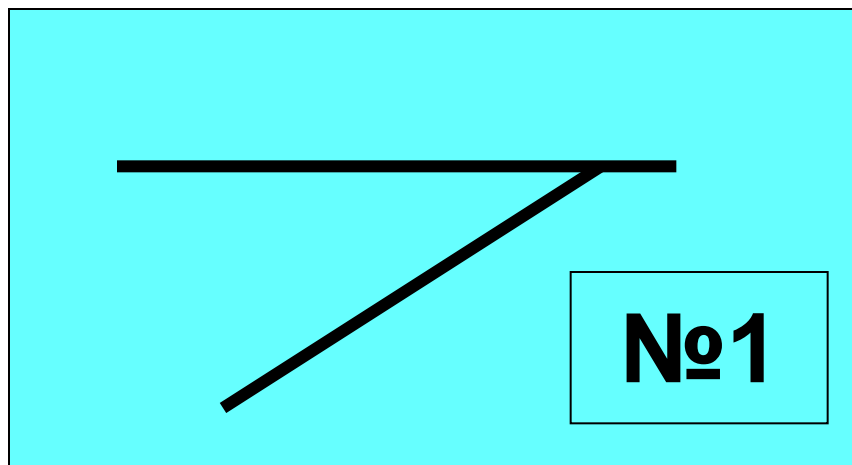
Вопрос №5.

Под каким номером знак лишний в этом ряду?



Ответ на вопрос №5.

Под каким номером знак лишний в этом ряду?



Вопрос №6.

Какой масштаб карт не применяется в
ориентировании?

А)

М 1:10000

Б)

М 1:5000

В)

М 1:100000

Г)

М 1:7500

Ответ на вопрос №6.

Какой масштаб карт не применяется в ориентировании?

А)

М 1:10000

Б)

М 1:5000

В)

М 1:100000

Г)


М 1:7500

Вопрос №7

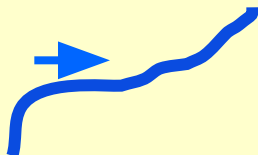
Внимательно прочитайте эти строчки

**Вдоль по берегу реки
Мчались наперегонки:
Рыжие ботинки,
Цвета апельсинки...**

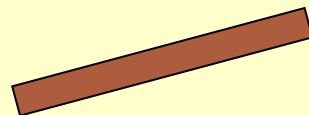
и скажите, какой условный знак к ним
подходит?



1



2



3




4

Ответ на вопрос №7


Внимательно прочитайте эти строчки

Вдоль по берегу реки
Мчались наперегонки:
Рыжие ботинки,
Цвета апельсинки...

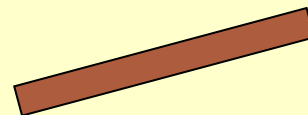
и скажите, какой условный знак к ним подходит?




1



2



3



4

Вопрос №8


Внимательно прочитайте эти строчки

**По тропинке в лес пойдёшь-
Много ягод наберёшь.
Далеко бежит тропинка,
Ягод полная корзинка.**


и скажите, какой условный знак к ним подходит?



1



2



3



4

Ответ на вопрос №8


Внимательно прочитайте эти строчки

По **тропинке** в лес пойдёшь-
Много ягод наберёшь.
Далеко бежит тропинка,
Ягод полная корзинка.


и скажите, какой условный знак к ним
подходит?




1



2



3



тропа

4

Вопрос №9

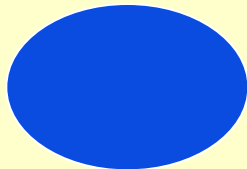
Внимательно прочитайте эти строчки

**Не кольцо, как дар заветный,
В зыбь твою я опустил,
И не камень самоцветный
Я в тебе похоронил.**

и скажите, какой условный знак к ним
подходит?




1



2



3



4

Ответ на вопрос №9

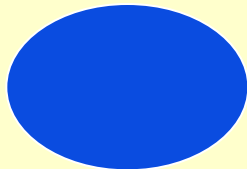
Внимательно прочитайте эти строчки

Не кольцо, как дар заветный,
В зыбь твою я опустил,
И не **камень** самоцветный
Я в тебе похоронил.

и скажите, какой условный знак к ним
подходит?



1




2



камень

3




4

Вопрос №10


Внимательно прочитайте эти строчки

**На улице дождь непрерывный,
А дома тепло и светло.
И можно на бурые ливни
Спокойно смотреть сквозь стекло.**

и скажите, какой условный знак к ним подходит?



1



2



3




4

Ответ на вопрос №10

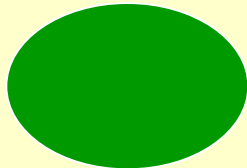
Внимательно прочитайте эти строчки

**На улице дождь непрерывный,
А дома тепло и светло.
И можно на бурые ливни
Спокойно смотреть сквозь стекло.**

и скажите, какой условный знак к ним подходит?



1



2



3

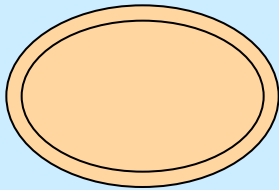


постройки


4

Вопрос №11

Дайте название каждого знака




1



2



3



4

Ответ на вопрос № 11

1

стадион

2

стрельбище

Знак дистанции

«КП»

3


Сухая канава

4

Вопрос № 12


Найдите ошибку

1



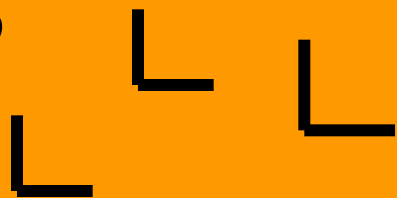
родник

2



редколесье

3



луг

4



бугор

Ответ на вопрос № 12

Найдите ошибку

1




родник

2



редколесье

3



вырубка

4



бугор

Вопрос №13

Какие из этих цветов не используются при рисовке спортивных карт:

1. Черный
2. Белый
3. Сиреневый
4. Синий
5. Зеленый
6. Фиолетовый
7. Желтый
8. Золотой
9. Коричневый
10. Пурпурный
11. Красный


Ответ на вопрос №13

Какие из этих цветов не используются при рисовке спортивных карт:


1. Черный
2. Белый
3. Сиреневый
4. Синий
5. Зеленый
6. Фиолетовый
7. Желтый
8. Золотой
9. Коричневый
10. Пурпурный
11. Красный

Вопрос № 14

Дайте названия знаков



Ответ на вопрос № 14



Высокая башня



Маленькая башня



Кормушка




**Могила, памятник,
obelisk**

Вопрос № 15

Дайте названия знаков


1



2



3




4



Ответ на вопрос № 15

Дайте названия знаков

1



Преодолимая
река

2



лужа

3



Непреодолимая
река

4



Пересыхающий
ручей



Снегу по здравити!