

Дорожные знаки

1

Автор работы – педагог дополнительного образования
Гранько Виктор Тарасович
ГБОУ СОШ №4 им. Кусто Василеостровского района
Санкт-Петербурга.



В каких направлениях Вам разрешено продолжить движение?

1. Только Б.
2. Только А или Б.
3. В любых.



Этот дорожный знак указывает:

1. Расстояние до конца тоннеля.
2. Расстояние до места аварийной остановки.
3. Направление движения к аварийному выходу и расстояние до него.




Этот знак разрешает Вам ставить на стоянку легковой автомобиль с использованием тротуара:

1. Только на правой стороне дороги до ближайшего по ходу движения перекрестка.
2. Только на правой стороне дороги до знака «Конец зоны регулируемой стоянки».
3. На любой стороне дорог, расположенных в зоне регулируемой стоянки.



Можете ли Вы въехать на мост первым?

1. Да.
2. Нет.



С какой максимальной скоростью Вы можете продолжить движение на грузовом автомобиле с разрешенной максимальной массой не более 3,5 т?

1. 60 км/ч.
2. 70 км/ч.
3. 80 км/ч.



В каком случае Вам необходимо двигаться со скоростью до 40 км/ч?

1. Во всех случаях.
2. Только в том случае, когда покрытие на дороге влажное.



А



Б



В



Г

Какие из знаков устанавливают в начале дороги с односторонним движением?

1. Только А.
2. Только Б.
3. Б или Г.
4. Б или В.



Эти знаки предупреждают Вас:

1. О наличии через 500 м опасных поворотов.
2. О том, что на расстоянии 150—300 м за дорожным знаком начнется участок дороги протяженностью 500 м с опасными поворотами.
3. О том, что сразу за знаком начнется участок протяженностью 500 м с опасными поворотами.



А



Б



В

Какой из знаков распространяет свое действие только на ту полосу, над которой он установлен?

1. Только А.
2. Только Б.
3. Б и В.



Этот дорожный знак с желтым фоном информирует Вас о том, что:

1. Дальнейшее движение возможно только по второй полосе.
2. Дальнейшее движение возможно только по проезжей части встречного направления.
3. Дальнейшее движение возможно только по другой дороге.



А



Б



В

Какие знаки распространяют свое действие только на период времени, когда покрытие проезжей части влажное?

1. Только А.
2. Только А и Б.
3. Все.




Разрешена ли Вам стоянка в указанном месте?

1. Разрешена.
2. Разрешена, но только в светлое время суток.
3. Запрещена.



Нарушил ли водитель грузового автомобиля правила стоянки?

1. Нарушил.
2. Нарушил, если разрешенная максимальная масса автомобиля более 3,5 т.
3. Не нарушил.



В каких направлениях Вам разрешено продолжить движение?

1. Только прямо.
2. Прямо или в обратном направлении.
3. Во всех направлениях.



А



Б



В

Какие знаки разрешают Вам проезд на автомобиле к месту проживания?

1. Только А.
2. Только В.
3. Только А и В.
4. Все.




Что обозначают эти дорожные знаки?

- 1. Парковочное место только для автобусов.**
- 2. Парковочное место для автобусов и троллейбусов.**
- 3. Парковочное место для транспортных средств, в случае если для дальнейшего движения можно воспользоваться маршрутными транспортными средствами - автобусом или троллейбусом.**



О чем информируют Вас эти дорожные знаки?

1. О приближении к перекрестку, где установлен знак «Уступите дорогу».
2. О приближении к перекрестку, где установлен знак «Движение без остановки запрещено».
3. О приближении к таможне.



Разрешено ли Вам произвести остановку в указанном месте?

1. Да.
2. Нет.



А



Б



В



Г

Действие каких знаков распространяется только до ближайшего по ходу движения перекрестка?

1. А и В.
2. Б и Г.
3. В и Г.



В чем особенность скоростного режима на этом участке дороги?

1. Минимальная допустимая скорость движения на этой дороге — 50 км/ч.
2. Рекомендуемая скорость движения на этой дороге — 50 км/ч.
3. Минимальная допустимая скорость движения по левой полосе — 50 км/ч.