

1. Разгадай ребус и узнаешь название реки. Впиши его в клетки.



--	--	--	--	--

2. Закрась букву.



3. Прочитай и запомни двустишие:

Славится Мойка мостами цветными:
Желтым, Зеленым, Красным и Синим.


4. Добавь букву, чтобы получилось слово.

	О	С	Т	
--	---	---	---	--

5. Выполни задание на вычисление, чтобы узнать, сколько цветных мостов на реке Мойке. Обозначь число цифрой и впиши в треугольник.



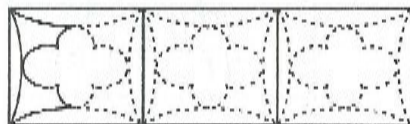
6. Раскрась мосты разными цветами в правильной очередности. Который из них по счету самый широкий?



7. На набережной реки Мойки, в доме № 12, жил великий русский поэт. Впиши его имя в клетки.

П					Н
---	--	--	--	--	---

10. Продолжи рисовать по контуру узор решетки набережной реки Мойки.



1. Разгадай ребус и узнаешь название реки. Впиши его в клетки.



--	--	--	--	--

2. Закрась букву.



3. Прочитай и запомни двустишие:

Славится Мойка мостами цветными:
Желтым, Зеленым, Красным и Синим.


4. Добавь букву, чтобы получилось слово.

	О	С	Т	
--	---	---	---	--

5. Выполни задание на вычисление, чтобы узнать, сколько цветных мостов на реке Мойке. Обозначь число цифрой и впиши в треугольник.



6. Раскрась мосты разными цветами в правильной очередности. Который из них по счету самый широкий?



7. На набережной реки Мойки, в доме № 12, жил великий русский поэт. Впиши его имя в клетки.

П					Н
---	--	--	--	--	---

10. Продолжи рисовать по контуру узор решетки набережной реки Мойки.

