

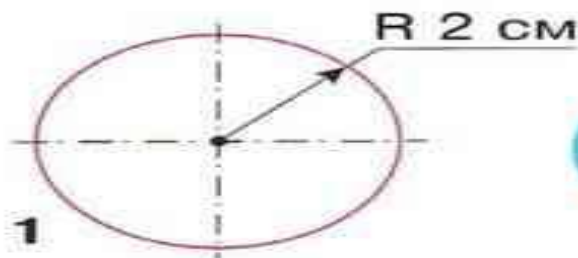
Презентация урока 1 класс



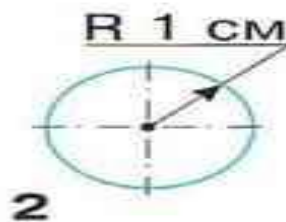
Обсудим вместе

Познакомься с чертежами круглых деталей.

1. Найди изображения круглых деталей.
2. Найди чертежи круглых деталей.
3. Что такое радиус (R)?
4. Назови размер радиуса каждой детали.



1

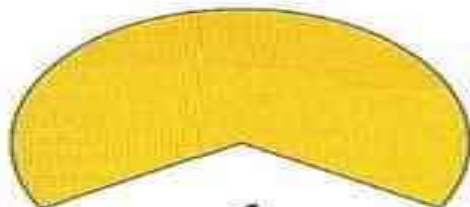


2

Догадайся, что обозначают линии на чертежах. Можно ли сказать, что такие две пересечённые линии указывают на центр круга?

Подумай, как из круга получить форму конуса для новогодних игрушек.

Подсказки

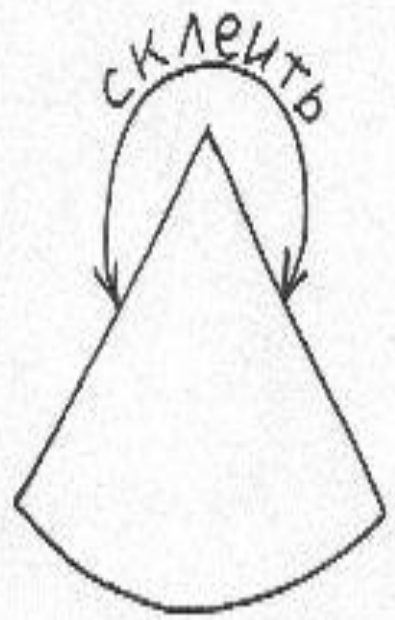
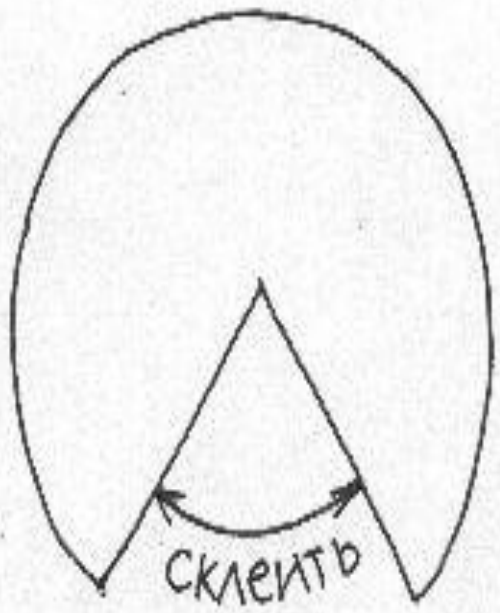



1



2















Наши проекты

«Ёлочка настроения»



Я доволен своей
работай на уроке.



На уроке я работаю
неплохо.



На уроке мне было
трудно.



Молодцы!

Спасибо за урок.

