

Математик

а



Назовите

фигуры



Точка



Прямая



Луч



Кривая



Отрезок





$$4 + 1 = 5$$

$$1 + 4 = 5$$

$$3 + 2 = 5$$


$$2 + 3 = 5$$





СКОЛЬКО звеньев?
СКОЛЬКО вершин?




Назовите выражение


$$5-3=2$$


$$1+3=4$$


$$1+1+2=4$$



Сравните

2 3

4 3

5 1

1 1

меньш

больш

равн

€



o

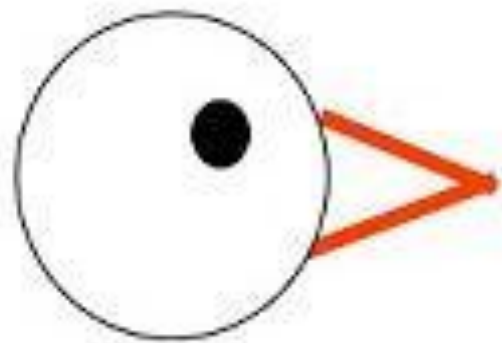


Больше. Меньше. Равно

Научимся

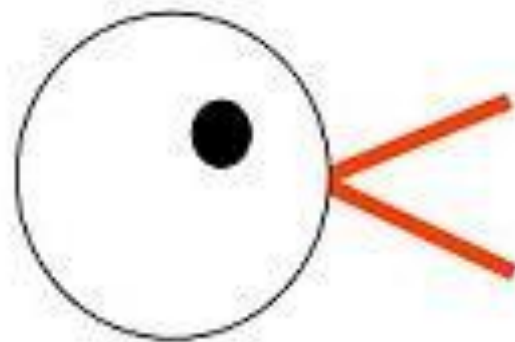
...





Знак «больше»

*птичка наелась,
больше не хочет.*



Знак «меньше»

*птичка не наелась,
ей мало еды.*



Объясните записи



$$\begin{array}{l} 3 > 2 \\ 2 < 3 \end{array}$$

$$\begin{array}{l} 5 > 4 \\ 4 < 5 \end{array}$$

$$5 = 5$$



Объясните записи



$$3 + 1 = 4$$
$$4 > 3$$



$$4 - 1 = 3$$
$$3 < 4$$



Объясните записи. Запишите

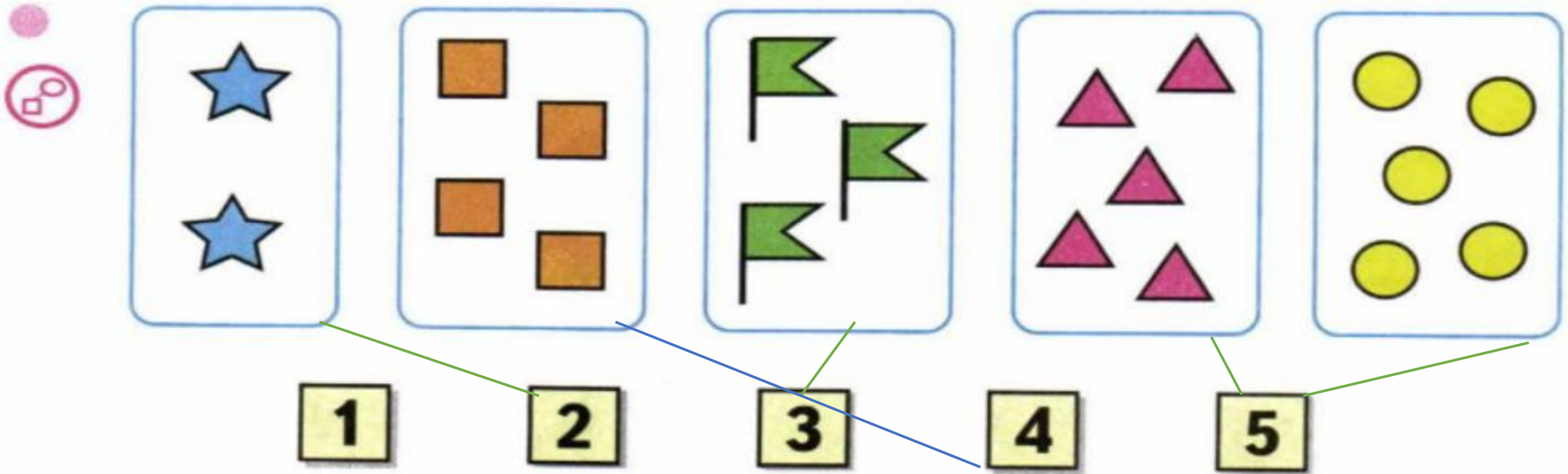


$$\begin{array}{|c|} \hline 3 \\ \hline \end{array} + \begin{array}{|c|} \hline 1 \\ \hline \end{array} = \begin{array}{|c|} \hline 4 \\ \hline \end{array}$$
$$\begin{array}{|c|} \hline 4 \\ \hline \end{array} > \begin{array}{|c|} \hline 3 \\ \hline \end{array}$$



$$\begin{array}{|c|} \hline 4 \\ \hline \end{array} - \begin{array}{|c|} \hline 3 \\ \hline \end{array} = \begin{array}{|c|} \hline 1 \\ \hline \end{array}$$
$$\begin{array}{|c|} \hline 3 \\ \hline \end{array} < \begin{array}{|c|} \hline 4 \\ \hline \end{array}$$





● Начерти ломаную, соединяя точки по порядку их номеров.

