

Урок 5

Русские земли при Иване Великом



**Проверяем домашнее
задание**

Тест

1. Укажите три причины и одно любое важнейшее последствие возвышения Москвы.

Тест

2. В том же столетии, когда в России шла борьба за освобождение от ордынского ига, в Испании боролись против ига арабского. Используя исторические знания, приведите аргументы в подтверждение точки зрения, что освобождение этих двух стран повлияло на их дальнейшую внутреннюю политику: один аргумент для России и один для Испании. При изложении аргументов обязательно используйте исторические факты. Ответ запишите в следующем виде.

Аргумент для России: _____

Аргумент для Испании:

Тест

3. Установите соответствие.

1. Иван Калита

2. Дмитрий Донской

3. Василий I

4. Василий II

А. Поход Едигея на Москву

Б. Походы Хана Улу-Мухаммеда на русские земли

В. Нашествие Тохтамыша на Москву

Г. Восстание в Твери против бесчинств ордынского посла Чол-хана

Д. Стояние на реке Угре

4 «Он был первым, кто поднялся на борьбу за освобождение от монголо-татарского ига. Князю удалось объединить большое число русских воинов, показав во время Куликовской битвы значительно возросшую силу Руси. Несмотря на то что великий князь не сумел предотвратить разорения, нанесенного Тохтамышем, население не склонно было винить его в этом».

- 1. Князь, о котором говорится в отрывке, за свои ратные подвиги получил почетное прозвище Невский.**
- 2. Обособленное положение земель, о котором говорится в отрывке, завершилось в годы правления Ивана IV.**
- 3. Разорение Москвы, о котором говорится в отрывке, произошло после правления Ивана I**
- 4. В годы правления князя, о котором говорится в отрывке, в Москве был построен новый белокаменный Кремль.**
- 5. Князь, о котором говорится в отрывке, первым получил право самостоятельного сбора дани с русских земель для Золотой Орды.**
- 6. Князь, о котором говорится в отрывке, передал ярлык на великое княжество сыну без разрешения хана Золотой Орды.**



1) Сражение, обозначенное на схеме цифрой «1», — битва на реке Сити.

2) Обозначенное на схеме цифрой «1» сражение произошло на территории Рязанского княжества.

3) Обозначенный на схеме цифрой «2» город выступал основным соперником Москвы в борьбе за лидерство в русских землях.

4) Обозначенный на схеме белыми стрелками поход проходил через город Ярославль.

5) Сражение, обозначенное на схеме цифрой «1», закончилось победой войск, руководимых московским князем.

6) Обозначенный на схеме цифрой «4» город был присоединён к Московскому государству в том же веке, к которому относятся обозначенные на схеме стрелками события.

Тест

7. Во второй половине XIII - первой половине XIV в. князья Северо-Восточной Руси боролись друг с другом за ярлык на великое княжение Владимирское, который давал хан Золотой Орды. Но боролись они не просто за документ, а за связанные с ним реальные преимущества и выгоды.


Укажите три основных преимущества, которые получал победитель в этой борьбе.

Тест

8. Одной из особенностей становления и развития русской государственности считается соседство Руси с Великой степью.



Укажите не менее трёх положений, раскрывающих значение такого соседства для развития русских земель до XIII в.

Феодальная война в Московском государстве. 1433 – 1453.



Феодальная война 1433 – 1453 годов, последняя усобица в Московской Руси, была вызвана столкновением старинного права наследования «от брата к брату» и более нового «от отца к сыну». К концу XIV века на территории московского княжества образовалось несколько удельных владений, принадлежащих сыновьям Дмитрия Донского. Крупнейшие удельные образования на территории Московского княжества были Галицкие и Звенигородские земли, которые находились во власти Юрия Дмитриевича.

Юрий Дмитриевич Галицкий и Звенигородский



Юрий Дмитриевич, должен был наследовать престол, после смерти своего брата Василия I. Однако перед смертью Василий I, передал престол своему десятилетнему сыну, Василию II. В итоге началась усобица.

Юрий, как старший в роду, начал борьбу за великокняжеский престол со своим племянником Василием II. Вскоре Юрий Дмитриевич умирает, но его дело продолжают его сыновья – Василий Косой и Дмитрий Шемяка. Война приобрела характер борьбы сторонников и противников централизации государства.

Очередная смена власти



Феодальная война 1433 – 1453 годов была жестокой и бескомпромиссной. В ход шли любые средства: заговор, обман, изуверство. Соискатели великокняжеского престола использовали для борьбы за власть иностранные войска – татарские и литовские. Василий II был ослеплен врагами, за что был прозван Василием Темным.

Ослепление Василия Второго

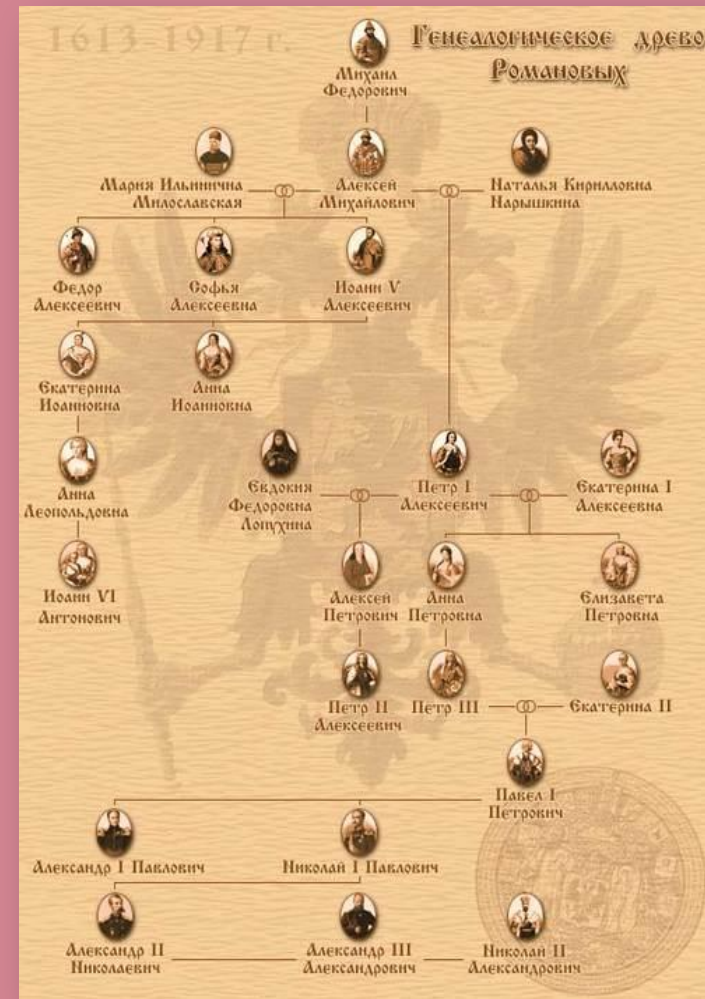



**Завершилась феодальная война 1433 – 1445 годов
победой Василия II, московского князя.**

**Итогом стало разорение и ослабление
обороноспособности русских земель и, как
следствие, ордынские набеги на Русь.**

**Положительными последствиями была отмена
«лестивчного порядка престолонаследия» и
установление порядка престолонаследия «от отца к
сыну», а также усилился характер единоличной
княжеской власти в связи с ликвидацией уделов в
Московской Руси.**

Лествичный порядок престолонаследия ЛИКВИДИРОВАН




Падение ига. Стояние на реке Угре.
1480 год.



Иван Третий Великий. 1462 – 1505.



Хан Ахмат

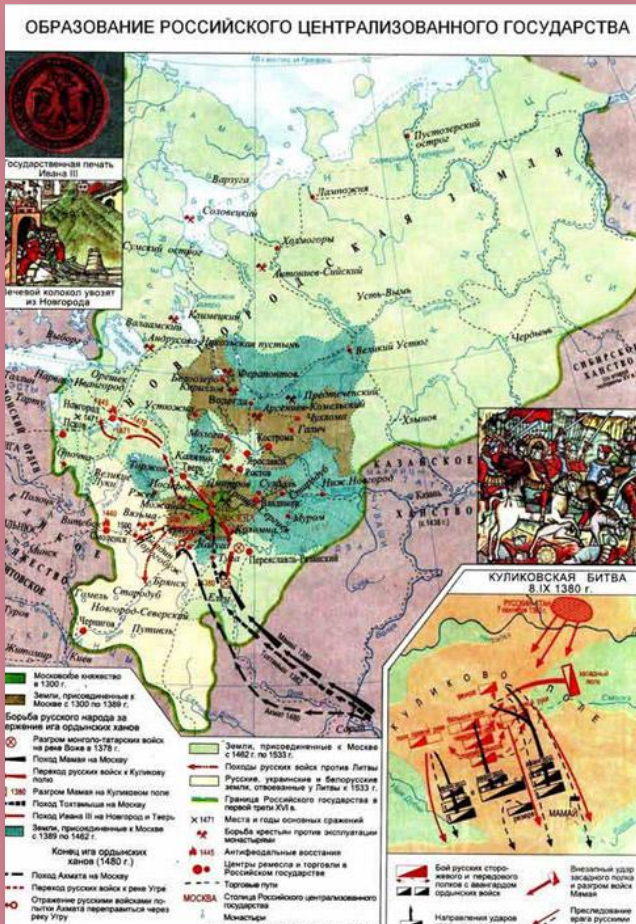




А. Кившенко «Иван Третий топчет ханскую басму»



Москва подчиняет себе Россию.






орий вошли в
государства
но.
ти Новгород и



1471 год – битва на реке Шелони



Пролитовская и промосковская партии. Марфа посадница.



1478 год – окончательное подчинение Новгорода Москве

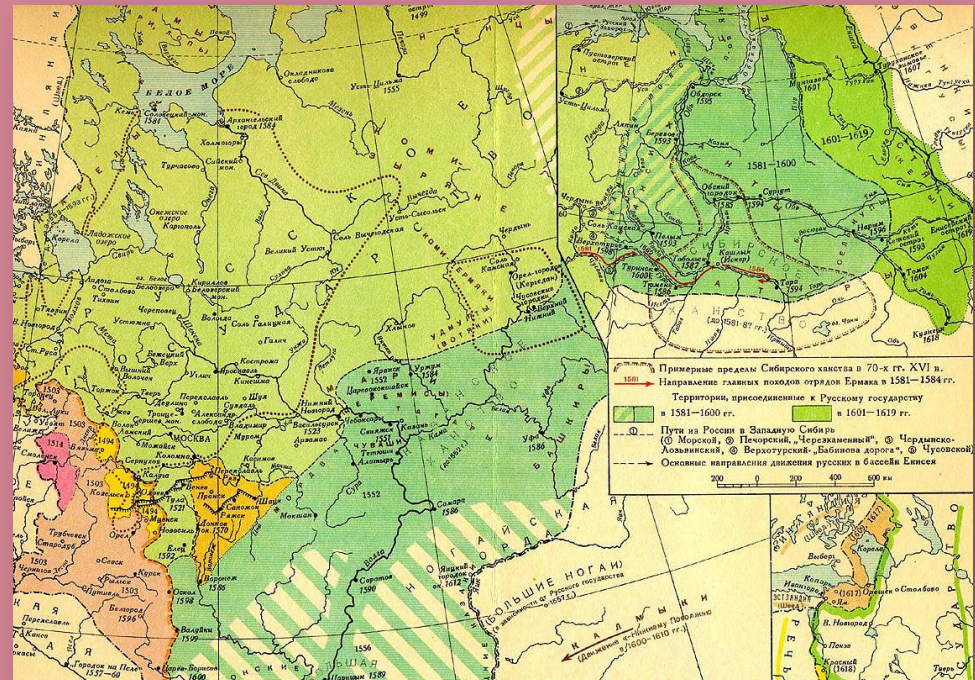


Судьба вечевого колокола и новгородской демократии





Объединение русских земель было завершено уже в начале 16 века при Василии Третьем, когда были присоединены Псков и Великое княжество Рязанское.



Давайте повторим!

Практикум

Когда произошла последняя усобица в истории Московского государства?

Под каким названием она вошла в историю?

За кем осталась власть?

При каком Московском князе произошло объединение и освобождение большинства русских земель?

На какой реке произошло
противостояние русских и ордынских
войск, после которого иго пало?
В каком году это было?
Кто руководил татарским войском?

Какие земли были насильно
присоединены к Московии?

На какой реке произошло сражение
между московским и новгородским
войсками?

Кто возглавил сопротивление Москве в
Новгороде?

Когда завершился процесс
объединения русских земель вокруг
Москвы?

Какие земли последними вошли в
состав Московии?



1) Государь, к концу правления которого сложились отображённые на схеме границы Российского государства, ввёл опричнину.

2) В том же веке, к которому относится присоединение к Российскому государству заштрихованных на схеме территорий, произошло присоединение территории, обозначенной на схеме цифрой «2».

3) Государь, к концу правления которого сложились отображённые на схеме границы Российского государства, был сыном Ивана III.

4) Государство, обозначенное на схеме цифрой «3», было одним из «осколков» Золотой Орды.

5) К тому же веку, к которому относится присоединение к Российскому государству заштрихованных на схеме территорий, относится Северная война.

6) Государство, обозначенное на схеме цифрой «4», на протяжении всего столетия, к которому относится присоединение к Российскому государству заштрихованных на схеме территорий, было

Московское государство на рубеже 15 – 16 веков



От Киевской
Руси
(Государь
Всея Руси)

От Византии
(Софья
Палеолог)



Боярская дума



Приказы



Местничество

Мздоимство


Кормления



Юридическое установление Юрьева дня и введение пожилого



Жестокость законов. Дыба. Лобное место.



Личность Ивана Великого. Характер власти.



Давайте повторим!

Практикум

Выберите из списка три исторические личности, связанные с княжением Ивана III. Запишите номера, под которыми они указаны, в ответ.

- 1) хан Ахмат**
- 2) хан Тохтамыш**
- 3) Сергей Радонежский**
- 4) Иосиф Волоцкий**
- 5) Софья Палеолог**
- 6) Елена Глинская**

Дайте определение понятию «местничества».

Приведите факт, конкретизирующий это понятия, не повторяя определения.


Выберите из списка события, относящихся к правлению Ивана III, и запишите номера, под которыми они указаны, в ответ.

- 1) присоединение Смоленска**
- 2) введение государственного герба — двуглавого орла**
- 3) присоединение Новгорода**
- 4) расцвет приказной системы**
- 5) создание стрелецкого войска**
- 6) постройка краснокирпичного Московского Кремля**

Московский Кремль




Аристотель Фиораванти



И крепость, и символ могущества



Спасская башня



Успенский собор




Архангельский собор



Благовещенский собор



Колокольня Ивана Великого



Царь-колокол и Царь-пушка



Грановитая палата



Теремной дворец



Викторина «Московский Кремль»




Как называется это сооружение?
Что вы запомнили о нём?

















**Приступайте к
выполнению домашнего
задания!**

Спасибо за внимание!

До новых встреч!

