

Площадь параллелограмма

Найдите площадь
параллелограмма

(разрежьте его на две части,
составьте прямоугольник,
выполните измерения,
вычислите площадь)






















4 CM



7 CM


$$a = 4 \text{ cm}$$

$$b = 7 \text{ cm}$$

$$S = a \cdot b$$

$$S = 4 \text{ cm} \cdot 7 \text{ cm}$$

$$S = 28 \text{ cm}^2$$









$$S = 28 \text{ cm}^2$$