

В ми

ов

Интегр
(матем



платики

ДОЛОГИИ

ска

Разгадайте ребусы



Разгадайте ребусы

СЛОЖЕНИЕ

в '  ' e
HKA=M ' 2=a

де ''' 

у  Ж  ' e
,4 ' 2=e

Разгадайте ребусы

СЛОЖЕНИЕ

ВЫЧИТАНИЕ

де ””



у



ж



е

3,4

2=e

Разгадайте ребусы

сложение

вычитание

деление



Разгадайте ребусы

СЛОЖЕНИЕ

ВЫЧИТАНИЕ

ДЕЛЕНИЕ


УМНОЖЕНИЕ

Выполните действия. Объедините примеры в группы


$$0,6 * 0,3$$


$$27 * 0,1$$

$$0,26 - 0,08$$


$$5,6 - 2,9$$


$$0,9 * 3$$


$$0,9 * 0,2$$


$$3,6 : 20$$


$$0,07 + 0,11$$


$$0,9 * 3$$


$$1,5 + 1,2$$


$$0,81 : 0,3$$


$$0,81 : 0,3$$

Сухие плоды

Сочные плоды

Разделите плоды на односемянные и многосемянные и найдите:
 во сколько раз сумма дробей в одной корзине
 больше суммы дробей в другой

15,25 **18,29** **0,14** **4,71**

7,37 **0,05** **0,63** **1,75**

1,06

$$(15,25 + 18,29 + 7,37 + 4,71 + 0,63 + 1,75) : (1,06 + 0,05 + 0,14)$$

Односемянные

Многосемянные

Найдите значение выражения и вы узнаете:

$$(18 - 16,9) * 6,6 + 3:0,6$$

Чем пахнет цветок, опыляемый крыланами?

плесенью



12,26



86



мандаринами



17,54



13,26



Найдите значение выражения и вы узнаете:

$$5 : 0,25 + 0,6 * (9,275 - 4,275) * 10$$

Какое растение цветет под землей на глубине 2 метра?

80



картофель

50
0



перекати-поле

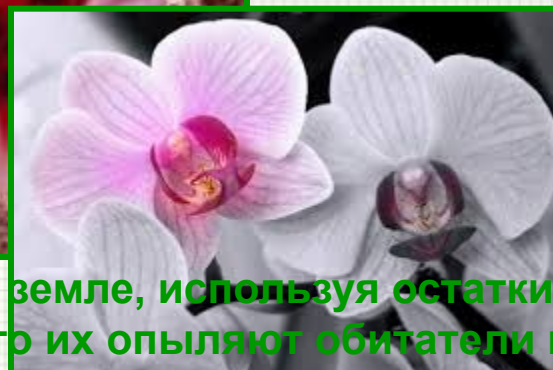
30



Подземные орхидеи развиваются в земле, используя остатки других видов растений. Ученые предполагают, что их опыляют обитатели почвы, но кто именно – до сих пор не известно. На их стеблях живут особенные грибы: они и кормят подземные орхидеи.

МОРКОВЬ

50



орхидея

Решите уравнение



3
,
8

Кеппел



и вы узнаете, плоды какого дерева можно съесть и ваша кожа будет пахнуть фиалками

$$(9,2 - x) : 6 = 0,9$$



4
,
8

Артокарпус



1
4
,
6

Финики

Дерево – кеппел или другое его название парфюмерное дерево. Растет это дерево в Индонезии, Индии, Тайланде. Его плоды растут не только на ветвях, но и на стволе. Плоды похожи на груши, а вкус напоминает манго.

Соберите цветок



Установите соответствие названий частей цветка с его изображением

чашелистик

лепесток

цветоложе

пестик

тычинки

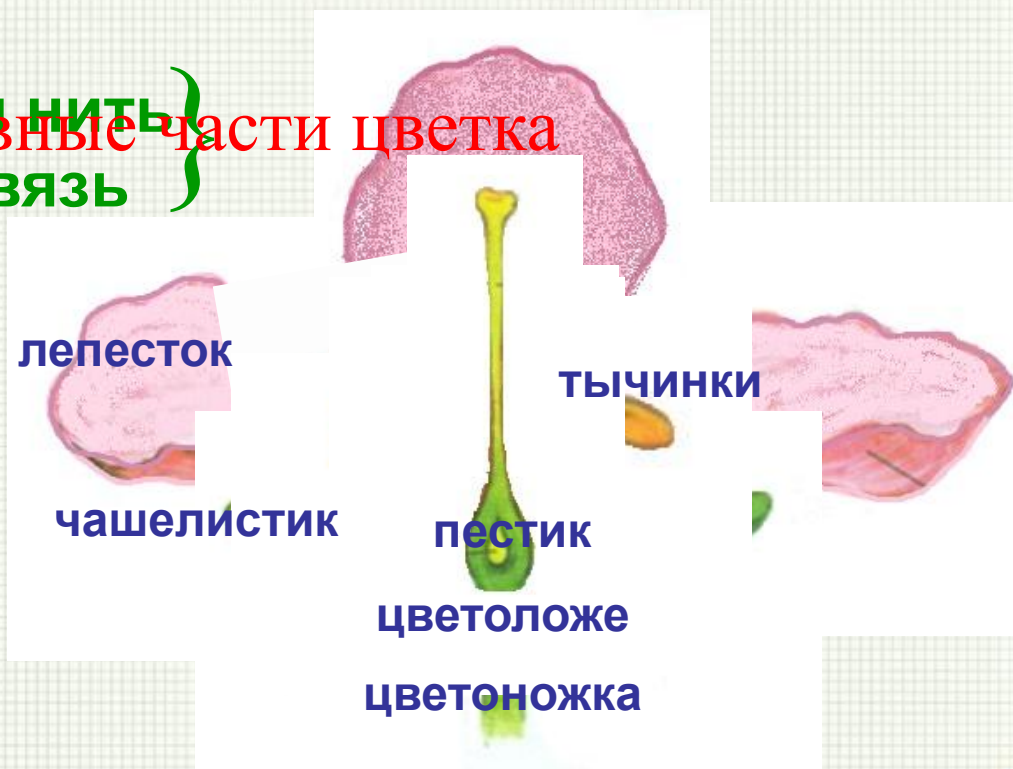
цветоножка



Решите уравнения

чашелистик + чашелистик = ? }
 лепесток + лепесток = ? } **ОКОЛОЦВЕТНИК?**
 чашечка }
 венчик }

пыльник = ? тычиночная нить }
 рыльце = ? столбик + завязь } **главные части цветка**



Восстановите картинку

ОТВЕТЫ



ВОПРОСЫ

1

Соцветие кукурузы

2

$54,0204:4,2 = ?$

3

Соцветие клевера

4

$17,24 \times 4,03 = ?$

5

Соцветие подсолнечника

6

$81-3,068 = ?$

7

Соцветие пшеницы

8

$20,3812:4,06 = ?$

9

Соцветие ландыша