

# Урок математики в 1 классе.



Тема:

# Сложение и вычитание в пределах 10

Учитель Рябченко Татьяна Александровна  
МБОУ Зимовниковская СОШ № 6  
имени Героя России Дьяченко А.А.

A close-up photograph of a spider web against a bright blue sky. A small fly is caught in the center of the web. The web's threads are glistening with dew or moisture. The background is a clear, vibrant blue.
$$2+3=$$

$$8-7=$$

$$6+3=$$

$$5+2=$$

$$10-6=$$

$$9-3=$$

$$6-4=$$

$$1+7=$$

$$7-4=$$

# Проверь!

- + + - - + + + + -

# Назовите «лишние» числа

- 1, 2, 3, 4, 5, 7.
- 2, 4, 6, 7, 8, 10.
- 1, 4, 7, 9, 10.

$$7 \text{ [snowflake]} 2 \text{ [snowflake]} 5 = 4$$

$$7 \text{ [snowflake]} 2 \text{ [snowflake]} 5 = 10$$

$$7 \text{ [snowflake]} 2 \text{ [snowflake]} 5 = 0$$

$$8 \text{ [snowflake]} 2 \text{ [snowflake]} 4 = 10$$

$$8 \text{ [snowflake]} 2 \text{ [snowflake]} 4 = 6$$

$$8 \text{ [snowflake]} 2 \text{ [snowflake]} 4 = 2$$

# Проверь!

$6 + 3 = 9$

$9 - 4 = 5$

$4 + 3 = 7$

$8 - 4 = 4$

$4 + 2 = 6$

$10 - 3 = 7$

$5 + 4 = 9$

$6 - 4 = 2$

**1. На ладонь снеговика упали снежинки. Потом ещё несколько снежинок. Сколько дней продолжался снегопад?**

**2. На ладонь снеговика упало 4 снежинки. Потом ещё 2 снежинки. Была зима.**

**3. На ладонь снеговика упало 4 снежинки. Потом ещё 2 снежинки. Сколько всего снежинок упало на ладонь?**

**вопрос**


**решение**

**ответ**

**условие**



# Проверь!




$$10+0 = 10-0$$

$$10-5 < 10-2$$

$$3+7 = 2+8$$

$$1+9 > 5-5$$

# Проверь!





$$10 - 6 = 4$$

$$5 + 5 = 10$$

$$7 + 3 = 10$$

$$10 - 8 = 2$$



Спасибо за урок !

