

# Сравнение чисел

$$5 < 9$$

$$11 > 8$$

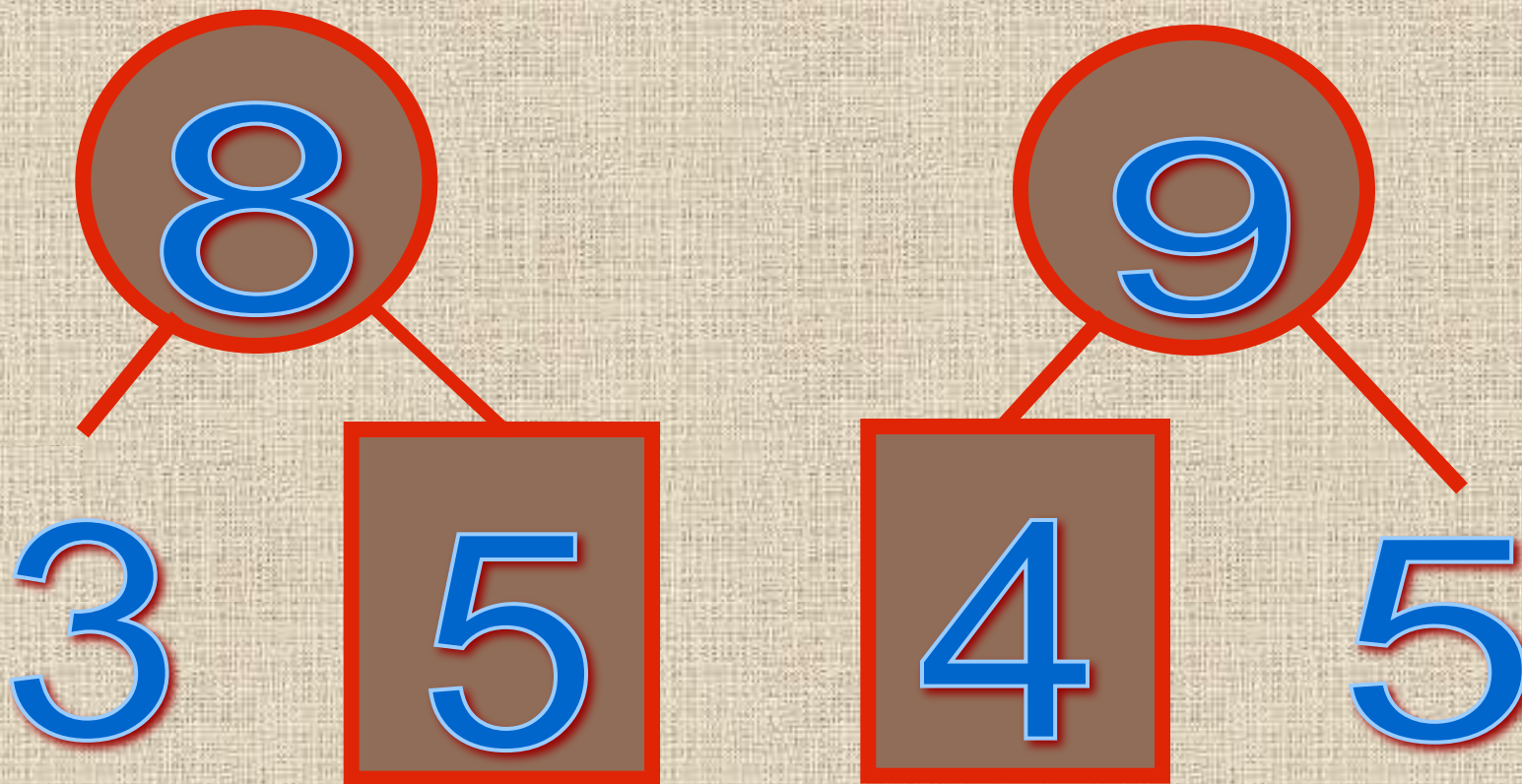
$$15 = 15$$

# *Считаем устно*

1 2 3 4 5



Назовите пропущенное  
число:



Какое число называют  
при счете

перед числом? 12 8

после числа?

15 7

Назовите числа, которые  
стоят между

14 и 19

11 и 15

Назовите предыдущее  
и последующее число:

3	4	5
---	---	---

Не решая примеров, скажите, где  
ответ больше или меньше?


Почему?

$$18 + 5$$

$$18 - 5$$


# Вспоминаем пройденное.

## Работа по учебнику стр. 87

19.  Редиску надо связать в пучки по 5 штук. Сколько пучков получится?



$$20 : 5 = 4 \text{ (пуч.)}$$

20.  Миша сложил свои игрушки в шкаф. На каждую из трёх полок он положил 4 игрушки. Сколько игрушек у Миши?

Запиши решение задачи.

$$\boxed{4} \cdot \boxed{3} = \boxed{12} \text{ (игр.)}$$





# Рефлексия



**1**

У меня всё  
получилось!



**2**

Не всё получилось,  
но я старался.



**3** Не старался,

Много не получилось.