

What time is it now?

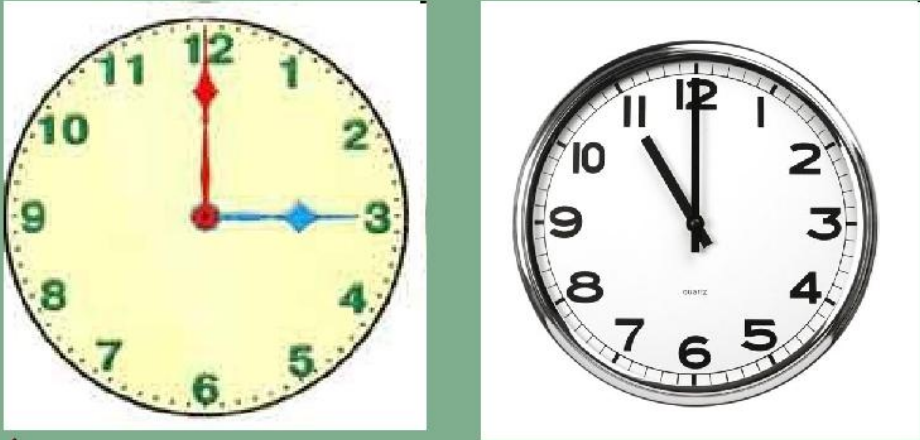
Презентация составлена Варламовой В.А. преподавателем АПТ Санкт-Петербург




Когда нужно назвать точное время , используют «o'clock». Например:

«пять часов ровно»--- « 5 o'clock»

What's the time?



It's three o'clock. It's eleven o'clock.



www.fppt.info

Когда нужно сказать 12.30 или половина первого, говорят «half past 12» (половина после 12)

What's the time?



It's half past nine. It's half past five.



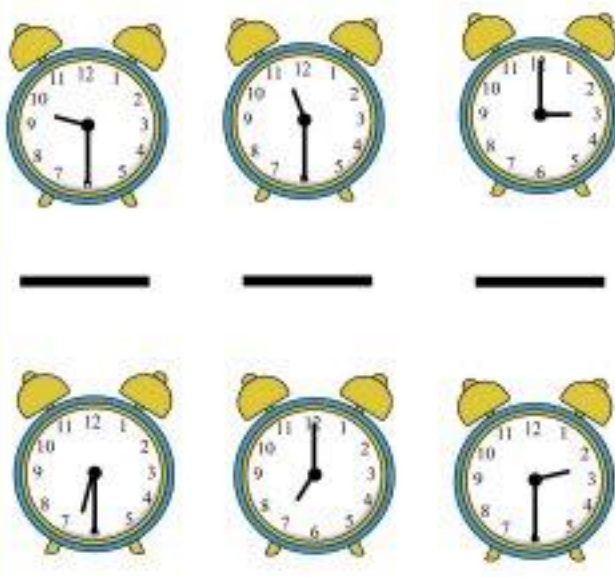
www.fppt.info

Назовите время!

Используйте подсказку!

Clock Worksheets

Write the time shown.



For more great worksheets, lesson plans and teaching tools, visit www.free-math-handwriting-and-reading-worksheets.com. All rights reserved.

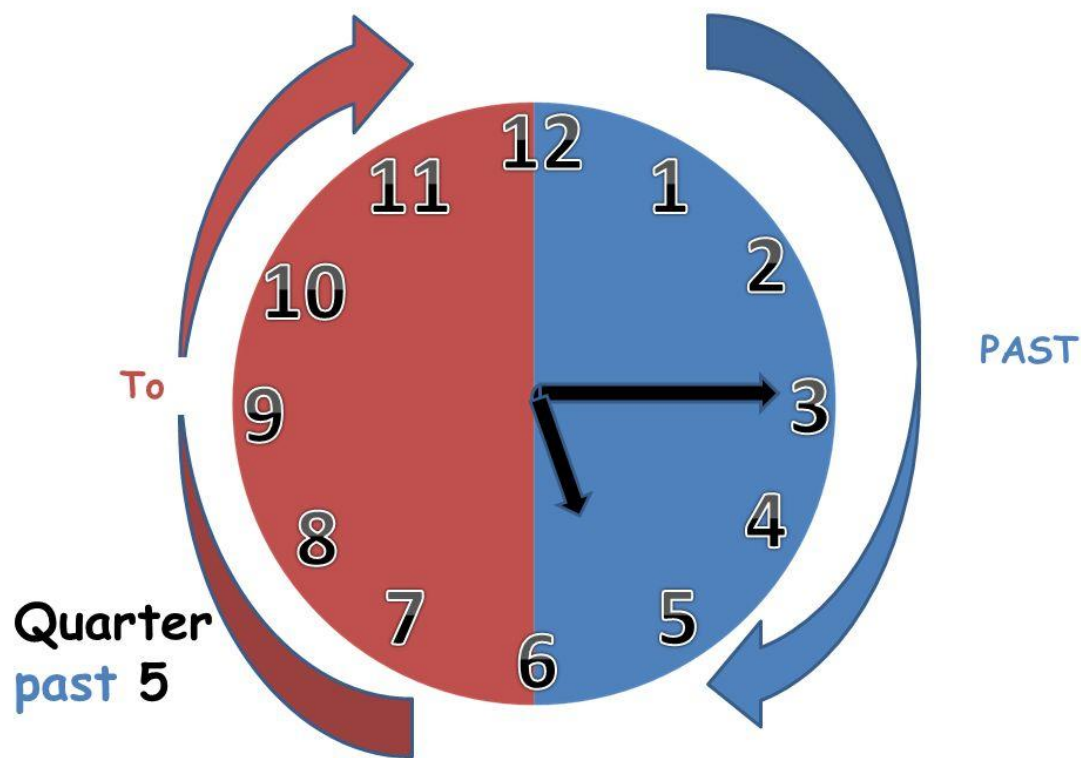
«Половина» - half



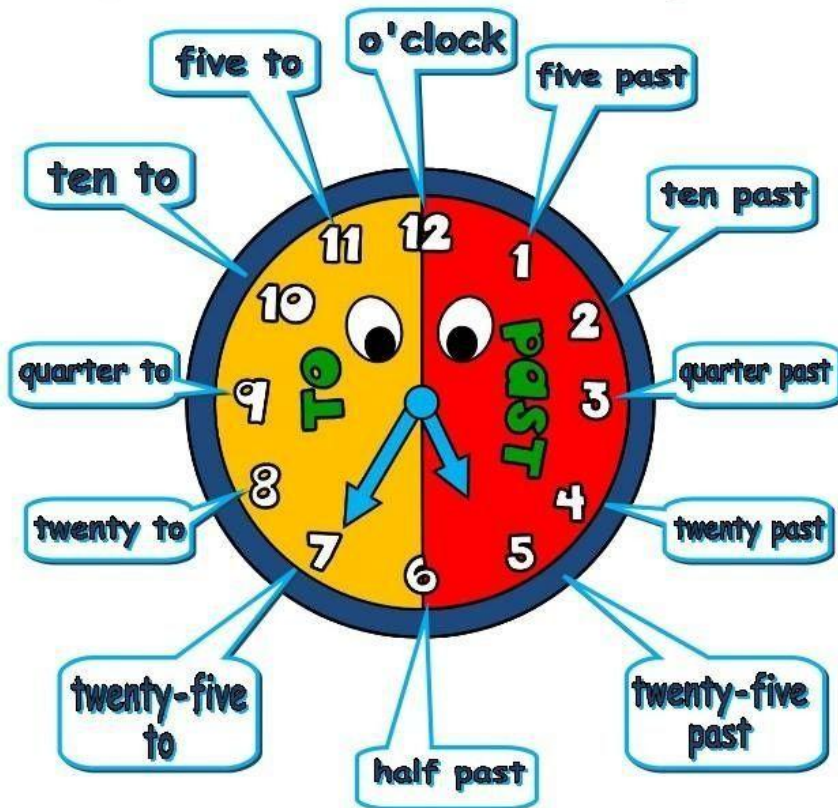
Половина
обозначается словом
"half" ['hæf], без
артикля.

•At half past seven. (Половина восьмого (7:30 или 19:30)).

Чтобы назвать другое время, нужно разделить циферблат на две части. Если минутная стрелка находится в правой части-- используем предлог «PAST» (после), в левой части—используем предлог «TO» (к, без)



What's the time?



q.m. → Latin - ante meridiem = **before noon**

p.m. → Latin - post meridiem = **after noon**



Внимание! “quarter” -
четверть часа.(15 минут)

Translate:

1. 5 minutes past 5
2. 10 minutes past 5
3. Quarter past 5
4. 20 minutes past 5
5. 25 minutes past 5
6. Half past 5
7. 25 minutes to 6
8. 20 minutes to 6
9. Quarter to 6
10. 10 minutes to 6
11. 5 minutes to 6
12. 6 o'clock

Внимательно еще раз просмотрите, как называют время!

What's the time?









It's ten past ten. It's quarter past ten.



www.fppt.info

Time

 <p>It's 3 o'clock.</p>	 <p>It's half past 5.</p>
 <p>It's 10 minutes to 7.</p>	 <p>It's 10 minutes past 6.</p>
 <p>It's a quarter past 10.</p>	 <p>It's a quarter to 2.</p>

Тест1

Назовите время, используя:
o'clock ... / half past ...



1



2



3



4



5



6



7



8

Тест2


Назовите время, используя:
quarter past ...

Name _____


Date _____


The Clock — Quarter Past


Write the time below each clock.





Quarter past 7




















Источники информации:

- [http //tolko-mult. ru](http://tolko-mult.ru)
- [http //animo2.ucoz.ru](http://animo2.ucoz.ru)
- [http //multiki.arjlover.net](http://multiki.arjlover.net)
- [http //funmult.ru](http://funmult.ru)
- **АНГЛИЙСКИЙ ЯЗЫК.Нестандартные уроки.** Сост.
• З.А.Ефанова-Волгоград:ИТД”Корифей”