

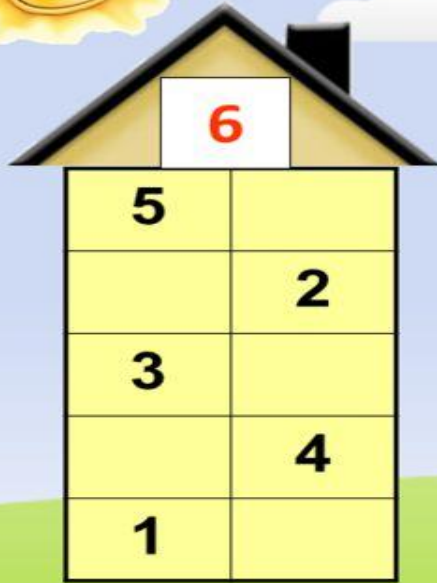
Тема: Числа от 1 до 7.
Письмо цифры 7.
Цель: Познакомить с
числом 7. Образовани
ем
числа 7. Научиться
писать
цифру 7.



Назови последующее и предыдущее
число



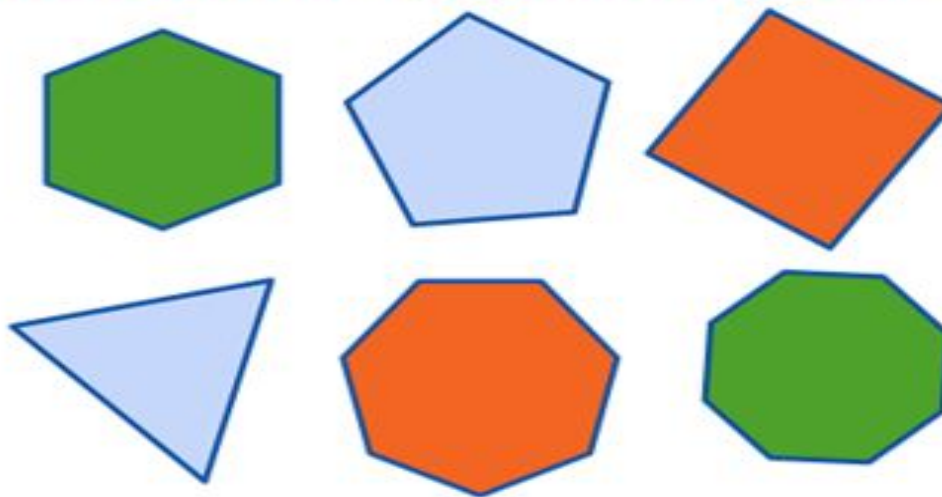
Засели домики.



MyShared



**КАК ВСЕ ЭТИ ФИГУРЫ
НАЗВАТЬ ОДНИМ СЛОВОМ?**



МНОГОУГОЛЬНИКИ



1 4 6

2

1 4 6

2

3

4

6

7

5

2

6

7

5

4

2




$$1 + 1 = 2$$

$$3 + 1 = 4$$

$$2 + 1 = 3$$

$$5 + 1 = 6$$

$$4 + 1 = 5$$

$$3 + 2 = 5$$

$$2 + 2 = 4$$


$$1 + 2 = 3$$



Работа по учебнику

стр. 53 – 54





$$6+1=7$$

Сколько вагонов в каждом поезде? В каком из них больше вагонов и на сколько?

$$7 - 1 = \square$$

$$5 - \square = 4$$

$$\square - 1 = 2$$

$$6 - 1 = \square$$

$$4 - \square = 3$$

$$\square - 1 = 1$$



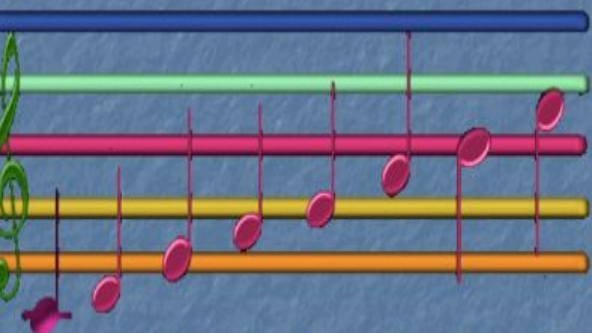
7



Семь дней в неделе.
Семь цветов у радуги.
Семь континентов на Земле.





Семь нот в музыке




До Ре Ми Фа Соль Ля Си До

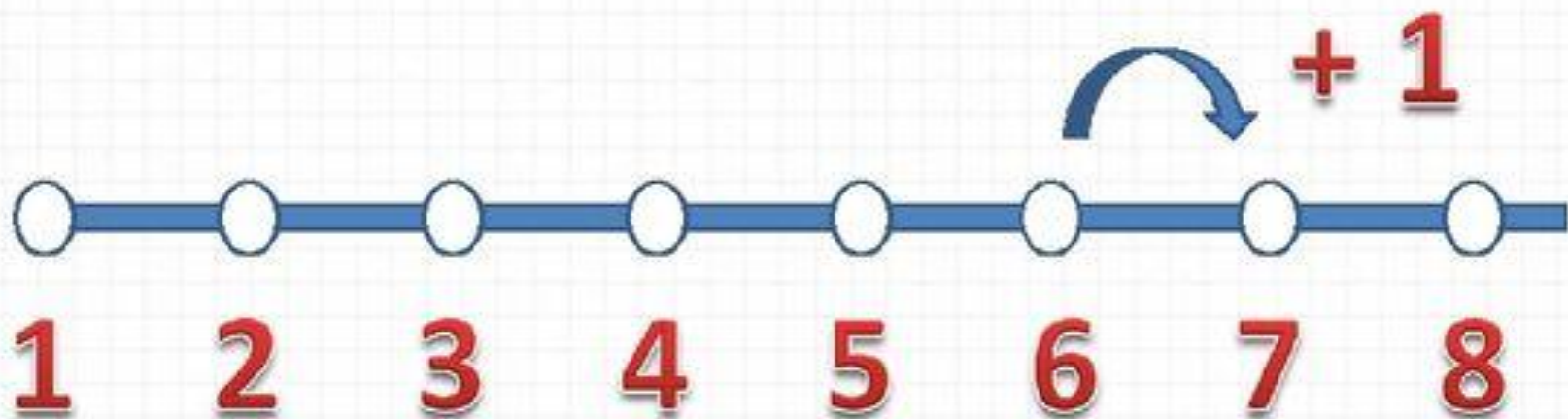
- 1 Понедельник
- 2 Вторник
- 3 Среда
- 4 Четверг
- 5 Пятница
- 6 Суббота
- 7 Воскресенье



7 чудес света



«Сказка о мертвой царевне
и семи богатырях»







7	
1	6
2	5
3	4




Пальчиковая гимнастика



MyShared







$$5 + 1 = \square$$


$$6 + 1 = \square$$

$$6 - 1 = \square$$

$$7 - 1 = \square$$



● Раскрась рисунок так, чтобы он подходил к записи.



$2 < 4$



$4 > 3$



$3 < 5$



$4 = 4$




5 -	= 4					- 1 = 2						2 + 3 =				
4 -	= 3					- 1 = 1						5 + 2 =				



777 777 777

1, 2, 4, 5, 6, 7. 7, 6, 5, 3, 2.

Определи, какая запись подходит к рисунку слева, а какая — к рисунку справа.



$$4 + 1$$


$$4 - 3$$

$$4 - 1$$

$$5 - 1$$

$$4 - 2$$

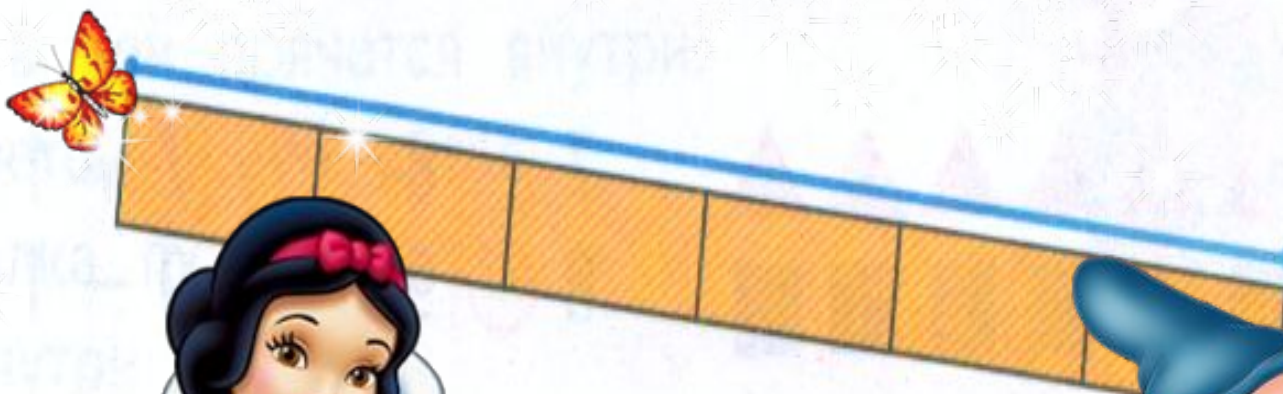
$$2 + 2$$



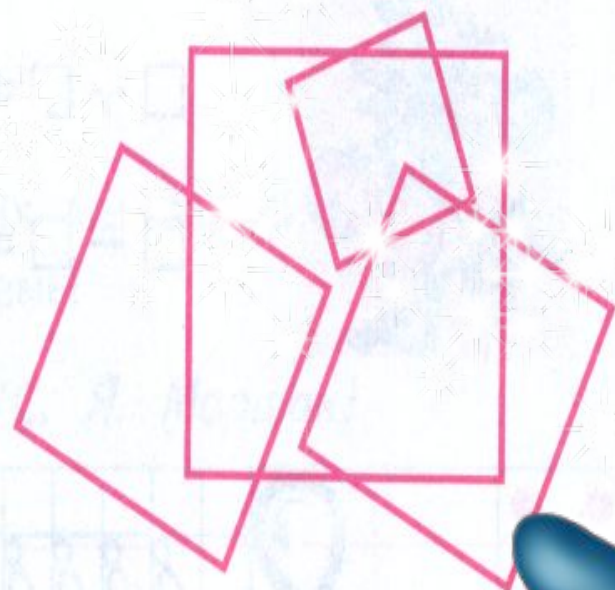
Составь рассказ по записи $4 - 3$.



Сравни отрезки по длине.



Сколько треугольников на чертеже? Сколько квадратов?



Продолжи предложения:

На уроке я узнал ...

На уроке я научился...

Самое интересное на
уроке...

