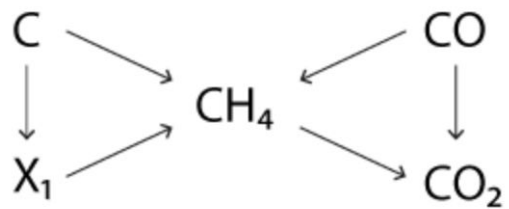


Алканы

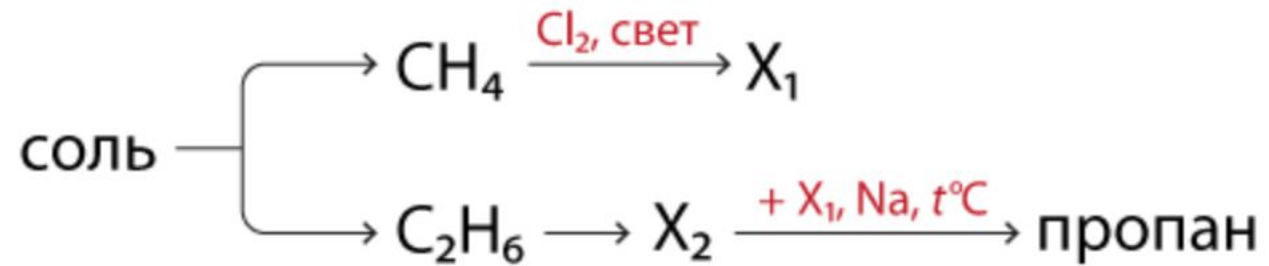


Напишите уравнения реакций, с помощью которых можно осуществить следующие превращения:



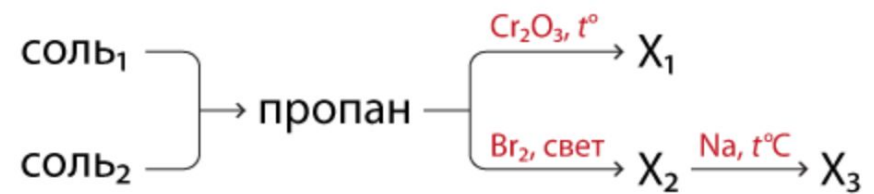
При написании уравнений реакций используйте структурные формулы органических веществ. Реакции в данной схеме не повторяются.

Напишите уравнения реакций, с помощью которых можно осуществить следующие превращения:



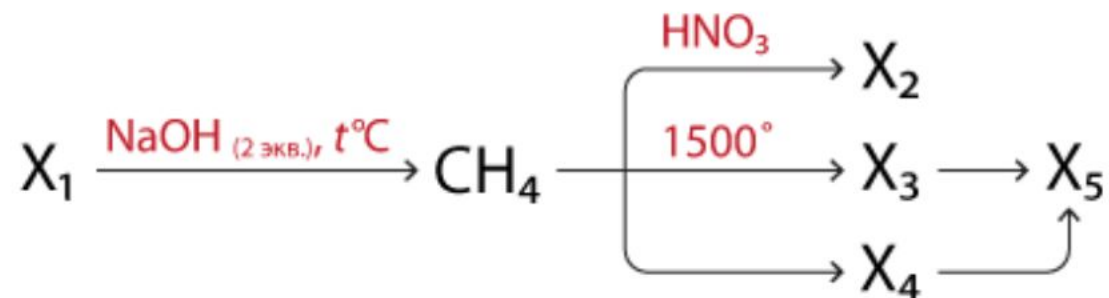
При написании уравнений реакций используйте структурные формулы органических веществ.

Напишите уравнения реакций, с помощью которых можно осуществить следующие превращения:



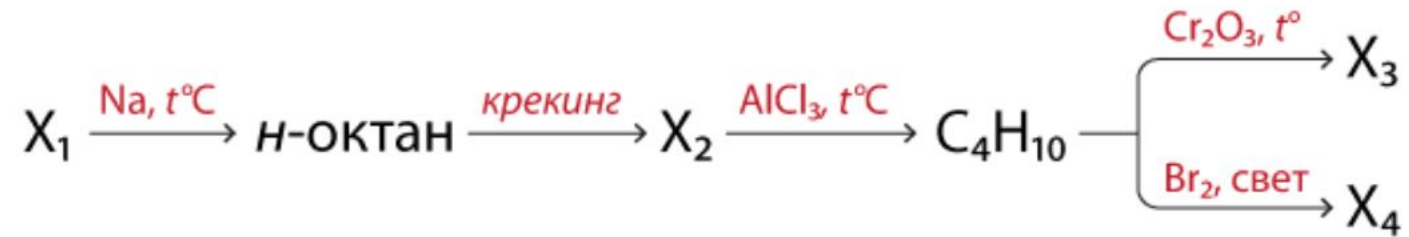
При написании уравнений реакций используйте структурные формулы органических веществ. Соль₁ и соль₂ образованы изомерными карбоновыми кислотами.

Напишите уравнения реакций, с помощью которых можно осуществить следующие превращения:



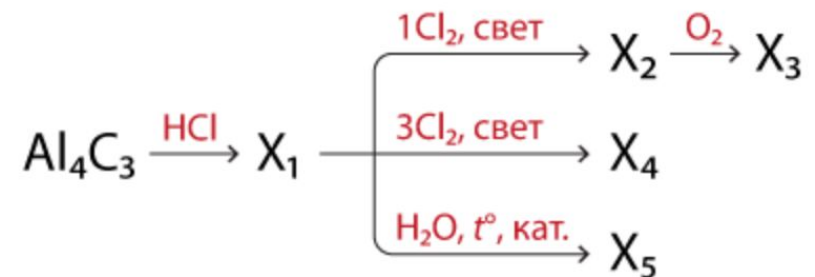
При написании уравнений реакций используйте структурные формулы органических веществ.

Напишите уравнения реакций, с помощью которых можно осуществить следующие превращения:



При написании уравнений реакций используйте структурные формулы органических веществ.

Напишите уравнения реакций, с помощью которых можно осуществить следующие превращения:



При написании уравнений реакций используйте структурные формулы органических веществ. Вещества $\text{X}_1 - \text{X}_5$ содержат углерод.

Напишите уравнения реакций, с помощью которых можно осуществить следующие превращения:



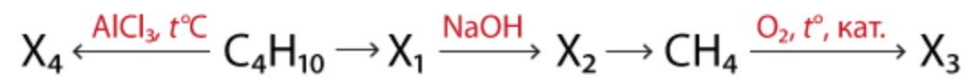
При написании уравнений реакций используйте структурные формулы органических веществ.

Напишите уравнения реакций, с помощью которых можно осуществить следующие превращения:



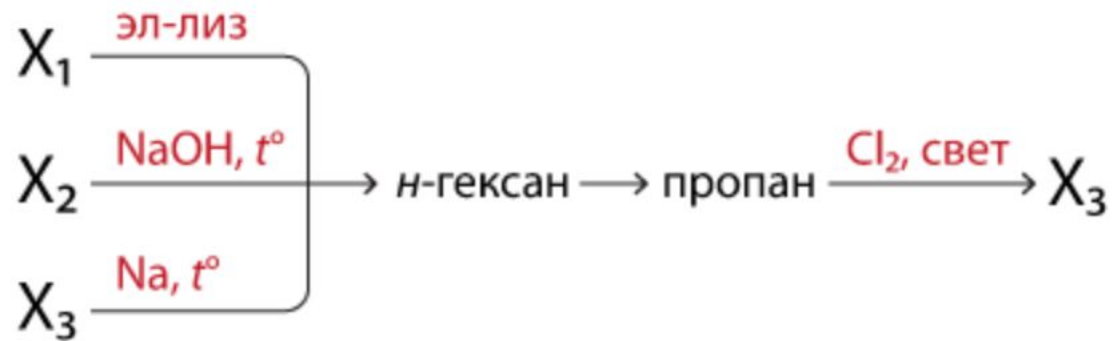
При написании уравнений реакций используйте структурные формулы органических веществ.

Напишите уравнения реакций, с помощью которых можно осуществить следующие превращения:



При написании уравнений реакций используйте структурные формулы органических веществ. Вещества X_1 и X_3 относятся к одному и тому же классу.

Напишите уравнения реакций, с помощью которых можно осуществить следующие превращения:



При написании уравнений реакций используйте структурные формулы органических веществ.