

# *Практические задания*

по наглядной геометрии

*5 класс*



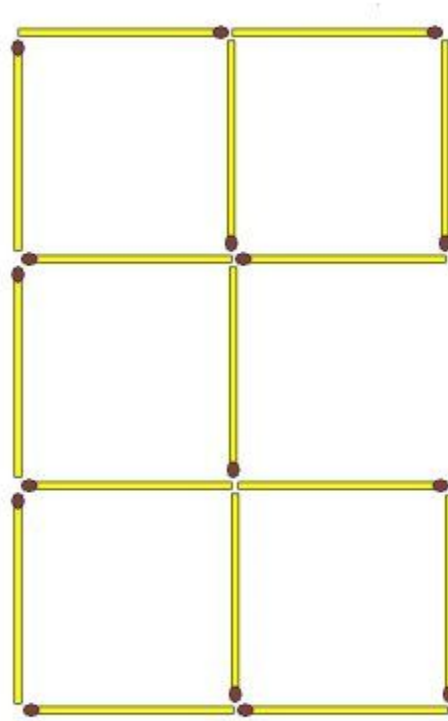
# Задание со спичкам



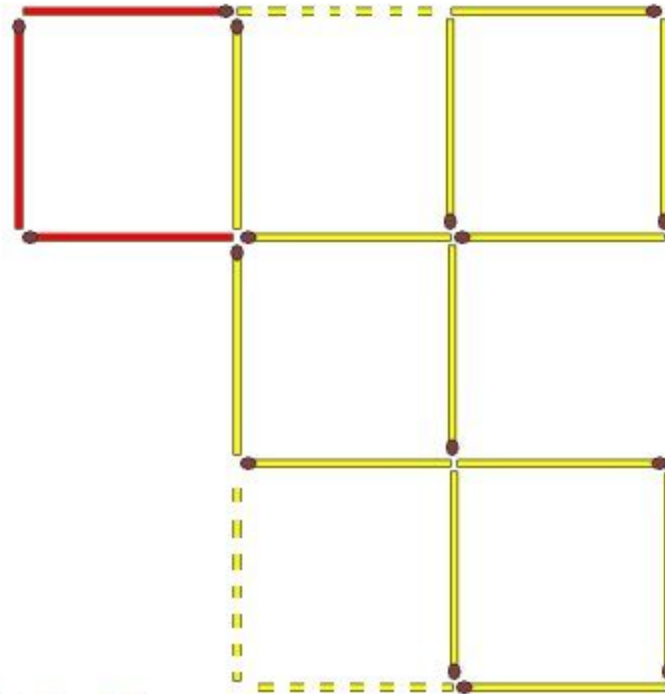
«Чтобы в ваш дом не пришла беда—  
Будьте с огнём осторожны всегда!»



На рисунке изображены пять квадратов, составленных из шестнадцати спичек. Переставьте три спички так, чтобы получилось четыре одинаковых квадрата.



# Ответ

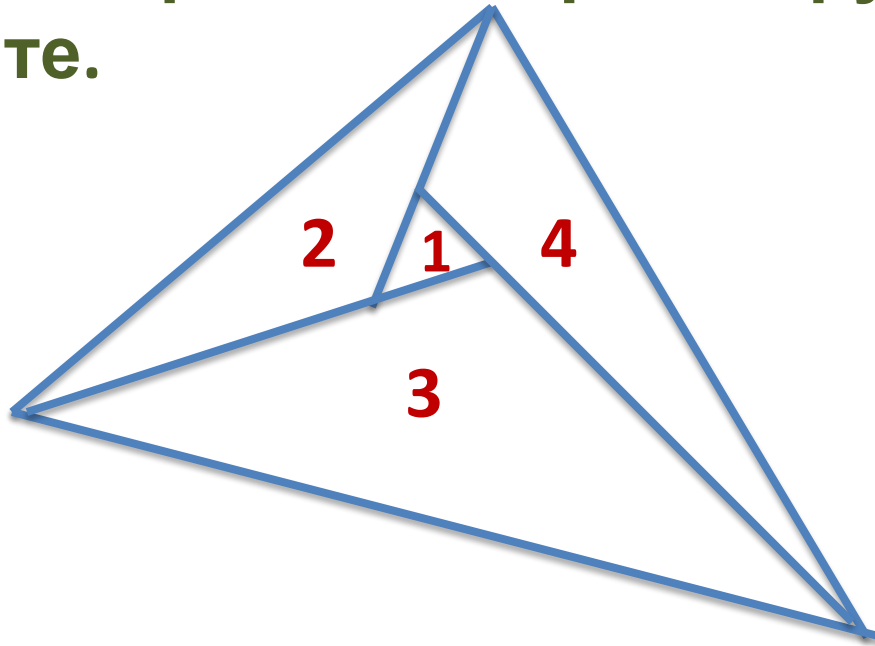


PoteheChas.ru



# Ответ

Четыре страны имеют форму треугольников.  
Как расположены страны одна относительно другой, если у каждой из них есть общие границы с тремя другими?  
Нарисуйте.

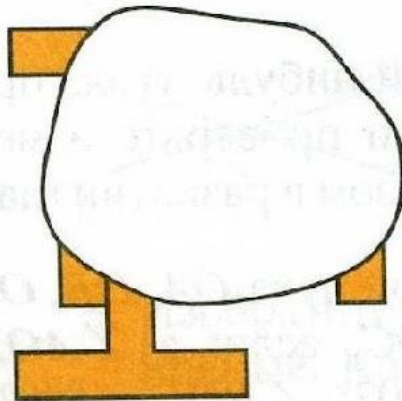


# Задание

## «Конструирование»

2. На фигуры кто-то вылил белую краску (рис. 22). Известно, что фигуры состоят из букв Т. Восстановите их вид.

а)



б)

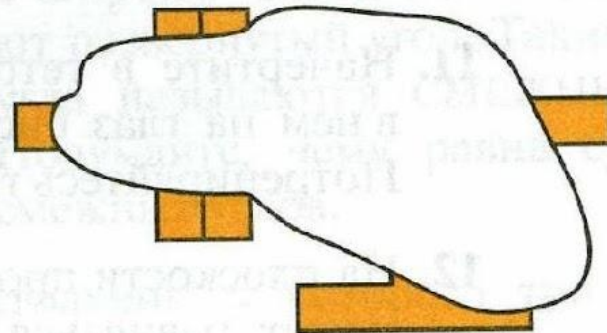
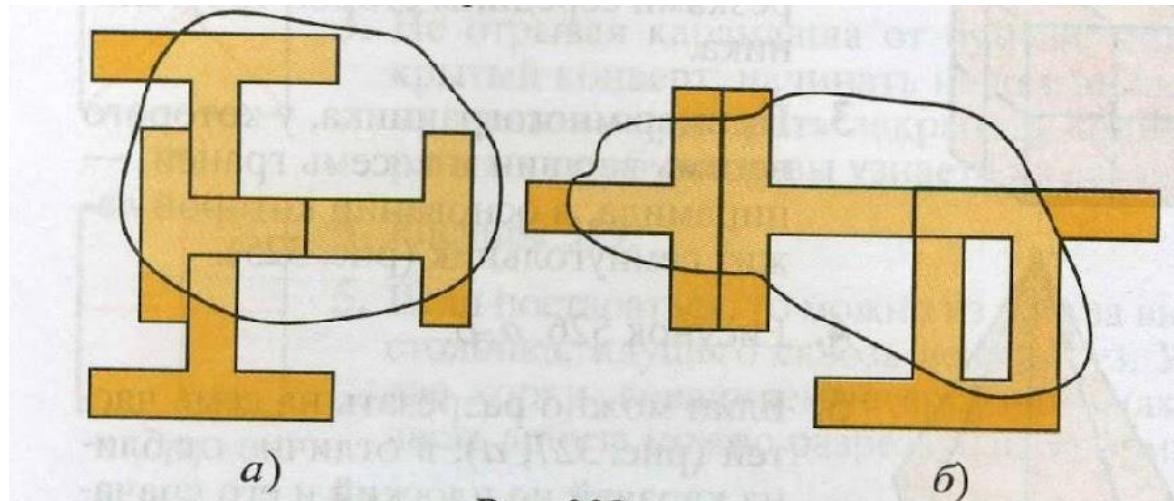


Рис. 22



# Отве

# т





**Урок по наглядной геометрии.  
Учебник И.Ф. Шарыгин, Л.Н. Ерганжиева «Наглядная  
геометрия 5-6 класс»; Москва «Дрофа» 2011г.**

**Муниципальное образовательное учреждение  
Новобурасского района Саратовской области  
Тёпловская средняя общеобразовательная школа**

**АВТОР – СОСТАВИТЕЛЬ  
Пашкина Любовь Владимировна**

**АДРЕС:  
412587 с. Тёпловка, ул. Красноармейская 35**

**2011год**