

# Дорожные знаки

Только «СД»



**Разрешено ли Вам продолжить движение в прямом направлении на грузовом автомобиле с разрешенной максимальной массой более 3,5 т?**

- 1. Разрешено.**
- 2. Запрещено.**
- 3. Разрешено, если Вы обслуживаете предприятие, расположенное в обозначенной знаков зоне.**



**Разрешен ли Вам обгон, если Вы управляете автобусом?**

1. Разрешен, если скорость обгоняемого грузового автомобиля менее 30 км/ч.
2. Разрешен.
3. Запрещен.

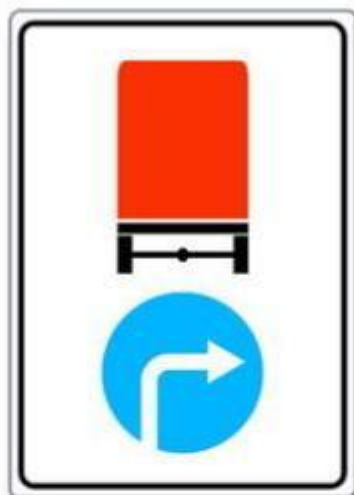


**Нарушил ли водитель грузового автомобиля правила стоянки?**

1. Нарушил.

2. Нарушил, если разрешенная максимальная масса автомобиля более 3,5 т.

3. Не нарушил.



**Управляя каким автомобилем Вы обязаны выполнить требования данного знака?**

1. Любым грузовым автомобилем.
2. Грузовым автомобилем с разрешенной максимальной массой более 3,5 т.
3. Грузовым автомобилем, оборудованным опознавательным знаком «Опасный груз».





**Вы управляете грузовым автомобилем с разрешенной максимальной массой более 3,5 т. В каких направлениях Вам разрешено дальнейшее движение?**

1. Только направо.
2. Только направо, налево и в обратном направлении.
3. В любых.



**Эта табличка распространяет действие установленного с ней знака:**

1. Только на грузовые автомобили с разрешенной максимальной массой более 3,5 т.
2. На все грузовые автомобили.
3. На все транспортные средства, кроме легковых автомобилей.



**А**



**Б**



**В**

**Какие знаки разрешают движение грузовым автомобилям с разрешенной максимальной массой более 3,5 т?**

1. Только А.
2. Только А и Б.
3. Все.






**Каким транспортным средствам запрещена стоянка в зоне действия этих знаков?**

1. Только грузовым автомобилям с разрешенной максимальной массой более 3,5 т.
2. Всем грузовым автомобилям.
3. Всем транспортным средствам, кроме грузовых автомобилей.



**Каким транспортным средствам знак запрещает движение?**

1. Всем транспортным средствам, фактическая масса которых более 6 т.
2. Транспортным средствам, у которых фактическая масса, приходящаяся на какую-либо ось, более 6 т.
3. Всем грузовым автомобилям с разрешенной максимальной массой более 6 т.



**В каких направлениях Вам разрешено продолжить движение на грузовом автомобиле с разрешенной максимальной массой более 3,5 т?**

1. Только прямо.
2. Прямо и направо.
3. Прямо и в обратном направлении.





**Какие транспортные средства должны продолжить движение только направо?**

1. Только грузовые автомобили с фактической массой более 10 т.
2. Транспортные средства с разрешенной максимальной массой более 10 т.



**Каким транспортным средствам знак запрещает движение?**

1. Всем транспортным средствам с прицепами.
2. Грузовым автомобилям и тракторам с прицепами, а также всем транспортным средствам, осуществляющим буксировку.
3. Только транспортным средствам, осуществляющим буксировку.





**В каком случае при перевозке крупногабаритного груза Вам запрещено продолжить движение в прямом направлении?**

1. Если высота груза 4 м.
2. Если габаритная высота автомобиля вместе с грузом 4 м.
3. В обоих случаях.



**Можно ли водителю грузового автомобиля остановиться в этом месте?**

1. Да.
2. Да, если разрешенная максимальная масса автомобиля не более 3,5 т.
3. Нет.



**Этот знак запрещает движение транспортным средствам:**

1. Разрешенная максимальная масса которых более 7 т.
2. Фактическая масса которых более 7 т.





**Разрешено ли проехать по мосту этому автопоезду, если фактическая масса автомобиля 8 т, а прицепа 5 т?**


1. Да.
2. Да, но только с разрешения ГИБДД.
3. Нет.



**Разрешен ли Вам обгон, если Вы управляете грузовым автомобилем с разрешенной максимальной массой более 3,5 т?**

1. Запрещен.
2. Разрешен, если скорость обгоняемого автомобиля менее 30 км/ч.
3. Разрешен.





**В каких направлениях Вам разрешено продолжить движение на грузовом автомобиле с разрешенной максимальной массой 12 т при фактической массе 8 т?**

1. Только В.
2. Б и Г.
3. А и В.
4. В любом направлении.




**Этот дорожный знак запрещает движение транспортных средств:**

1. Фактическая масса которых более 6 т.
2. Разрешенная максимальная масса которых более 6 т.
3. У которых фактическая масса, приходящаяся на какую-либо ось, более 6 т.



**А**



**Б**



**В**

**Какие таблички распространяют действие установленных с ними знаков на грузовые автомобили с разрешенной максимальной массой более 3,5 т?**

1. Только А.
2. Только В.
3. А и В.
4. Все.