

Математика

1 класс

МНОГО  
ОДИН



Назовите число предметов на каждом рисунке.


**ОДНА**



**МНОГО**



**ОДНА**



**МНОГО**



**МНОГО**





**ОДНО**



# ОДИН



# МНОГО





**ОДИН**



**МНОГО**



**МНОГО**



**ОДНА**



**ОДИН**



**МНОГО**





**МНОГО**



**ОДНА**




**ОДИН**




**МНОГО**



**МНОГО**



**ОДИН**



**ОДНА**



**МНОГО**



**МНОГО**




**ОДНА**





КТО НА КАРТИНКЕ **ОДИН**, А КОГО **МНОГО**?



В КАКОМ ГНЕЗДЕ ЯИЦ **МАЛО**, А В КАКОМ **МНОГО**?



У КАКОГО ОДУВАНЧИКА «ПАРАШЮТИКОВ» **МНОГО**, А У КАКОГО **МАЛО**?



РАК **ОДИН**, А РЫБОК...?



СТРЕКОЗА **ОДНА**, А БАБОЧЕК...?



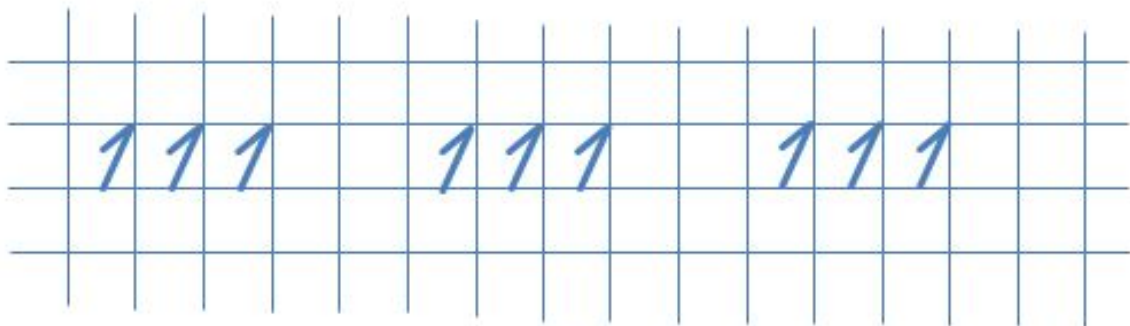




КАКОЕ ВРЕМЯ ГОДА ИЗОБРАЖЕНО?  
ПО КАКИМ ПРИЗНАКАМ ВЫ ЭТО ОПРЕДЕЛИЛИ?



О ЧЁМ НА РИСУНКЕ МОЖНО СКАЗАТЬ «ОДИН»,  
А О ЧЁМ «МНОГО»?

**Число 1** записывают знаком – цифрой 1.





Вы можете заметить ее на номерах трамваев, автобусов и троллейбусов (на рисунке номер **11**)



**Цифру 1** можно увидеть повсюду.  
Например, ее можно увидеть на  
денежных монетах и купюрах:

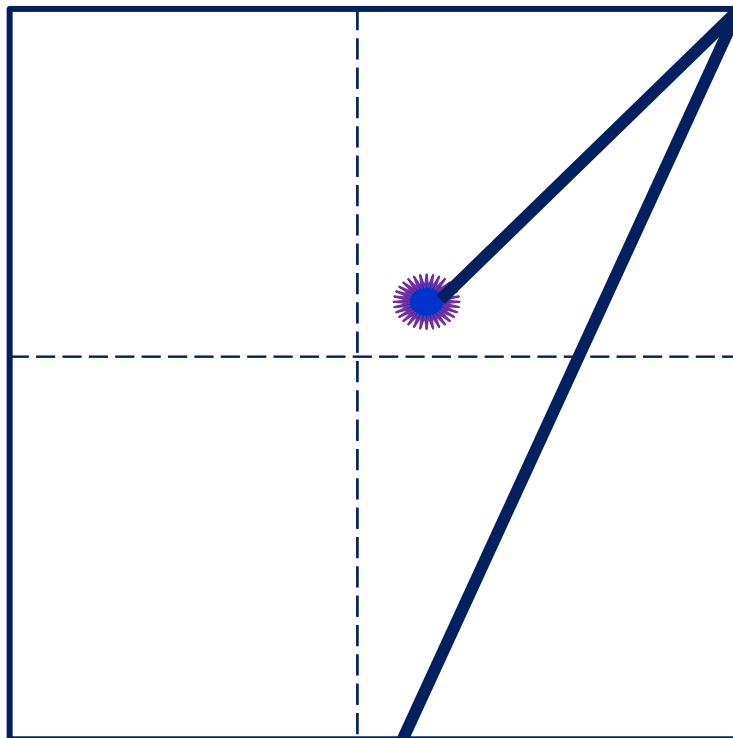


Купюра в **100** рублей



**Один**  
рубль

# Учимся писать цифру 1



# 1

## ЕДИНИЦА



Как солдатик единица.

Ей никак нельзя  
садиться:

На посту она стоит.

Влево нос всегда глядит.

Где мы встретим единицы?  
Клюв один у каждой птицы,  
Есть один хвост у дельфина,  
И один хвост у павлина,  
Хобот у слона один,  
Руль один у всех машин,  
У Земли Луна одна,  
Нам она в ночи видна.





**МОЛОДЦЫ!**

