

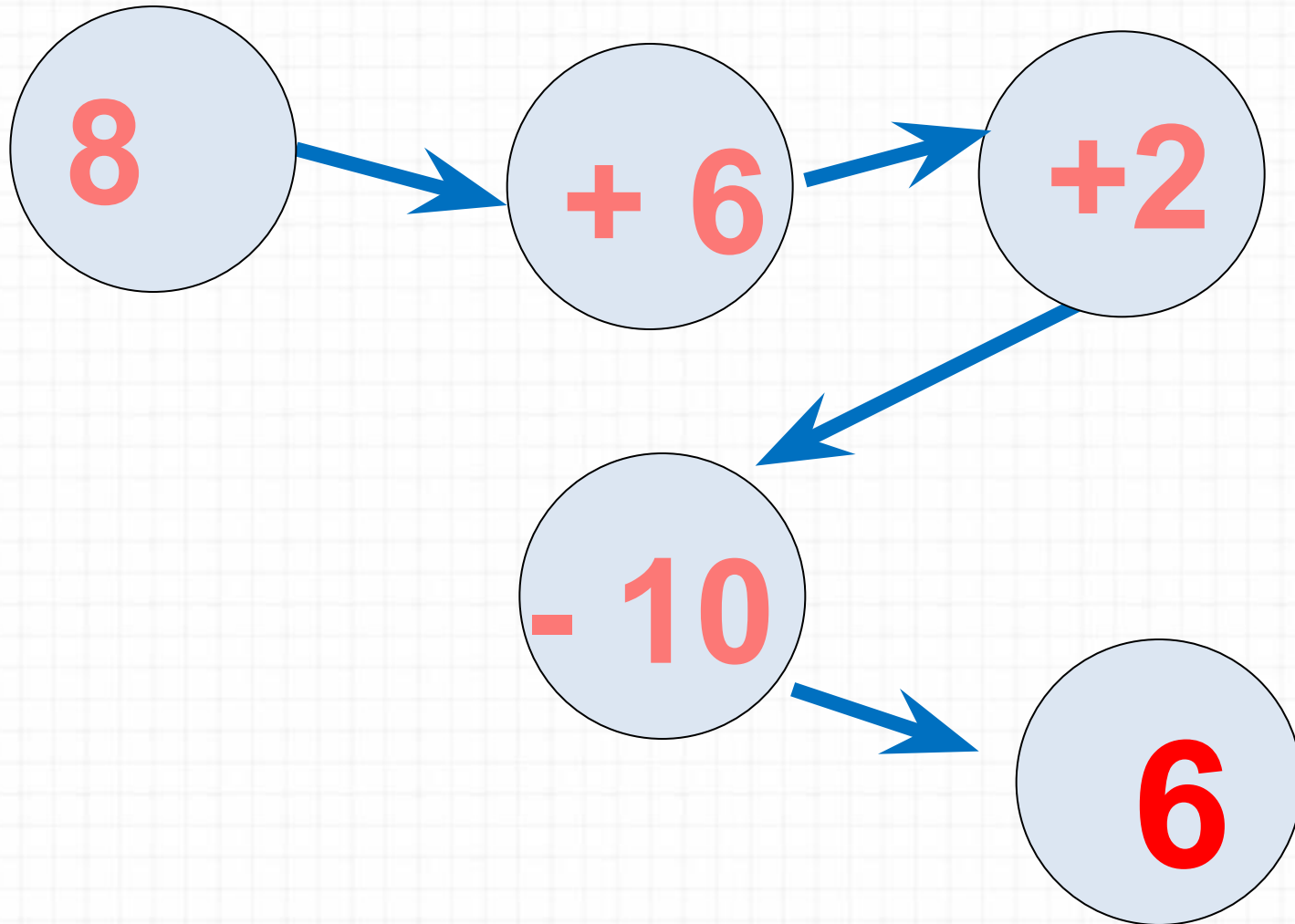
Случаи сложения вида $+ 7$ стр. 70



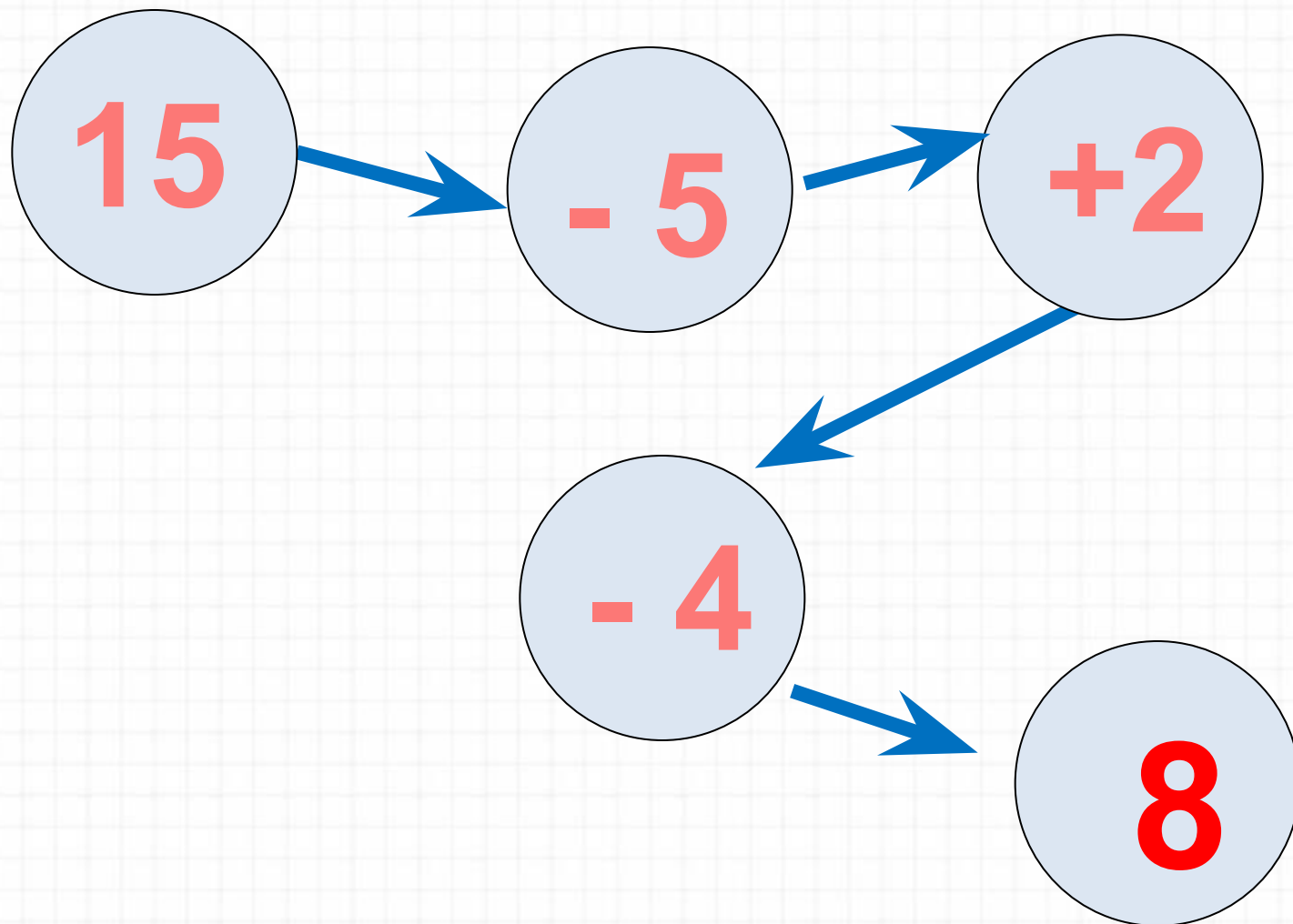
*Школа России
Математика 1 класс*



Реши цепочку примеров (устно).



Реши цепочку примеров (устно).



Расскажи, как удобнее прибавить 2 слагаемое. (устно)


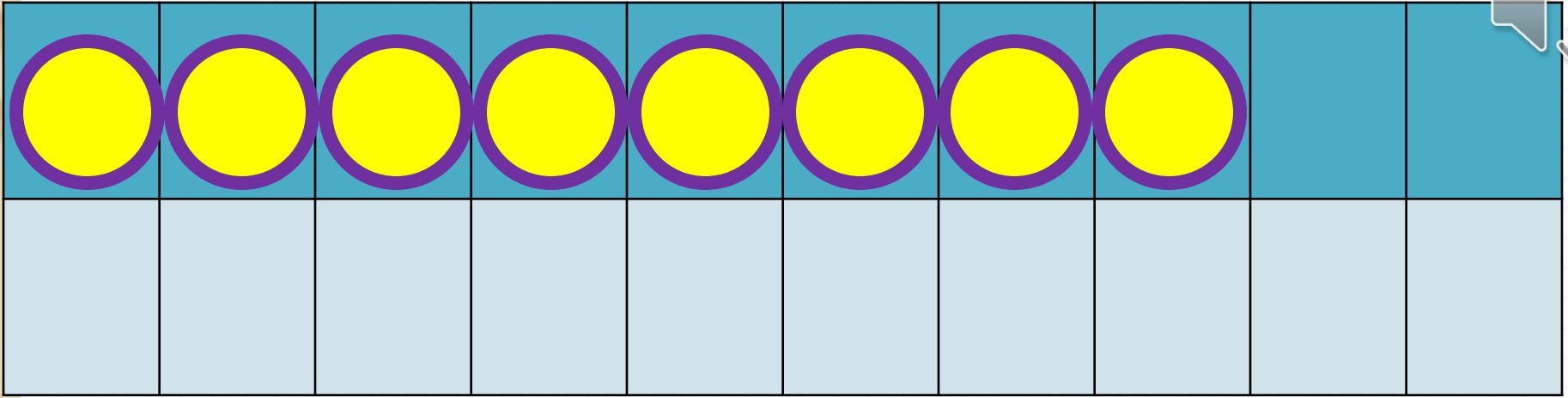
$$7 + 6 = 7 + \underline{\quad} + \underline{\quad}$$

$$8 + 4 = 8 + \underline{\quad} + \underline{\quad}$$

$$9 + 3 = 9 + \underline{\quad} + \underline{\quad}$$


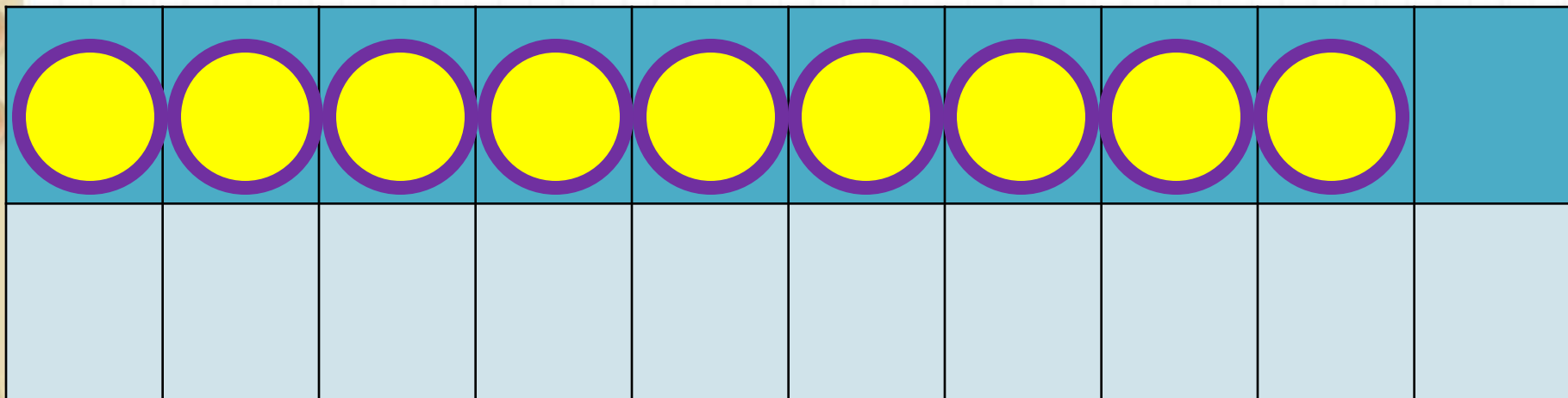
Новый материал






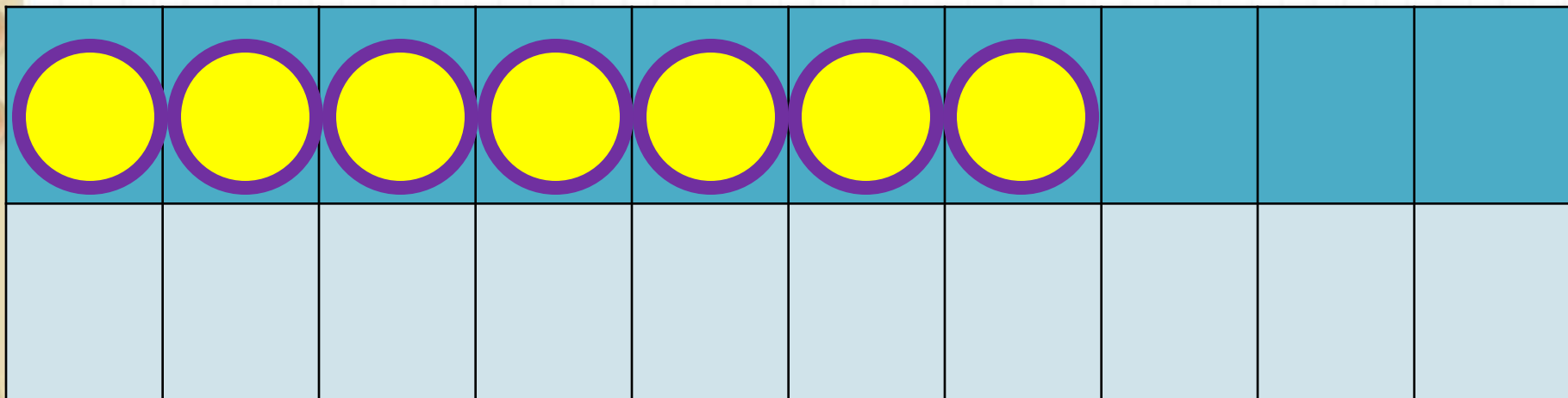
$$8 + 7$$

$$8 + 2 + 5$$



$$9 + 7$$

$$9 + 1 + 6$$



$$7 + 7$$

$$7 + 2 + 5$$

Запомни!

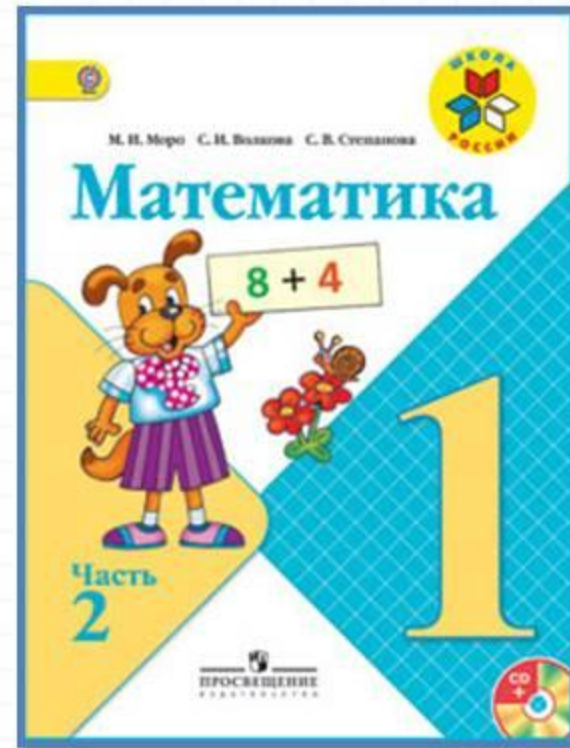
$$7 + 7 = 14$$

$$8 + 7 = 15$$

$$9 + 7 = 16$$

Какое число учились прибавлять?

Работа по учебнику



стр. 70

Объясни, как к числу 9 прибавить 7.



$$\begin{array}{r} 9 + 7 \\ \hline 9 + 1 + 6 \end{array}$$

Рассуждая так же, вычисли.

$$\begin{array}{r} 8 + 7 \\ \hline 8 + 2 + \square \end{array}$$

$$\begin{array}{r} 7 + 7 \\ \hline 7 + \square + \square \end{array}$$

Запомни!

$$9 + 7 = 16$$

$$8 + 7 = 15$$

$$7 + 7 = 14$$

У.стр.70 №1, 2

Работа в тетради

стр. 37



$\square + 8$

$\square + 9$

1

12	
\square	3
6	\square
\square	4
5	\square

$12 - \square = 8$

$12 - \square = 3$

$12 - \square = 6$

$12 - \square = 7$

13	
4	\square
\square	7
8	\square
\square	6

$13 - \square = 8$

$13 - \square = 6$

$13 - \square = 4$

$13 - \square = 5$

- 2 На одном подоконнике было 4 цветка, а на другом — 5 цветков. Таня полила 7 цветков. Сколько цветков осталось полить Тане?
Закрась карточку с решением задачи.

$4 + 7 - 5 = 6$

$4 + 5 - 7 = 2$

$5 + 7 - 4 = 8$

- 1 Красным цветом закрась карточки, на которых записаны примеры с ответом 14, а синим — с ответом 13.

$8 + 6$

$9 + 4$

$6 + 4 + 3$

$7 + 7$

$9 + 5$

- 2 Начерти 2 отрезка: один на 2 см длиннее данного, а другой на 2 см короче данного.



На сколько второй из начерченных отрезков короче первого?