

Устный счет в пределах 10. Состав чисел 7,8

Безденежных Марина Николаевна
МБОУ «СОШ № 25» города Абакана,
республики Хакасия



Расставь числа в порядке возрастания.

1 3 5 7 8 9

3 9 7 1 5 8

Какое число лишнее?
Почему?

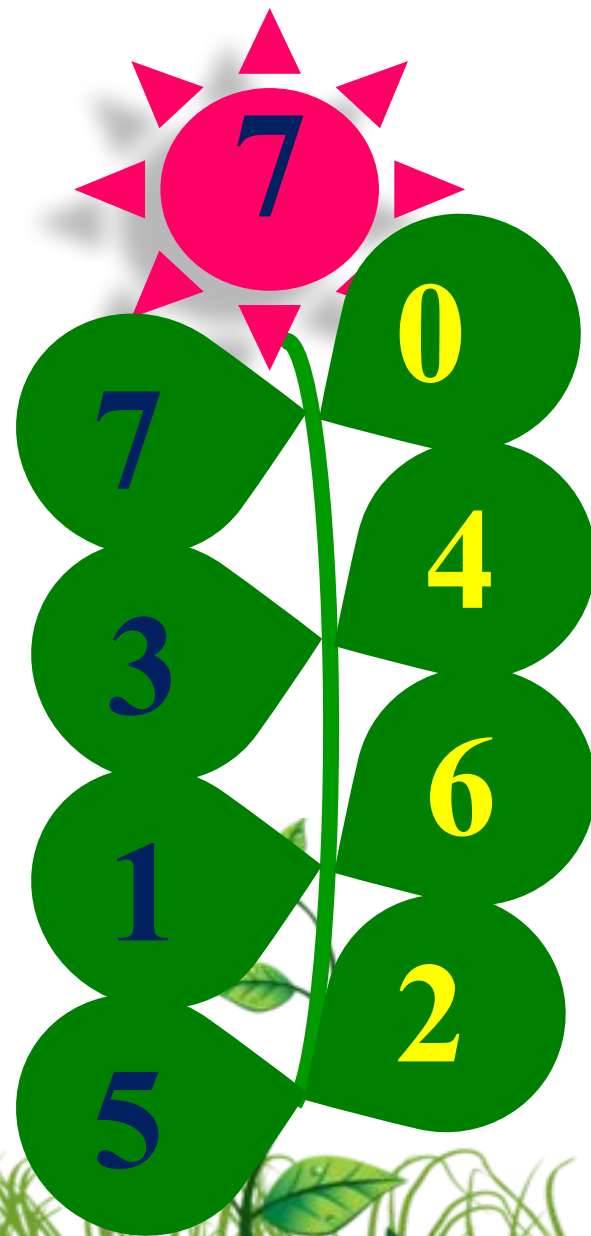

Расставь числа в порядке убывания.

10 8 6 4 3 2

3 2 4 10 6 8

**Какое число лишнее?
Почему?**





$8 - 2 = 6$

$2 + 2 = 4$

$5 - 2 = 3$

$5 - 3 = 2$

$3 + 3 = 6$

$6 + 2 = 8$

$9 - 2 = 7$

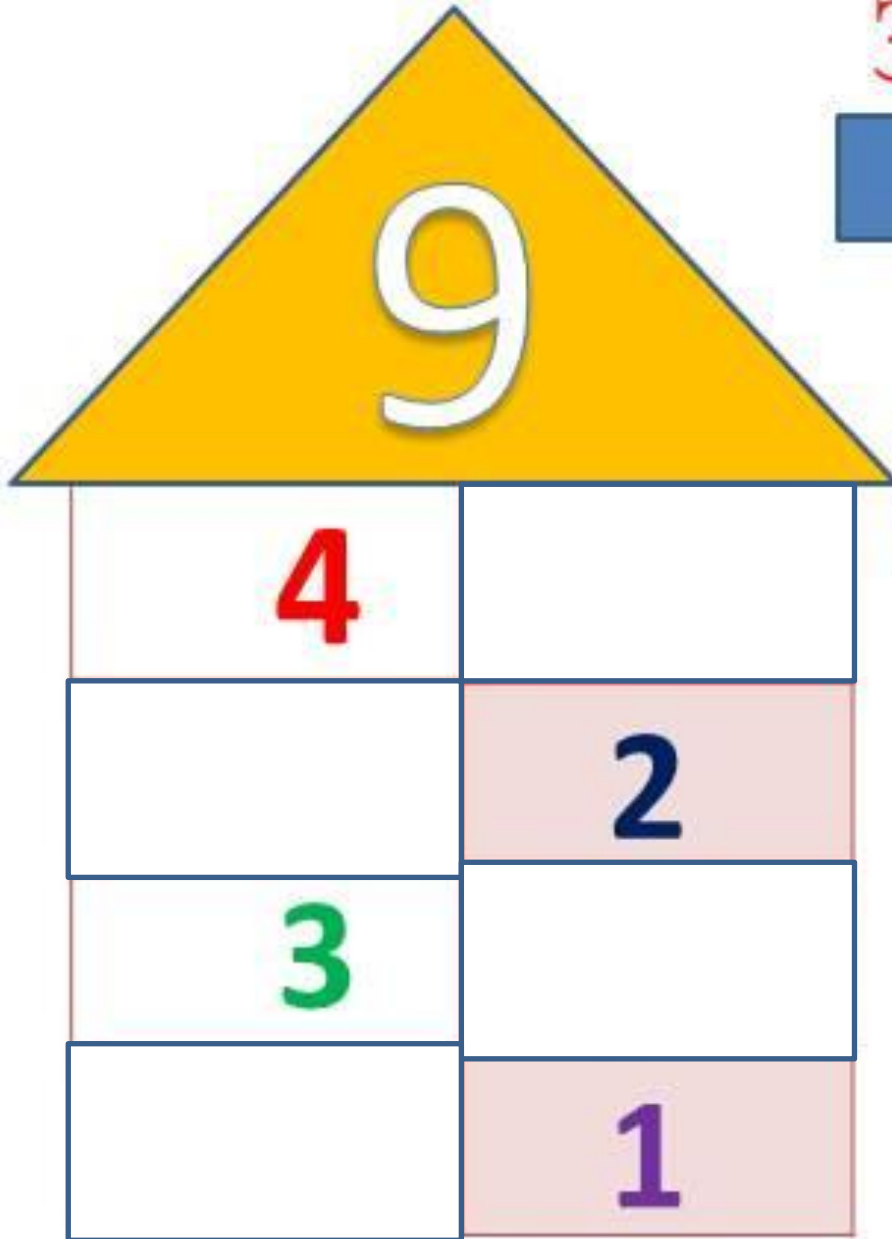
$7 + 2 = 9$

$7 + 3 = 10$

$9 - 3 = 6$



Засели домик




$9-7=2$

$9-5=4$

$9-8=1$

$9-6=3$





$$\text{cloud} + 3 = 7$$

$$2 + \text{cloud} = 5$$


$$\text{cloud} + 2 + 3 = 10$$

$$8 - \text{cloud} + 3 = 9$$


$$\text{cloud} + 3 = 6$$

$$3 + \text{cloud} = 4$$


$$3 + \text{cloud} - 1 = 5$$

$$\text{cloud} - 2 - 3 = 4$$


На дороге лежит пятикопеечная монета. По дороге идут два мальчика. Сколько монет найдут дети?



На полянке летало 9 бабочек.
3 бабочки улетело. Сколько бабочек
осталось?




$$9 - 3 = 6 \text{ (б.)}$$

Ответ: 6 бабочек осталось.



Жираф, крокодил и бегемот жили в разных домиках. Жираф жил не в красном и не в синем домике. Крокодил жил не в красном и не в оранжевом домике. Догадайся, кто из зверей в каком домике жил?



Ж. - + -

К. - - +

Б. +



Посчитай!

$8+2=$	<input type="text" value="10"/>	$7=$	$10-4$	<input type="text" value="3"/>	<input type="text" value="6"/>
$10-6=$	<input type="text" value="4"/>	$8=$	$10-2$	<input type="text" value="2"/>	<input type="text" value="8"/>
$7+3=$	<input type="text" value="10"/>	$5=$	$1+9=$	<input type="text" value="5"/>	<input type="text" value="10"/>
$10-9=$	<input type="text" value="1"/>	$4=$	$10-3$	<input type="text" value="10"/>	<input type="text" value="7"/>

<https://m.fotostrana.ru/public/post/234154/1517609983/>

https://klv-oboi.ru/img/gallery/3/thumbs/thumb_l_31974.jpg

http://fotooboi-na-steny.ru/wp-content/uploads/2017/09/thumb_l_5031.jpg

<https://i.pinimg.com/originals/1e/39/18/1e39188bc69042b5d79b99448a1c9be3.png>