



НАЧАТЬ ИГРУ



Ты - пешеход

1

2

3

4

Угадай знак

1

2

3

4

Ты - велосипедист

1

2

3

4

**Вопросы
светофорика**

1

2

3

4

Случай на дороге

1

2

3

4

Ты - пешеход 1



Где может ходить пешеход?

ПО МОСТОВОЙ

ПО ШОССЕ

ПО ТРОТУАРУ



Ты - пешеход 1



Где может ходить пешеход?

по тротуару



Ты - пешеход

2



*Куда надо посмотреть
сначала, переходя улицу?*

вперёд

направо

налево



Ты - пешеход

2



*Куда надо посмотреть
сначала, переходя улицу?*

налево



Ты - пешеход

3



Как называют наземный переход, отмеченный на асфальте белыми полосами?

олень

зебра

лошадь



Ты - пешеход

3



Как называют наземный переход, отмеченный на асфальте белыми полосами?

зебра



Ты пешеход 4



Какой знак разрешает движение пешеходам?



Ты пешеход 4



Какой знак разрешает движение пешеходам?




Ты пешеход 4



Пешеходная дорожка





Угадай знак

1

*Я хочу спросить про знак,
Нарисован он вот так:
В треугольнике ребята
Со всех ног спешат куда-то*



«Дети»

«Осторожно: кросс!»

«Беговая дорожка»





Угадай знак


1

*Я хочу спросить про знак,
Нарисован он вот так:
В треугольнике ребята
Со всех ног спешат куда-то*



«Дети»





Угадай знак

2

*Видно, строить будут дом:
Кирпичи висят кругом.
Для кого этот знак?
Как он называется?*



для пешеходов

для зверей

для водителей





Угадай знак


2

*Видно, строить будут дом:
Кирпичи висят кругом.
Для кого этот знак?
Как он называется?*



для водителей






Угадай знак

2



Въезд запрещён






Угадай знак

3

*В знаке я не разобрался
И упал, перепугался...
А понять его не сложно:
Друг! Спускайся осторожно!*





Угадай знак


3

*В знаке я не разобрался
И упал, перепугался...
А понять его не сложно:
Друг! Спускайся осторожно!*



Крутой спуск






Угадай знак

3

*В знаке я не разобрался
И упал, перепугался...
А понять его не сложно:
Друг! Спускайся осторожно!*






Угадай знак

3



Крутой спуск






Угадай знак

4

*Тормозить здесь можно смело,
Но нельзя стоять без дела.
Пассажиров ты сажай,
И скорее уезжай!*





Угадай знак

4

*Тормозить здесь можно смело,
Но нельзя стоять без дела.
Пассажиров ты сажай,
И скорее уезжай!*





Угадай знак

4



Стоянка запрещена



Ты - велосипедист 1



*Что означает
этот знак?*



движение на велосипедах ограничено

движение на велосипедах запрещено

движение на велосипедах разрешено



Ты - велосипедист 1



*Что означает
этот знак?*



движение на велосипедах запрещено



Ты - велосипедист 2



*С какого возраста можно
ездить на велосипеде по
дорогам общего пользования?*

С 10 лет

С 12 лет

С 14 лет



Ты - велосипедист 2



*С какого возраста можно
ездить на велосипеде по
дорогам общего пользования?*

С 14 лет



Ты велосипедист 3



*Нужно ли соблюдать
велосипедисту правила
дорожного движения?*

да

нет

не обязательно



Ты велосипедист 3



*Нужно ли соблюдать
велосипедисту правила
дорожного движения?*

да



Ты - велосипедист 4



Что не нужно проверять у велосипеда прежде, чем выехать из дома?

ШИНЫ

тормоза

сигнал

всё нужно проверять



Ты - велосипедист 4



*Что не нужно проверять у
велосипеда прежде, чем выехать
из дома?*

всё нужно проверять



Вопросы Светофорика

1



К какой группе можно отнести эти знаки?



указательные

предписывающие

запрещающие



Вопросы Светофорика

1



К какой группе можно отнести эти знаки?



предписывающие



Вопросы Светофорика 2

К какой группе можно отнести эти знаки?



предупреждающие

указательные

запрещающие



Вопросы Светофорика 2

К какой группе можно отнести эти знаки?



запрещающие



Вопросы Светофорика

3



К какой группе можно отнести эти знаки?



предупреждающие

запрещающие

указывающие



Вопросы Светофорика

3



К какой группе можно отнести эти знаки?



предупреждающие




Вопросы Светофорика

4



К какой группе можно отнести эти знаки?



предупреждающие

знаки сервиса


указательные



Вопросы Светофорика 4



К какой группе можно отнести эти знаки?



знаки сервиса




Случай на дороге 1

На картинке под каким номером пешеходы и велосипедисты поступают верно? Почему?




Случай на дороге 2

На картинке под каким номером пешеходы и велосипедисты поступают верно? Почему?



Случай на дороге 3

На картинке под каким номером пешеходы и велосипедисты поступают верно? Почему?



Случай на дороге 4

На картинке под каким номером пешеходы и велосипедисты поступают верно? Почему?

